

## FUNDAMENTAL COMPLETO

Códigos: 201 a 205

### LEIA COM ATENÇÃO AS SEGUINTE INSTRUÇÕES

1. Este caderno contém as questões da **Prova Objetiva**.
2. Use a Folha de Respostas (versão do Candidato) reproduzida ao final deste caderno apenas para marcar o Gabarito.
3. Ao receber a **Folha de Respostas da Prova Objetiva**:
  - Confira seu nome, número de inscrição e cargo.
  - Assine, **A TINTA**, no espaço próprio indicado.

4. **ATENÇÃO**: transcreva no espaço apropriado da sua **FOLHA DE RESPOSTAS**, com sua caligrafia usual, mantendo as letras maiúsculas e minúsculas, desconsiderando aspas e autoria, a seguinte frase:

**“Onde não há igualdade, a amizade não perdura.” Platão**

#### ATENÇÃO:

**FOLHA DE RESPOSTAS SEM ASSINATURA NÃO TEM VALIDADE.**

5. Ao transferir as respostas para a **Folha de Respostas**:

01  A  B  C  D • use apenas caneta esferográfica azul ou preta.

02  A  B  C  D • preencha, sem forçar o papel, toda a área reservada à letra correspondente à resposta solicitada em cada questão.

03  A  B  C  D • assinale somente **uma** alternativa em cada questão.

04  A  B  C  D Sua resposta **NÃO** será computada se houver marcação de mais de uma alternativa, questões não assinaladas ou rasuras.

#### NÃO DEIXE NENHUMA QUESTÃO SEM RESPOSTA.

A **Folha de Respostas** não deve ser dobrada, amassada ou rasurada.

**ATENÇÃO:** O tempo de duração das provas abrange a assinatura da Folha de Respostas e a transcrição das respostas do Caderno de Questões da Prova Objetiva (Folha de Respostas e rascunho) para o Caderno definitivo. Deverá ser resguardado o Período de Sigilo, não sendo permitido ao candidato se ausentar em definitivo da sala de provas antes de decorrida 1 (uma) hora e 30 (trinta) minutos do início das provas. Os candidatos não poderão utilizar, em hipótese alguma, lápis, lapiseira, corretivos, borracha ou outro material distinto do constante em Edital. Quaisquer acessórios como óculos escuros, boné, chapéu, gorro, lenço ou similares não terão seu uso permitido. As instruções constantes no Caderno de Questões e na Folha de Resposta, bem como as orientações e instruções expedidas pela FUNDEP durante a realização das provas, complementam o Edital e deverão ser rigorosamente observadas e seguidas pelo candidato. Será proibida, durante a realização das provas, qualquer espécie de consulta ou comunicação entre os candidatos ou entre estes e pessoas estranhas, oralmente ou por escrito, assim como não será permitido o uso de livros, códigos, manuais, impressos, anotações ou quaisquer outros meios. Será proibido, durante a realização das provas, fazer uso ou portar, mesmo que desligados, telefone celular, relógios, pagers, beep, agenda eletrônica, calculadora, walkman, notebook, palmtop, gravador, transmissor/receptor de mensagens de qualquer tipo ou qualquer outro equipamento eletrônico. Findo o horário-limite para a realização da prova, o candidato deverá entregar a Folha de Respostas da Prova Objetiva, devidamente preenchida e assinada, ao Aplicador de Sala, assim como o Caderno de Provas. Os três últimos candidatos deverão permanecer na sala até que o último candidato termine sua prova, devendo todos assinar a Ata de Ocorrências da sala, atestando a idoneidade da fiscalização das provas, retirando-se da sala de prova de uma só vez.

O Caderno de Questões e os gabaritos das Provas Objetivas serão divulgados no endereço eletrônico [www.gestaodeconcursos.com.br](http://www.gestaodeconcursos.com.br), no primeiro dia útil subsequente à data de realização da prova.

**DURAÇÃO MÁXIMA DA PROVA: 3 (TRÊS) HORAS**

# ATENÇÃO

Sr.(a) Candidato(a),

Antes de começar a fazer a prova, confira se este caderno contém, ao todo, **30 (trinta)** questões de múltipla escolha, cada uma constituída de 4 (quatro) alternativas de respostas, assim distribuídas: 10 (dez) questões de **Língua Portuguesa**, 10 (dez) questões de **Conhecimentos Gerais** e 10 (dez) questões de **Matemática**, todas perfeitamente legíveis.

Havendo algum problema, informe **imediatamente** ao aplicador de provas para que ele tome as providências necessárias.

Caso não observe essa recomendação, não lhe caberá qualquer reclamação ou recursos posteriores.

**INSTRUÇÃO:** Leia o texto a seguir para responder às questões de 1 a 10.

### **Tartaruga “sorridente”, extinta há quase 20 anos, é recuperada por grupo de conservação da Ásia**

A tartaruga-de-telhado-birmanesa, conhecida por tartaruga “sorridente”, estava na lista de animais extintos há quase 20 anos. A boa notícia é que, por causa de um projeto de conservação muito bem elaborado, a espécie foi trazida de volta.

O trabalho vem sendo realizado por conservacionistas da WCS, Turtle Survival Alliance (TSA), e do Departamento Florestal de Mianmar, país asiático. Eles descobriram que uma tartaruga “sorridente” foi comprada no mercado chinês em 2000 e conseguiram resgatar o animal.

Pouco tempo depois, o grupo descobriu mais animais da espécie em bancos de areia nos rios Dokhtawady e Chindwin, também em Mianmar.

De lá para cá, as únicas tartarugas “sorridentes” foram cuidadas em cativeiro, onde um projeto de conservação foi todo pensado e montado somente para que a espécie sobrevivesse e reproduzisse.

Os profissionais da WCS enfim notificaram a recuperação da espécie nesta semana. Hoje já existe uma população de aproximadamente mil tartarugas sob os cuidados do grupo.

Eles também divulgaram uma série de fotos mostrando as tartarugas birmanesas no criadouro, que fica na vila de Limpha, na região de Sagaing, em Mianmar.

Embora a boa notícia da recuperação da espécie, essas novas tartarugas foram geradas em cativeiro. Ainda haverá o processo de reinclusão do animal em seu habitat natural, que deve acontecer nos próximos meses.

A soltura também pode ser prejudicada pela caça à espécie, que foi exatamente o que causou a sua extinção.

O presidente da Turtle Survival Alliance, Rick Hudson, reconheceu que ainda faltam processos para que os cientistas possam determinar quais aspectos do meio ambiente precisam ser protegidos, evitando que a tartaruga não entre em extinção novamente.

Parte desse processo depende de nós, claro!

Disponível em: <https://cutt.ly/DfFUWkx>.  
Acesso em: 17 set. 2020 (adaptado).

### **QUESTÃO 1**

De acordo com o texto, assinale a alternativa correta.

- A) As tartarugas sorridentes, quando forem soltas, não correrão mais perigo de extinção.
- B) O grupo de conservação já conseguiu salvar outros tipos de animais extintos.
- C) As tartarugas sorridentes eram consideradas extintas há mais de três décadas.
- D) A principal causa de extinção da tartaruga sorridente foi a caça.

### **QUESTÃO 2**

São objetivos do projeto de conservação das tartarugas sorridentes:

- A) Sobrevivência e reprodução da espécie.
- B) Reprodução e comercialização da espécie.
- C) Sobrevivência e doação das tartarugas.
- D) Doação e comercialização das tartarugas.

### **QUESTÃO 3**

De acordo com o texto, assinale a alternativa incorreta.

- A) Ainda são necessários mais estudos para garantir a sobrevivência das tartarugas sorridentes na natureza.
- B) As primeiras tartarugas do projeto de conservação foram obtidas na natureza.
- C) O projeto de conservação criou condições específicas para a sobrevivência desse tipo de tartaruga.
- D) Um dos objetivos do projeto de conservação é devolver a tartaruga ao seu local na natureza.

### **QUESTÃO 4**

Releia este trecho.

“Parte desse processo depende de nós, claro!”

Ao escrever que somos parte desse processo, o autor quer dizer que se deve

- A) preservar o meio ambiente de forma geral.
- B) doar dinheiro para a campanha de preservação.
- C) caçar as tartarugas sorridentes e mandá-las para o projeto.
- D) participar de projetos de recuperação de animais extintos.

### **QUESTÃO 5**

Releia este trecho.

“Os profissionais da WCS enfim **notificaram** a recuperação da espécie nesta semana.”

Sem alterar o sentido da frase, a palavra destacada pode ser substituída por

- A) esconderam.
- B) comunicaram.
- C) responderam.
- D) descobriram.

### **QUESTÃO 6**

Assinale a alternativa em que as palavras apresentadas não são antônimos.

- A) Boa – Má.
- B) Bem – Mal.
- C) Protegidos – Resguardados.
- D) Cativeiro – Liberdade.

### QUESTÃO 7

Releia este trecho.

"[...] as únicas tartarugas "sorridentes" foram cuidadas em cativeiro [...]."

"As únicas tartarugas sorridentes" é o sujeito dessa oração. O núcleo do sujeito é

- A) sorridentes.
- B) únicas.
- C) tartarugas.
- D) as.

### QUESTÃO 8

Releia este trecho.

"Hoje já existe uma população de aproximadamente mil tartarugas sob os **cuidados** do grupo."

A palavra destacada é classificada como

- A) verbo.
- B) adjetivo.
- C) advérbio.
- D) substantivo.

### QUESTÃO 9

Assinale a alternativa em que a palavra destacada é um artigo indefinido.

- A) "**O** presidente da Turtle Survival Alliance [...]."
- B) "**A** soltura também pode [...]."
- C) "[...] **um** projeto de conservação muito bem elaborado [...]."
- D) "**Os** profissionais da WCS [...]."

### QUESTÃO 10

Releia este trecho.

"[...] Departamento Florestal de Mianmar, país **asiático**."

Assinale a alternativa que apresenta as classificações corretas da palavra destacada quanto ao número de sílabas e à sílaba tônica.

- A) Monossílabo – Paroxítona.
- B) Trissílabo – Oxítona.
- C) Dissílabo – Oxítona.
- D) Polissílabo – Proparoxítona.

## CONHECIMENTOS GERAIS

### QUESTÃO 11

O Rio Piranga tem sua nascente localizada

- A) na Cachoeira das Andorinhas.
- B) na Serra da Canastra.
- C) na Serra da Mantiqueira.
- D) na Serra do Espinhaço.

### QUESTÃO 12

Os Senadores da República são

- A) apresentados pelos Governadores para exercer mandato de quatro anos.
- B) eleitos pelo voto popular para um mandato de oito anos.
- C) indicados pelo STF com mandato de seis anos.
- D) nomeados pelo Presidente da República para mandatos de dois anos.

### QUESTÃO 13

Barragens de mineração são grandes estruturas construídas para

- A) armazenar água resultante da atividade de mineração.
- B) guardar materiais para recomposição de áreas danificadas pela mineração.
- C) proteger, com as barreiras, a área de mineração.
- D) ser depósito de rejeitos da mineração.

### QUESTÃO 14

Ao trazer a realidade do isolamento social, a pandemia do novo coronavírus obrigou professores e estudantes a manterem sua rotina escolar por meio de

- A) aulas ao ar livre.
- B) ensino remoto.
- C) estudos individualizados.
- D) ensino domiciliar.

### QUESTÃO 15

Assassinatos de mulheres pelo simples fato de elas serem mulheres são compreendidos como

- A) feminicídio.
- B) genocídio.
- C) homicídio.
- D) suicídio.

### QUESTÃO 16

Atualmente, a figura de influenciadores digitais tem sido constante no cotidiano por meio de

- A) canais de internet.
- B) grupos de amizade.
- C) programas de televisão.
- D) relações profissionais.

### QUESTÃO 17

Art. 14. O Sistema Único de Saúde promoverá programas de assistência médica e odontológica para a prevenção das enfermidades que ordinariamente afetam a população infantil e campanhas de educação sanitária para pais, educadores e alunos.

§ 1º É obrigatória a vacinação das crianças nos casos recomendados pelas autoridades sanitárias.

Disponível em: [http://www.planalto.gov.br/ccivil\\_03/leis/l8069.htm](http://www.planalto.gov.br/ccivil_03/leis/l8069.htm). Acesso em: 14 set. 2020.

De acordo com o artigo 14 do Estatuto da Criança e do Adolescente (ECA), a vacinação no Brasil é

- A) obrigatória e providenciada livremente pelos pais das crianças.
- B) obrigatória em determinados casos e ofertada pelo Estado.
- C) opcional desde que os pais assinem termo de responsabilidade.
- D) opcional, variando em função das convicções paternas.

### QUESTÃO 18

Em meio a um surto de dengue, o Brasil registrou um aumento de 113,7% nos casos prováveis da doença até abril deste ano, na comparação com o mesmo período do ano passado. Segundo boletim do Ministério da Saúde, divulgado nesta segunda-feira (2), foram 542.038 casos prováveis, entre a primeira e a décima sexta semana epidemiológica, período compreendido entre 2 de janeiro e 23 de abril de 2022. Esse número já é praticamente o mesmo que foi registrado em todo o ano de 2021, quando foram contabilizados 544 mil casos prováveis de dengue.

Disponível em: <https://agenciabrasil.ebc.com.br/saude/noticia/2022-05/casos-de-dengue-aumentam-1137-nos-quatro-primeiros-meses-de-2022>. Acesso em: 12 nov. 2022.

Segundo o trecho da reportagem, a dengue segue avançando em 2022, apontando que

- A) o ano de 2022 registra os piores índices de contaminação por dengue no país.
- B) os números indicam estabilidade de casos em perspectiva comparativa.
- C) os números dos primeiros meses de 2022 são semelhantes aos do ano de 2021.
- D) os primeiros meses do ano, de muito calor, favorecem a ocorrência da dengue.

### QUESTÃO 19

Durante uma pandemia global, uma das maneiras mais baratas, mais fáceis e mais importantes de impedir a propagação de um vírus é lavar as mãos frequentemente com água e sabão.

Disponível em: <https://www.unicef.org/brazil/historias/tudo-o-que-voce-precisa-saber-sobre-como-lavar-maos-para-se-proteger-contr-o-coronavirus>. Acesso em: 2 de abr. 2020.

É importante lavar as mãos com água e sabão para se evitar o contágio pelo Covid-19 porque

- A) a doença prefere superfícies sujas, onde encontram maior nível de aderência.
- B) as mãos são um dos meios mais comuns de transmissão do vírus.
- C) é preciso aproveitar a pandemia para disseminar novos hábitos de higiene.
- D) o vírus é transmitido pelo contato físico, em cumprimentos e abraços.

### QUESTÃO 20

Perda acumulada (em km<sup>2</sup>) de vegetação no Pantanal

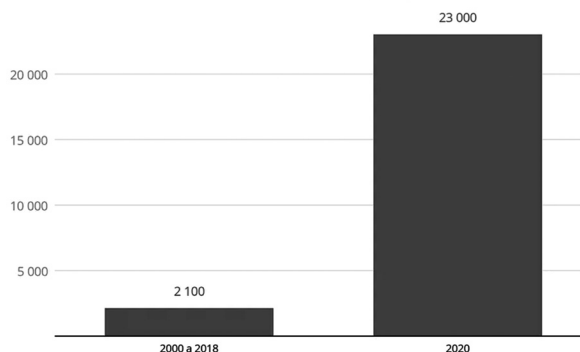


Gráfico: Economia/G1 • Fonte: IBGE

Disponível em: <https://g1.globo.com/natureza/noticia/2020/09/24/pantanal-bioma-mais-preservedo-ate-2018-perdeu-ao-menos-10-vezes-mais-area-em-2020-que-em-18-anos.ghtml>. Acesso em: 24 set. 2020.

O ano de 2020 no Brasil registrou um grande número de incêndios, especialmente na região do Pantanal.

Os dados do gráfico revelam que

- A) a área devastada por incêndios em 2020 supera em 10 vezes o que foi perdido em 18 anos.
- B) a forte onda de calor é a causa dos incêndios que se abateram sobre o Pantanal.
- C) nos anos de 2000 a 2018, não foram aferidos os dados de incêndios no Pantanal.
- D) os incêndios possibilitaram o aumento nas áreas de cultivo agrícola e pastagens no Pantanal.

## MATEMÁTICA

### QUESTÃO 21

Uma universidade realizou o levantamento do número de alunos matriculados em 5 cursos nos turnos manhã e tarde. Observe o resultado.

	Número de Alunos – por curso / por turno				
	CURSOS				
	PEDAGOGIA	MATEMÁTICA	HISTÓRIA	GEOGRAFIA	LETRAS
MANHÃ	45	51	37	41	53
TARDE	39	46	34	33	49

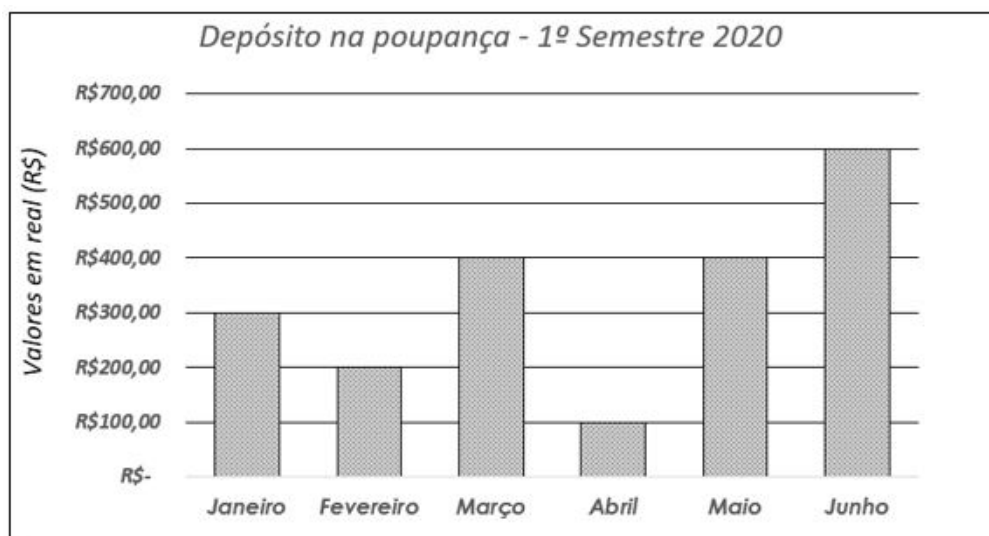
Fonte: Dados fictícios.

Qual é o número total de alunos matriculados nos 5 cursos no turno da manhã?

- A) 174 alunos.
- B) 227 alunos.
- C) 201 alunos.
- D) 428 alunos.

### QUESTÃO 22

O gráfico a seguir apresenta os depósitos que Mariana realizou em sua conta poupança no 1º semestre de 2020.



Fonte: Dados fictícios.

Com base nas informações do gráfico, assinale a alternativa correta.

- A) Os maiores valores foram depositados nos meses de janeiro e junho.
- B) Os menores valores foram depositados nos meses de janeiro e fevereiro.
- C) Nos meses de março e abril, foram depositados ao todo R\$ 600,00.
- D) Nos meses de janeiro e fevereiro, foram depositados ao todo R\$ 500,00.

### QUESTÃO 23

Observe a promoção que a loja “Eletrójà” anunciou.



Fonte: Dados fictícios.

João comprou o *notebook* da promoção. Pagou R\$ 499,00 de entrada e dividiu o restante em 4 parcelas iguais, sem juros. Qual é o valor de cada parcela?

- A) R\$ 200,00.
- B) R\$ 400,00.
- C) R\$ 600,00.
- D) R\$ 800,00.

### QUESTÃO 24

Luiza assistiu a dois filmes no sábado. O primeiro filme tinha 125 minutos de duração, e o segundo filme, 90 minutos. Em quanto tempo Luiza assistiu aos dois filmes?

- A) 6 horas e 35 minutos.
- B) 4 horas e 15 minutos.
- C) 3 horas e 35 minutos.
- D) 2 horas e 15 minutos.

### QUESTÃO 25

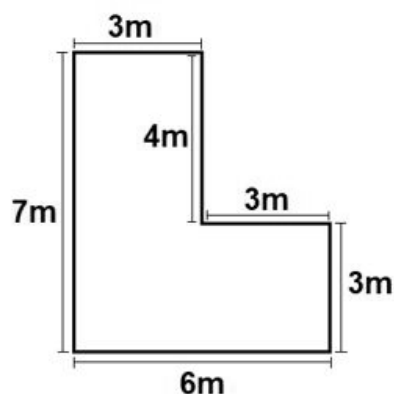
Um produtor de hortaliças dividiu seu terreno em 20 canteiros. Plantou alface em 5 deles, almeirão em outros 4 e mostarda em 3 canteiros.

Qual fração a seguir representa a parte não plantada desse terreno?

- A)  $\frac{3}{5}$ .
- B)  $\frac{2}{5}$ .
- C)  $\frac{1}{5}$ .
- D)  $\frac{1}{2}$ .

### QUESTÃO 26

Observe a planta de um jardim que Luciana irá construir na entrada de sua casa.



Qual é o perímetro desse jardim?

- A) 26 m.
- B) 23 m.
- C) 22 m.
- D) 20 m.

### QUESTÃO 27

Considere que João, estudante do Ensino Médio, lê diariamente 35 páginas de livros. Quantas páginas ele conseguiu ler ao longo de 30 dias?

- A) 1050 páginas.
- B) 1055 páginas.
- C) 270 páginas.
- D) 245 páginas.

### QUESTÃO 28

Observe a tabela que apresenta os preços do etanol e da gasolina em quatro postos de combustível em diferentes bairros da cidade de “Laranjeira”.

Preços por litro		
Bairros	Etanol	Gasolina
Industrial	R\$ 2,903	R\$ 4,793
Aimorés	R\$ 2,810	R\$ 4,823
São Miguel	R\$ 2,167	R\$ 5,217
Lagoa	R\$ 2,041	R\$ 4,706

Fonte: Dados fictícios.

O posto de gasolina que apresenta a maior diferença entre o preço do etanol e o da gasolina está localizado em qual bairro?

- A) Industrial.
- B) Aimorés.
- C) São Miguel.
- D) Lagoa.

### QUESTÃO 29

Em uma loja de eletrodoméstico, um liquidificador custava R\$ 210,00. No mês de janeiro de 2022, ele sofreu um aumento de 15%, e depois, no mês de fevereiro, sofreu um desconto de 20%. Qual o preço desse liquidificador em fevereiro?

- A) R\$ 168,00.
- B) R\$ 193,20.
- C) R\$ 210,00.
- D) R\$ 214,00.

### QUESTÃO 30

Observe na tabela a seguir os preços de alguns sabores de suco no restaurante “Sabor&cia”.

<b>SUCOS NATURAIS</b>	
500ml	
<b>Laranja</b>	R\$ <b>5,00</b>
<b>Abacaxi</b>	R\$ <b>4,00</b>
<b>Acerola</b>	R\$ <b>6,00</b>
<b>Manga</b>	R\$ <b>4,00</b>
<b>Morango</b>	R\$ <b>7,00</b>

Fonte: Dados fictícios.

Em um almoço, Carla e sua família consumiram 3 sucos de acerola, 2 sucos de abacaxi e 1 suco de morango.

Qual foi o gasto total com sucos naturais nesse almoço?

- A) R\$ 33,00.
- B) R\$ 27,00.
- C) R\$ 26,00.
- D) R\$ 11,00.



# FOLHA DE RESPOSTAS (VERSÃO DO CANDIDATO)

1	A	B	C	D	16	A	B	C	D
	<input type="checkbox"/>	<input type="checkbox"/>	<input type="checkbox"/>	<input type="checkbox"/>		<input type="checkbox"/>	<input type="checkbox"/>	<input type="checkbox"/>	<input type="checkbox"/>
2	A	B	C	D	17	A	B	C	D
	<input type="checkbox"/>	<input type="checkbox"/>	<input type="checkbox"/>	<input type="checkbox"/>		<input type="checkbox"/>	<input type="checkbox"/>	<input type="checkbox"/>	<input type="checkbox"/>
3	A	B	C	D	18	A	B	C	D
	<input type="checkbox"/>	<input type="checkbox"/>	<input type="checkbox"/>	<input type="checkbox"/>		<input type="checkbox"/>	<input type="checkbox"/>	<input type="checkbox"/>	<input type="checkbox"/>
4	A	B	C	D	19	A	B	C	D
	<input type="checkbox"/>	<input type="checkbox"/>	<input type="checkbox"/>	<input type="checkbox"/>		<input type="checkbox"/>	<input type="checkbox"/>	<input type="checkbox"/>	<input type="checkbox"/>
5	A	B	C	D	20	A	B	C	D
	<input type="checkbox"/>	<input type="checkbox"/>	<input type="checkbox"/>	<input type="checkbox"/>		<input type="checkbox"/>	<input type="checkbox"/>	<input type="checkbox"/>	<input type="checkbox"/>
6	A	B	C	D	21	A	B	C	D
	<input type="checkbox"/>	<input type="checkbox"/>	<input type="checkbox"/>	<input type="checkbox"/>		<input type="checkbox"/>	<input type="checkbox"/>	<input type="checkbox"/>	<input type="checkbox"/>
7	A	B	C	D	22	A	B	C	D
	<input type="checkbox"/>	<input type="checkbox"/>	<input type="checkbox"/>	<input type="checkbox"/>		<input type="checkbox"/>	<input type="checkbox"/>	<input type="checkbox"/>	<input type="checkbox"/>
8	A	B	C	D	23	A	B	C	D
	<input type="checkbox"/>	<input type="checkbox"/>	<input type="checkbox"/>	<input type="checkbox"/>		<input type="checkbox"/>	<input type="checkbox"/>	<input type="checkbox"/>	<input type="checkbox"/>
9	A	B	C	D	24	A	B	C	D
	<input type="checkbox"/>	<input type="checkbox"/>	<input type="checkbox"/>	<input type="checkbox"/>		<input type="checkbox"/>	<input type="checkbox"/>	<input type="checkbox"/>	<input type="checkbox"/>
10	A	B	C	D	25	A	B	C	D
	<input type="checkbox"/>	<input type="checkbox"/>	<input type="checkbox"/>	<input type="checkbox"/>		<input type="checkbox"/>	<input type="checkbox"/>	<input type="checkbox"/>	<input type="checkbox"/>
11	A	B	C	D	26	A	B	C	D
	<input type="checkbox"/>	<input type="checkbox"/>	<input type="checkbox"/>	<input type="checkbox"/>		<input type="checkbox"/>	<input type="checkbox"/>	<input type="checkbox"/>	<input type="checkbox"/>
12	A	B	C	D	27	A	B	C	D
	<input type="checkbox"/>	<input type="checkbox"/>	<input type="checkbox"/>	<input type="checkbox"/>		<input type="checkbox"/>	<input type="checkbox"/>	<input type="checkbox"/>	<input type="checkbox"/>
13	A	B	C	D	28	A	B	C	D
	<input type="checkbox"/>	<input type="checkbox"/>	<input type="checkbox"/>	<input type="checkbox"/>		<input type="checkbox"/>	<input type="checkbox"/>	<input type="checkbox"/>	<input type="checkbox"/>
14	A	B	C	D	29	A	B	C	D
	<input type="checkbox"/>	<input type="checkbox"/>	<input type="checkbox"/>	<input type="checkbox"/>		<input type="checkbox"/>	<input type="checkbox"/>	<input type="checkbox"/>	<input type="checkbox"/>
15	A	B	C	D	30	A	B	C	D
	<input type="checkbox"/>	<input type="checkbox"/>	<input type="checkbox"/>	<input type="checkbox"/>		<input type="checkbox"/>	<input type="checkbox"/>	<input type="checkbox"/>	<input type="checkbox"/>

AO TRANSFERIR ESSAS MARCAÇÕES PARA A FOLHA DE RESPOSTAS,  
OBSERVE AS INSTRUÇÕES ESPECÍFICAS DADAS NA CAPA DA PROVA.

**USE CANETA ESFEROGRÁFICA AZUL OU PRETA.**

**ATENÇÃO:  
AGUARDE AUTORIZAÇÃO  
PARA VIRAR O CADERNO DE PROVA.**