

Contador

- Confira devidamente o material (CARTÃO DE RESPOSTAS e CADERNO DE QUESTÕES); se houver falha, solicite a substituição ao fiscal.
- Este caderno de questões está assim constituído:

DISCIPLINAS	Nº QUESTÕES
Português	10
Informática	05
Matemática	05
Legislação, Conhecimentos Gerais e Específicos	20
Total de questões	40

- Após conferir seus dados no cartão de respostas (NOME, Nº da INSCRIÇÃO e CARGO), assine no local indicado.
- O CARTÃO DE RESPOSTAS é o único documento de correção, devendo ser preenchido com bastante atenção, à caneta esferográfica, azul ou preta, ponta grossa, marcando uma única alternativa em cada questão. Verifique no cartão de respostas as instruções para preenchimento. Não rasure, não amasse nem dobre o CARTÃO DE RESPOSTAS; evite usar borracha. É vedada a substituição do CARTÃO DE RESPOSTAS decorrente de erro cometido por candidato.
- Se o CARTÃO DE RESPOSTAS contiver maior número de alternativas e/ou de questões, preencha apenas as correspondentes à sua prova; as demais ficam em branco.
- Durante a realização da prova, não é permitida a comunicação entre candidatos nem a utilização de máquina calculadora e/ou similares, livros, anotações, régua de cálculo, impressos ou qualquer outro material de consulta.
- O tempo de duração da prova objetiva será de **até 3 horas**, incluído o tempo para preenchimento do Cartão de Respostas. O candidato somente poderá levar consigo seu caderno de provas após uma hora contada do efetivo início das provas. Ao candidato que sair antes de uma hora contada do efetivo início das provas, será permitido copiar seu cartão de respostas, para conferência com o gabarito oficial.
- Em todas as questões de legislação desta prova (se houver), serão consideradas as emendas e/ou alterações da legislação com entrada em vigor até a data do início das inscrições.
- Na prova de Português será exigida a norma ortográfica atualmente em vigor.
- Ao final dos trabalhos, **DEVOLVA** ao Fiscal da sala o CARTÃO DE RESPOSTAS devidamente preenchido e assinado.
- Os três últimos candidatos de cada sala de prova deverão permanecer no recinto, a fim de acompanhar os fiscais até a coordenação para o lacre dos envelopes, quando, então, poderão retirar-se do local, simultaneamente, após concluído.

Direitos autorais reservados à Objetiva Concursos Ltda. Proibida a reprodução, ainda que parcial, sem autorização prévia.

Boa Prova!

Seriedade e ética: nós acreditamos nesses valores.

Nome do(a) Candidato(a)

Nº de inscrição

✂ ----- Esta parte destacável serve para copiar as suas respostas, somente poderá ser destacada no ato da entrega do material na mesa do fiscal. -----

01	<input type="checkbox"/>	02	<input type="checkbox"/>	03	<input type="checkbox"/>	04	<input type="checkbox"/>	05	<input type="checkbox"/>	06	<input type="checkbox"/>	07	<input type="checkbox"/>	08	<input type="checkbox"/>	09	<input type="checkbox"/>	10	<input type="checkbox"/>
11	<input type="checkbox"/>	12	<input type="checkbox"/>	13	<input type="checkbox"/>	14	<input type="checkbox"/>	15	<input type="checkbox"/>	16	<input type="checkbox"/>	17	<input type="checkbox"/>	18	<input type="checkbox"/>	19	<input type="checkbox"/>	20	<input type="checkbox"/>
21	<input type="checkbox"/>	22	<input type="checkbox"/>	23	<input type="checkbox"/>	24	<input type="checkbox"/>	25	<input type="checkbox"/>	26	<input type="checkbox"/>	27	<input type="checkbox"/>	28	<input type="checkbox"/>	29	<input type="checkbox"/>	30	<input type="checkbox"/>
31	<input type="checkbox"/>	32	<input type="checkbox"/>	33	<input type="checkbox"/>	34	<input type="checkbox"/>	35	<input type="checkbox"/>	36	<input type="checkbox"/>	37	<input type="checkbox"/>	38	<input type="checkbox"/>	39	<input type="checkbox"/>	40	<input type="checkbox"/>

Seriedade e ética: nós acreditamos nesses valores.

PORTUGUÊS

Ande como alguém feliz para ser feliz

Uma pesquisa recente afirma que, para se sentir feliz, basta caminhar como uma pessoa alegre. Durante um experimento, uma série de pessoas foi testada para saber se estufar o peito e balançar os braços realmente traz mais felicidade do que passos pesados e olhares cabisbaichos. No estudo, o grupo teve de caminhar durante 15 minutos em uma esteira enquanto alguns fatores eram analisados. Os participantes foram acompanhados por câmeras com sensores de movimento. Na frente da esteira, uma tela mostrava as ações de um medidor – que pendia à esquerda quando caminhavam “deprimidos” e à direita quando “felizes”.

___ medida que os minutos iam passando, a equipe de pesquisadores pedia para que as pessoas tentassem jogar o medidor para a esquerda ou para a direita. Só que antes de começarem o teste físico, os convidados tiveram que ler uma lista de palavras positivas e negativas.

Depois da caminhada, os participantes tiveram que escrever as palavras que lembravam. O resultado mostrou que quem caminhava de maneira mais triste conseguiu lembrar mais palavras tristes; e aqueles que andaram felizes se lembraram de mais palavras positivas.

Para os pesquisadores, essa lógica está alinhada ___ de outros trabalhos publicados sobre o tema. Segundo tais pesquisas, andar como um líder pode aumentar as chances de se tornar um; e segurar uma caneta com os lábios pode aumentar a vontade de sorrir. Então não custa nada andar mais “animado” por aí. Vai que contagia.

<https://revistagalileu.globo.com/Ciencia/...> - adaptado.

1) Assinalar a alternativa que preenche as lacunas do texto CORRETAMENTE:

- a) A - a
- b) A - à
- c) À - à
- d) À - a

2) De acordo com o texto, analisar os itens abaixo:

I - O estudo indica que a forma como os participantes caminharam afetou o fato de se lembrarem de mais palavras positivas ou negativas.

II - Outras pesquisas parecem indicar também que a forma como se caminha pode afetar, por exemplo, a probabilidade de alguém se tornar um líder.

- a) Os itens I e II estão corretos.
- b) Somente o item I está correto.
- c) Somente o item II está correto.
- d) Os itens I e II estão incorretos.

3) A palavra “alinhada” (quarto parágrafo) poderia ser substituída sem alteração de sentido (admitindo-se possíveis ajustes) por:

- a) De acordo.
- b) Expandindo.
- c) Se opondo.
- d) Proporcional.

4) Conforme as normas de ortografia, marcar C para as afirmativas Certas, E para as Erradas e, após, assinalar a alternativa que apresenta a sequência CORRETA:

- () A palavra “traz” (primeiro parágrafo) está errada. Ela é homônima da palavra “trás”, que seria a palavra correta neste caso.
- () A palavra “cabisbaichos” (primeiro parágrafo) está errada. Sua grafia correta seria “cabisbaixos”.

- a) C - C.
- b) C - E.
- c) E - C.
- d) E - E.

5) Quanto à concordância nominal, marcar C para as sentenças Certas, E para as Erradas e, após, assinalar a alternativa que apresenta a sequência CORRETA:

- () Anexo estão as imagens de que lhe falei.
- () Para lidar com essa situação, é necessário sabedoria.
- () Cuidado com o que você fala, não estamos só.

- a) C - C - E.
- b) E - C - E.
- c) C - C - C.
- d) E - E - C.

6) Considerando-se as normas de colocação pronominal, assinalar a alternativa que preenche as lacunas abaixo CORRETAMENTE:

Quando _____ pra casa nova? _____ se precisarem de ajuda!

- a) mudam-se; Avisem-me
- b) mudam-se; Me avisem
- c) se mudam; Me avisem
- d) se mudam; Avisem-me

INFORMÁTICA

7) Assinalar a alternativa em que a(s) vírgula(s) está(ão) isolando o vocativo:

- a) Depois de entrar em casa, sentei por uns minutos para ler.
- b) Ontem conversamos com a Carla, a mãe das crianças.
- c) As opções incluem frango, carne ou peixe.
- d) Você tem um grande desafio pela frente, meu amigo.

8) Quanto ao uso dos porquês, numerar a 2ª coluna de acordo com a 1ª de forma a preencher as lacunas e, após, assinalar a alternativa que apresenta a sequência CORRETA:

- (1) porque
- (2) por que
- (3) por quê

- () Não imagino _____ ela faria uma coisa dessas.
- () Ela faria uma coisa dessas, mas não sei _____.

- a) 2 - 3.
- b) 2 - 1.
- c) 1 - 2.
- d) 1 - 3.

9) Todas as alternativas estão corretas em relação à concordância, EXCETO:

- a) Serão proibidas as ausências e os atrasos.
- b) Obteve bastante informações acerca do inquérito.
- c) Encontrou as alunas e os professores abatidos.
- d) Vossa Excelência agiu com moderação.

10) Sobre as vozes verbais, analisar os itens abaixo:

I - "Compraremos pizzas para o jantar." está na voz ativa.
II - "A música foi cantada pelo ator do filme." está na voz passiva.

- a) Os itens I e II estão corretos.
- b) Somente o item I está correto.
- c) Somente o item II está correto.
- d) Os itens I e II estão incorretos.

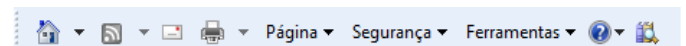
Atenção! Para responder às questões de Informática, a menos que seja explicitamente informado o contrário, considerar que os programas mencionados encontram-se na versão Português-BR e, em sua configuração padrão de instalação, possuem licença de uso, o mouse está configurado para destros, um clique ou duplo clique correspondem ao botão esquerdo do mouse e teclar corresponde à operação de pressionar uma tecla e, rapidamente, liberá-la, acionando-a apenas uma vez. Dessa forma, as teclas de atalho, os menus, os submenus, as barras, os ícones e os demais itens que compõem os programas abordados nesta prova encontram-se na configuração padrão.

11) Marcar C para as afirmativas Certas, E para as Erradas e, após, assinalar a alternativa que apresenta a sequência CORRETA:

- () Considerando-se que periféricos são aparelhos ou placas de expansão que enviam ou recebem informações do computador, pode-se afirmar que o microfone é considerado um periférico de saída e o teclado um periférico de entrada.
- () Software são os programas que comandam o funcionamento de um computador.
- () Hardware é a parte física de um computador, é formado pelos componentes eletrônicos, como por exemplo, circuitos de fios e luz, placas, utensílios, correntes, e qualquer outro material em estado físico, que seja necessário para fazer com o que computador funcione.

- a) C - E - E.
- b) E - C - C.
- c) C - C - C.
- d) E - E - C.


12) No Internet Explorer 9, a imagem abaixo se refere à barra de:



- a) Menus.
- b) Favoritos.
- c) Comandos.
- d) Status.

13) Assinalar a alternativa que corresponde a como sublinhar um texto selecionado no Word 2007:

- a) Aba Inserir + Sublinhar
- b) Aba Exibição + Sublinhar
- c) Ctrl+U
- d) Ctrl+S

14) No Excel 2007, determinada célula com o número 25454,63 foi selecionada, e, após, clicou-se no botão . Com isso, o Excel:

- a) Exibirá o valor da célula com um separador de milhares (25.454,63).
- b) Mostrará valores menos precisos, exibindo menos casas decimais (25454,6).
- c) Escolherá um formato alternativo de unidade monetária para a célula selecionada (R\$ 25.454,63).
- d) Mostrará valores mais precisos, exibindo mais casas decimais (25454,630).

15) De acordo com a Cartilha de Segurança para Internet, analisar os itens abaixo:

- I - Spams estão diretamente associados a ataques à segurança da internet e do usuário, sendo um dos grandes responsáveis pela propagação de códigos maliciosos, disseminação de golpes e venda ilegal de produtos.
- II - A criptografia, considerada como a ciência e a arte de escrever mensagens em forma cifrada ou em código, é um dos principais mecanismos de segurança que se pode usar para se proteger dos riscos associados ao uso da internet.

- a) Os itens I e II estão corretos.
- b) Somente o item I está correto.
- c) Somente o item II está correto.
- d) Os itens I e II estão incorretos.

MATEMÁTICA

16) O aumento das mensalidades escolares de certa escola foi de 8%. Se essa escola cobra, após o reajuste, uma mensalidade no valor de R\$ 468,72, qual era o valor dessa mesma mensalidade antes do reajuste?

- a) R\$ 444,00
- b) R\$ 434,00
- c) R\$ 424,00
- d) R\$ 420,00

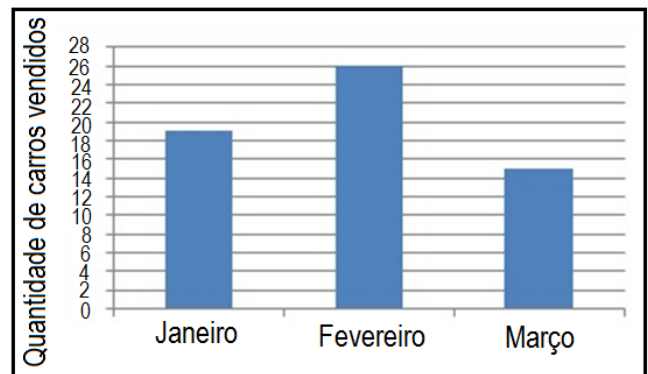
17) Qual montante receberá um investidor que aplicou R\$ 5.000,00, à taxa de juros simples de 14% ao ano, durante 6 meses?

- a) R\$ 5.350,00
- b) R\$ 5.250,00
- c) R\$ 5.230,00
- d) R\$ 5.210,00

18) Em certa progressão aritmética, o 4º termo é igual a 18 e o 7º termo é igual a 30. Qual o valor da soma dos 3 primeiros termos dessa sequência?

- a) 34
- b) 36
- c) 30
- d) 32

19) O gráfico abaixo apresenta a quantidade de carros vendidos em uma concessionária nos meses de janeiro, fevereiro e março. Analisando-se o gráfico, qual é a mediana e o valor médio de vendas em cada mês?



- a) 19 e 20.
- b) 19 e 22.
- c) 20 e 22.
- d) 26 e 20.

20) Considerando-se a sequência abaixo formada pela palavra PROVA, qual será a 234ª letra dessa sequência?

PROVAPROVAPROVAPROVA...

- a) P
- b) R
- c) O
- d) V

LEGISLAÇÃO, CONHECIMENTOS GERAIS E ESPECÍFICOS

Conhecimentos Gerais

21) Quanto à sustentabilidade, marcar C para as afirmativas Certas, E para as Erradas e, após, assinalar a alternativa que apresenta a sequência CORRETA:

- () Sustentabilidade ambiental e ecológica é a manutenção do meio ambiente do planeta Terra, mantendo a qualidade de vida e os ecossistemas em harmonia com as pessoas.
- () A sustentabilidade nas empresas pode estar ligada à sustentabilidade econômica, que é alcançada através de um modelo de gestão sustentável, ou seja, um modo que incentiva processos que permitam a recuperação do capital financeiro, humano e natural da empresa.

- a) E - C.
- b) C - E.
- c) E - E.
- d) C - C.

Legislação e Conhecimentos Específicos

22) De acordo com a Constituição Federal, no que se refere aos direitos e garantias fundamentais, analisar os itens abaixo:

- I - É permitida a liberdade de expressão, desde que não haja anonimato.
- II - A violação da intimidade ou da vida privada poderá gerar indenização por danos exclusivos à moral.
- III - Para aqueles que comprovarem insuficiência econômica, o Estado dará assistência integral e gratuita nas ações judiciais.

Estão CORRETOS:

- a) Somente os itens I e II.
- b) Somente os itens I e III.
- c) Somente os itens II e III.
- d) Todos os itens.

23) Em conformidade com a Lei Orgânica do Município, no que tange aos Servidores Públicos Civis, assinalar a alternativa INCORRETA:

- a) Mesmo para os que percebem remuneração variável, o salário não poderá ser inferior ao mínimo.
- b) Somente será permitida a redução salarial caso haja previsão em convenção ou acordo coletivo.
- c) Depois da promulgação da Lei Orgânica Municipal, foram vedadas novas cedências dos servidores públicos municipais para órgãos da administração pública direta ou indireta, autarquias e fundações.
- d) A diferença salarial será permitida, por motivo de sexo, quando a profissão ou qualificação profissional assim o exigir.

24) Com base na Lei do Executivo Municipal nº 2.452/2007 - Regime Jurídico dos Servidores Públicos do Município, sobre a estabilidade, assinalar a alternativa que preenche as lacunas abaixo CORRETAMENTE:

_____ meses antes de findar o período de estágio probatório, a avaliação do desempenho do servidor, realizada de acordo com o que dispuser a lei ou regulamento, será submetida à homologação _____, sem prejuízo da continuidade de apuração dos quesitos.

- a) Três - da autoridade competente
- b) Três - exclusiva do Prefeito
- c) Seis - da autoridade competente
- d) Seis - exclusiva do Prefeito

25) Com base na Lei Complementar nº 3.231/2017 - Código Tributário Municipal, no que se refere ao fato gerador dos impostos de competência municipal, pode-se afirmar que:

- a) O Imposto Sobre Serviços de Qualquer Natureza será cobrado exclusivamente daquele que tiver estabelecimento fixo.
- b) Independentemente de estabelecimento fixo, o Imposto Sobre Serviços de Qualquer Natureza incidirá sobre os prestados por empresas ou profissionais autônomos.
- c) O Imposto Sobre Transmissão *inter vivos* de Bens Imóveis somente terá como fato gerador a transmissão de direitos reais relativos ao imóvel.
- d) A posse do imóvel urbano como fato gerador, a fim de incidência do imposto sobre propriedade predial ou territorial urbana, prevalecerá sobre a propriedade do imóvel e anulará o domínio útil do imóvel.

26) Com base na Lei Complementar nº 101/2000, no que diz respeito à Lei Orçamentária Anual, analisar os itens abaixo:

- I - Constarão na Lei Orçamentária somente as despesas relativas à dívida pública.
- II - É vedado consignar na Lei Orçamentária crédito com finalidade imprecisa ou com dotação ilimitada.
- III - O refinanciamento da dívida pública constará separadamente na Lei Orçamentária e nas de crédito adicional.

Estão CORRETOS:

- a) Somente os itens I e II.
- b) Somente os itens I e III.
- c) Somente os itens II e III.
- d) Todos os itens.

27) De acordo com a Lei nº 8.429/1992, constitui ato de improbidade administrativa que atenta contra os princípios da administração pública qualquer ação ou omissão que viole certos deveres. Assinalar a alternativa que NÃO apresenta um dos deveres que, quando violado, constitui ato de improbidade contra os princípios da administração:

- a) Eficácia.
- b) Lealdade às instituições.
- c) Honestidade.
- d) Imparcialidade.

28) De acordo com a Lei nº 4.320/1964, são créditos adicionais as autorizações de despesa não computadas ou insuficientemente dotadas na Lei de Orçamento, os quais se classificam em:

- a) Suplementares, os destinados a despesas para as quais não haja dotação orçamentária específica.
- b) Especiais, os destinados a despesas urgentes e imprevistas, em caso de guerra, comoção intestina ou calamidade pública.
- c) Extraordinários, os destinados a reforço de dotação orçamentária.
- d) Especiais, os destinados a despesas para as quais não haja dotação orçamentária específica.

29) Com base na Lei nº 4.320/1964, no que diz respeito à receita no título de execução do orçamento, analisar os itens abaixo:

- I - Nenhum imposto será cobrado em cada exercício sem prévia autorização orçamentária, bem como aqueles referentes à tarifa aduaneira e o imposto lançado por motivo de guerra.
- II - Não será admitida a compensação da obrigação de recolher rendas ou receitas com direito creditório contra a Fazenda Pública.
- III - Os agentes da arrecadação devem fornecer recibos das importâncias que arrecadarem em duas vias.

Estão CORRETOS:

- a) Somente os itens I e II.
- b) Somente os itens I e III.
- c) Somente os itens II e III.
- d) Todos os itens.

30) Em conformidade com a Lei nº 8.666/1993, no que tange à licitação e a seu limite, assinalar a alternativa que preenche a lacuna abaixo CORRETAMENTE:

As licitações serão efetuadas no local onde se situar _____, salvo por motivo de interesse público, devidamente justificado.

- a) o bem de interesse
- b) a repartição interessada
- c) o prestador contratado
- d) ou o bem de interesse ou o prestador contratado

31) Conforme a Lei nº 6.404/1976, o capital social da sociedade anônima ou companhia poderá ser formado com contribuições:

- a) Exclusivas em dinheiro.
- b) Apenas por bens suscetíveis de avaliação em dinheiro.
- c) Somente em dinheiro ou bens suscetíveis de avaliação em dinheiro.
- d) Em dinheiro ou bens diversos, independentemente de avaliação em dinheiro.

32) Com base no Código de Ética Profissional, o profissional de contabilidade deve fixar previamente o valor do serviço por contrato escrito, em que alguns elementos deverão ser considerados. Conforme o exposto, analisar os itens abaixo:

I - O tempo que será consumido para a realização do serviço.
II - Se o cliente é habitual, eventual ou permanente.

- a) Os itens I e II estão corretos.
- b) Somente o item I está correto.
- c) Somente o item II está correto.
- d) Os itens I e II estão incorretos.

33) “O objetivo dessa demonstração é fornecer aos usuários das demonstrações contábeis, informações sobre os recebimentos e pagamentos de uma entidade, durante o período correspondente ao exercício financeiro, no caso do setor público.” Essa afirmação se refere ao Demonstrativo:

- a) Do resultado do exercício.
- b) Da demonstração das variações patrimoniais.
- c) Das variações do patrimônio líquido.
- d) Do fluxo de caixa.

34) Sob a perspectiva de SILVA, o sistema contábil está estruturado nos seguintes subsistemas de informação:

- a) Financeiro, patrimonial, custos e compensação.
- b) Orçamentário, financeiro, custos e compensação.
- c) Orçamentário, patrimonial, financeiro e compensação.
- d) Orçamentário, patrimonial, custos e financeiro.

35) Assinalar a alternativa que preenche a lacuna abaixo CORRETAMENTE:

Os créditos _____ necessitam de uma autorização legislativa que os fixe, determine o limite de valor que devem ser acrescidos, aumentados, enfim, suplementados aos valores já constantes do orçamento. Essa autorização pode ser dada através de lei especialmente concedida para tal, mas também pode estar inserida na própria Lei de Orçamento.

- a) extraordinários e os créditos especiais
- b) suplementares
- c) especiais
- d) extraordinários

36) Inquérito é um procedimento de auditoria que consiste na formulação de perguntas e obtenção de respostas satisfatórias. Em conformidade com ATTIE são exemplos de procedimentos de auditoria de inquérito:

- a) Inquérito sobre a existência de materiais de movimentação morosa ou obsoleto.
- b) Exame de depreciação do imobilizado, que afeta o resultado e as depreciações acumuladas.
- c) Exame do registro auxiliar de contas a receber/a pagar.
- d) Inquérito sobre pagamentos a fornecedores, que afetam contas a pagar e o disponível.

37) São exemplos de Aplicações de Recursos no Balanço Patrimonial, segundo RIBEIRO:

- a) Juros ativos.
- b) Adiantamento a fornecedor.
- c) Empréstimos a pagar.
- d) Capital Social.

38) De acordo com os conceitos de PADOVEZE, no que se refere ao plano de contas, analisar os itens abaixo:

- I - As contas podem associar-se, formando árvores ou hierarquias, que dão origem aos planos de contas.
- II - Por ser definida pelo mecanismo de relacionamento, a hierarquia pode ser alterada independentemente de alteração nos códigos das contas. Em outras palavras, podemos excluir uma conta de determinada árvore e incluí-la numa outra árvore sem alterar seu código.
- III - Os saldos das contas sempre refletem a situação mais atual dos relacionamentos. Se uma árvore for modificada e depois receber nova alteração que a conduza à forma anterior, os saldos das contas dessa árvore também voltarão ao montante original.

Está(ão) CORRETO(S):

- a) Somente o item I.
- b) Somente os itens I e II.
- c) Somente os itens II e III.
- d) Todos os itens.

39) Segundo ALMEIDA, considerando-se os métodos de valorização dos estoques, analisar os itens abaixo:

- I - No método UEPS as quantidades que ficam em estoque são valorizadas pelos primeiros custos unitários; as que saem, pelos últimos custos unitários.
- II - No método PEPS, as quantidades que ficam em estoque são valorizadas pelos primeiros custos unitários; as que saem, pelos últimos custos unitários.
- III - Através do método do custo médio, as quantidades que ficam em estoque e as que saem são valorizadas pelo custo unitário médio de aquisição ou fabricação.

Está(ão) CORRETO(S):

- a) Somente o item I.
- b) Somente o item II.
- c) Somente os itens I e III.
- d) Somente os itens II e III.

40) Quanto às categorias em que o controle interno é classificado, numerar a 2ª coluna de acordo com a 1ª e, após, assinalar a alternativa que apresenta a sequência CORRETA:

- (1) Operacional.
 - (2) Contábil.
 - (3) Normativo.
-
- () Relacionado às ações que propiciam o alcance dos objetivos da entidade.
 - () Relacionado à observância da regulamentação pertinente.
 - () Relacionado à veracidade e à fidedignidade dos registros e das demonstrações contábeis.
-
- a) 1 - 3 - 2.
 - b) 3 - 1 - 2.
 - c) 2 - 3 - 1.
 - d) 2 - 1 - 3.