

CÂMARA MUNICIPAL DE SÃO JOSÉ DOS CAMPOS

ESTADO DE SÃO PAULO

CONCURSO PÚBLICO

001. PROVA OBJETIVA

TÉCNICO LEGISLATIVO

- ◆ Você recebeu sua folha de respostas, este caderno, contendo 50 questões objetivas e um tema de redação a ser desenvolvido, e a folha de redação para transcrição do texto definitivo.
- ◆ Confira seus dados impressos na capa deste caderno e nas folhas de respostas e de redação.
- ◆ Quando for permitido abrir o caderno, verifique se está completo ou se apresenta imperfeições. Caso haja algum problema, informe ao fiscal da sala para a devida substituição desse caderno.
- ◆ A folha de redação deverá ser assinada apenas no local indicado; qualquer identificação ou marca feita pelo candidato no verso da folha de redação, que possa permitir sua identificação, acarretará a atribuição de nota zero à redação.
- ◆ Redija o texto definitivo e preencha a folha de respostas com caneta de tinta preta. Os rascunhos não serão considerados na correção. A ilegibilidade da letra acarretará prejuízo à nota do candidato.
- ◆ A duração das provas objetiva e de redação é de 4 horas, já incluído o tempo para o preenchimento da folha de respostas e para a transcrição do texto definitivo.
- ◆ Só será permitida a saída definitiva da sala e do prédio após transcorrida 1 hora do tempo de duração das provas.
- ◆ Deverão permanecer em cada uma das salas de prova os 3 últimos candidatos, até que o último deles entregue sua prova, assinando termo respectivo.
- ◆ Ao sair, você entregará ao fiscal a folha de redação, a folha de respostas e este caderno.
- ◆ Até que você saia do prédio, todas as proibições e orientações continuam válidas.

AGUARDE A ORDEM DO FISCAL PARA ABRIR ESTE CADERNO.

Nome do candidato

RG

Inscrição

Prédio

Sala

Carteira

CONHECIMENTOS GERAIS

LÍNGUA PORTUGUESA

Leia o texto para responder às questões de números **01** a **05**.

Livros já venderam mais em 2021 do que em todo o ano passado, mostra pesquisa

A venda de livros em 2021 já superou todo o acumulado do ano passado em apenas dez meses, mostrando que o mercado editorial vive um momento promissor. Foram vendidos 43,9 milhões de livros este ano, quando em todo o ano de 2020 se comercializaram 41,9 milhões de exemplares: o crescimento foi de 33% em quantidade de livros e de 31% em faturamento.

Vale lembrar que, se o início da quarentena representou um baque forte para o mercado editorial, ele se recuperou em poucos meses e terminou o ano passado com um resultado favorável. Editores têm apontado que a pandemia estimulou a leitura, restando como uma possibilidade de lazer ainda acessível durante o período de quarentena.

A política de descontos agressiva das plataformas *online* também ajudou a aumentar as vendas. Quem ainda sofre são as livrarias físicas, ameaçadas pela competição com gigantes virtuais que são capazes de praticar preços mais baixos. O setor tem, por motivos como esse, voltado a se aglutinar em torno da ideia de uma lei que estabeleça preço fixo para livros recém-lançados.

(Walter Porto. <https://www1.folha.uol.com.br/ilustrada/2021/12/livros-ja-venderam-mais-em-2021-do-que-em-todo-o-ano-passado-mostra-pesquisa.shtml>. 06.12.2021. Adaptado)

01. Conforme o texto, embora a quarentena inicialmente tenha

- (A) feito com que o hábito de ler fosse renovado, essa mudança se mostrou ineficiente para alavancar o comércio de livros.
- (B) estimulado um esboço de aumento do hábito de ler, não tardou a que a leitura fosse preterida por atividades de lazer *online*.
- (C) causado retração no mercado editorial, posteriormente criou condições propícias para impulsionar a leitura e a venda de livros.
- (D) favorecido o aumento na comercialização de livros, os descontos oferecidos comprometeram os ganhos das editoras.
- (E) fomentado as vendas *online* de livros, passado o primeiro ímpeto, as livrarias físicas retomaram a preferência dos consumidores.

02. O termo destacado na frase do 2º parágrafo – ... ele se recuperou em poucos meses e terminou o ano passado com um resultado **favorável**. – tem sentido compatível com o do termo destacado em:

- (A) A venda de livros em 2021 já superou todo o **acumulado** do ano passado... (1º parágrafo)
- (B) ... mostrando que o mercado editorial vive um momento **promissor**. (1º parágrafo)
- (C) ... o crescimento foi de 33% em quantidade de livros e de 31% em **faturamento**. (1º parágrafo)
- (D) ... uma possibilidade de lazer ainda **acessível** durante o período de quarentena. (2º parágrafo)
- (E) A política de descontos **agressiva** das plataformas *online* também ajudou a aumentar as vendas. (3º parágrafo)

03. O termo destacado na frase do último parágrafo – O setor tem, **por** motivos como esse, voltado a se aglutinar em torno da ideia de uma lei... – forma uma expressão que enuncia

- (A) a causa de o setor aglutinar-se em torno da ideia de uma lei.
- (B) oposição à aglutinação do setor em torno da ideia de uma lei.
- (C) o modo de o setor aglutinar-se em torno da ideia de uma lei.
- (D) o tempo da aglutinação do setor em torno da ideia de uma lei.
- (E) a finalidade de o setor aglutinar-se em torno da ideia de uma lei.

04. Assinale a alternativa que reescreve trecho do último parágrafo em conformidade com a norma-padrão de concordância verbal e nominal.

- (A) As plataformas de vendas *online* costuma praticar uma política de preços muito agressiva.
- (B) Os descontos agressivos oferecido pelas plataformas *online* resultaram em aumento das vendas.
- (C) O comércio de livros praticado pelas gigantes virtuais impõem dificuldades às livrarias físicas.
- (D) As grandes empresas de comércio *online* conseguem oferecer ao cliente condições muito mais atraentes.
- (E) As editoras estão se unindo pela defesa da adoção de preços fixos a todo livro recém-lançados.

Leia o texto para responder às questões de números **05 a 09**.

A Amazon pega, mata e come

Foi-se embora a Livraria São José, sebo mais antigo do Rio de Janeiro, fundado há 85 anos – e todo mundo acha normal. Ora, tudo não está morrendo ao nosso redor? Por que livrarias, logo elas, iriam escapar à destruição que atinge o país inteiro? É a vida – ou a morte – que segue.

Em sua fase espetacular – entre as décadas de 40 e 60 –, a São José chegou a ter três lojas e estoque de 100 mil livros. Tornou-se editora e promoveu tardes de autógrafos. A primeira foi um luxo: “Itinerário de Pasárgada”, de Manuel Bandeira, em 1954. Eram concorridíssimas – não se sabe se pelos autores ou se pelas “madrinhas” deles, beldades como Tônia Carrero e Odette Lara.

Ponto de encontro de intelectuais, estudantes e buquinadores¹ profissionais, fuçando nas estantes e bancadas poderiam ser vistos lado a lado figuras tão díspares como o ex-presidente Eurico Gaspar Dutra e o romancista Lúcio Cardoso. Matando aula na Faculdade Nacional de Filosofia, foi lá que o cronista Ruy Castro começou sua invejada coleção de livros.

Não “essenciais”, as livrarias cariocas estão fechadas para cumprir o recesso sanitário. É um setor do comércio que, com a pandemia, recorreu sobretudo à atividade *online*. Melhor do que ninguém a Amazon sabe disso e se aproveita para complicar ainda mais a vida de livreiros e editores. Em recente e-mail, a gigante norte-americana pediu descontos maiores e aumento na cobrança de taxas de *marketing*.

Na arte do oportunismo, a Amazon é o carcará de João do Vale na seca do sertão: pega, mata e come².

¹Buquinar: buscar e comprar livros usados em livrarias, bancas, sebos.

²Referência à letra da música “Carcará”, de João do Vale.

(Alvaro Costa e Silva. <https://www1.folha.uol.com.br/colunas/alvaro-costa-e-silva/2021/03/a-amazon-pega-mata-e-come.shtml>. 29.03.2021. Adaptado)

05. Nesse texto, o autor analisa um dos assuntos também tratado no texto anterior, destacando

- (A) a falta de ações governamentais de contenção à rápida disseminação do vírus responsável pela pandemia.
- (B) a escassez de opções de lazer para uma população cuja pandemia obriga a permanecer encerrada em suas casas.
- (C) a forma como o comércio *online* indiretamente alavancou as vendas de livros, beneficiando sobretudo as lojas físicas.
- (D) as vantagens do comércio *online* frente ao hábito primitivo e dispendioso de procurar objetos em lojas físicas.
- (E) o papel decisivo de uma das grandes empresas de vendas *online* para a ruína do comércio físico tradicional.

06. O termo destacado na frase do 2º parágrafo – ... não se sabe se pelos autores ou se pelas “madrinhas” deles, **beldades** como Tônia Carrero e Odette Lara. – é empregado pelo autor para expressar, em sentido

- (A) próprio, a ideia de que as duas mulheres eram frequentadoras assíduas do local.
- (B) figurado, a ideia de que as duas mulheres esbanjavam muito dinheiro na livraria.
- (C) próprio, a ideia de que as duas mulheres eram amáveis com os visitantes do local.
- (D) figurado, a ideia de que as duas mulheres se destacavam pela beleza física.
- (E) próprio, a ideia de que as duas mulheres tinham uma postura presunçosa.

07. Conforme o autor, a Livraria São José, sebo mais antigo do Rio de Janeiro,

- (A) simboliza a resistência da cultura, ao se manter ativa enquanto outros setores são severamente prejudicados pela pandemia.
- (B) deve sua ruína a sucessivos eventos extravagantes, sem relação com a literatura, cujo único fim era o de atrair frequentadores ilustres.
- (C) erra ao recusar-se a fechar suas portas para obedecer às medidas sanitárias de contenção da pandemia impostas pelo poder público.
- (D) foi por muitos anos um local privilegiado de difusão cultural, o que não impediu que sucumbisse ao oportunismo do comércio *online*.
- (E) constitui a amostra viva da incapacidade do comércio brasileiro de sair da condição de atraso e inserir-se na realidade do mundo atual.

08. Assinale a alternativa em que, na frase redigida a partir do texto, o acento indicativo da crase está em conformidade com a norma-padrão da língua.

- (A) No início desse ano, a Livraria São José cessou **às** atividades.
- (B) O tradicional sebo não pôde resistir **à** forte queda das vendas.
- (C) A livraria não teria como sobreviver **à** um ano de pandemia.
- (D) A loja organizava eventos dedicados **à** alguns renomados escritores.
- (E) A Amazon impôs mudanças **à** toda editora com que faz parceria.

09. Considere as seguintes frases do texto:

- A primeira foi um luxo: "Itinerário de Pasárgada", de Manuel Bandeira, em 1954. (2º parágrafo)
- Não "essenciais", as livrarias cariocas estão fechadas para cumprir o recesso sanitário. (4º parágrafo)

No contexto em que são empregadas, as aspas (" ") atendem, respectivamente, ao propósito de

- (A) distinguir uma citação do restante do texto; realçar ironicamente uma expressão.
- (B) realçar ironicamente uma expressão; indicar o título de uma obra.
- (C) indicar o título de uma obra; acentuar o valor significativo de uma palavra.
- (D) distinguir uma citação do restante do texto; assinalar inflexão de natureza emocional.
- (E) assinalar inflexão de natureza emocional; distinguir uma citação do restante do texto.

Leia o texto, para responder às questões de números 10 a 15.

Uma geração de extraterrestres

Penso que Michel Serres seja a mente filosófica mais aguda na França de hoje e, como todo bom filósofo, é capaz de dedicar-se também à reflexão sobre a atualidade. Uso despudoradamente (à exceção de alguns comentários pessoais) um belíssimo artigo de Serres publicado em março de 2010 que recorda coisas que, para os leitores mais jovens, dizem respeito aos filhos e, para nós, mais velhos, aos netos.

Só para começar, estes filhos ou netos nunca viram um porco, uma vaca, uma galinha. Os novos seres humanos não estão mais habituados a viver na natureza, e só conhecem as cidades. Trata-se de uma das maiores revoluções antropológicas depois do neolítico*.

Há mais de sessenta anos, os jovens europeus não conhecem guerras, beneficiam-se de uma medicina avançada e não sofrem como sofreram seus antepassados. Então, que obras literárias poderão apreciar, visto que não conheceram a vida rústica, as colheitas, os monumentos aos caídos, as bandeiras dilaceradas pelas balas inimigas, a urgência vital de uma moral?

Foram formados por meios de comunicação concebidos por adultos que reduziram a sete segundos o tempo de permanência de uma imagem e a quinze segundos o tempo de resposta às perguntas. São educados pela publicidade que exagera nas abreviações e nas palavras estrangeiras e faz com que percam o senso da língua materna. A escola não é mais o local da aprendizagem e, habituados aos computadores, esses jovens vivem boa parte da sua vida no virtual. Nós vivíamos num espaço métrico perceptível, e eles vivem num espaço irreal onde vizinhanças e distâncias não fazem mais a menor diferença.

Não vou me deter nas reflexões de Serres acerca das possibilidades de administrar as novas exigências da educação. Em todo caso, sua panorâmica nos fala de um período semelhante, pela subversão total, ao da invenção da escrita e, séculos depois, da imprensa. Só que estas novas técnicas hodiernas mudam em grande velocidade. Por que não estávamos preparados para esta transformação?

Serres conclui que talvez a culpa seja também dos filósofos, que, por profissão, deveriam prever as mudanças dos saberes e das práticas e não o fizeram de maneira suficiente porque, "empenhados na política de todo dia, não viram chegar a contemporaneidade". Não sei se Serres tem toda razão, mas alguma ele tem.

*Última divisão da Idade da Pedra, caracterizada pelo desenvolvimento da agricultura e a domesticação de animais.

(Umberto Eco. *Pape Satàn aleppe*: crônicas de uma sociedade líquida. 2 ed. – Rio de Janeiro: Record, 2017. Excerto adaptado)

10. O autor do texto traz uma reflexão sobre

- (A) os desafios para despertar nas pessoas de idade mais avançada o interesse por tecnologias que poderiam aproximá-las dos mais jovens.
- (B) os limites da credibilidade de pontos de vista estreitamente fundamentados a partir de conclusões de estudos realizados por terceiros.
- (C) a vantagem que os mais jovens extraem das tecnologias de comunicação para conhecer melhor que gerações passadas a própria realidade social.
- (D) a incapacidade dos filósofos da atualidade de compreender a realidade que os cerca com a mesma agudeza que o faziam os pensadores antigos.
- (E) a maneira como as novas tecnologias de comunicação produziram uma profunda mudança de comportamento, observável na sociedade atual.

11. Considerando a relação de sentido que estabelece no contexto do 3º parágrafo, a expressão destacada na frase – ... **visto que** não conheceram a vida rústica, as colheitas, os monumentos aos caídos... – pode ser adequadamente substituída pelo seguinte termo:

- (A) como
- (B) porém
- (C) quando
- (D) todavia
- (E) enquanto

12. Para o autor do texto, os mais jovens, apesar de

- (A) pouco habituados a viver na natureza, empregam eficazmente a tecnologia de comunicação para compreenderem o espaço em que vivem.
- (B) optarem por uma formação mediada pelas tecnologias, ela lhes propicia experiências do mesmo nível das que tinham as gerações anteriores.
- (C) beneficiados pela paz e pelos avanços científicos, têm a formação prejudicada por se valerem de meios que os privam de vivenciar a realidade.
- (D) relativamente adaptados às experiências do mundo virtual, ainda não estão de fato preparados para usar o atual potencial tecnológico.
- (E) serem criticados por terem uma relação muito estreita com os computadores, tiram enorme benefício dessa relação no que respeita à aprendizagem.

13. Considere a passagem do penúltimo parágrafo:

- Não vou **me deter** nas reflexões de Serres acerca das possibilidades de **administrar** as novas exigências da educação.

Assinale a alternativa em que, com a substituição dos verbos destacados, a redação atende à norma-padrão de regência verbal.

- (A) Não vou **me demorar** das reflexões de Serres acerca das possibilidades de **tratar** às novas exigências da educação.
- (B) Não vou **me ocupar** para as reflexões de Serres acerca das possibilidades de **resolver** das novas exigências da educação.
- (C) Não vou **me prender** nas reflexões de Serres acerca das possibilidades de **governar** das novas exigências da educação.
- (D) Não vou **me dedicar** das reflexões de Serres acerca das possibilidades de **cuidar** as novas exigências da educação.
- (E) Não vou **me ocupar** com as reflexões de Serres acerca das possibilidades de **conduzir** as novas exigências da educação.

14. O termo destacado na frase do 1º parágrafo – Uso **despudoradamente** (à exceção de alguns comentários pessoais) um belíssimo artigo de Serres... – exprime circunstância de

- (A) modo, tendo como equivalente o termo “desavergonhadamente”.
- (B) dúvida, tendo como equivalente o termo “indiferentemente”.
- (C) negação, tendo como equivalente o termo “irresolutamente”.
- (D) afirmação, tendo como equivalente o termo “indistintamente”.
- (E) intensidade, tendo como equivalente o termo “involuntariamente”.

15. Considere as frases do 2º e 3º parágrafos, respectivamente:

- Só para começar, estes filhos ou netos nunca viram **um porco, uma vaca, uma galinha**.
- Há mais de sessenta anos, os jovens europeus não conhecem **guerras**...

Assinale a alternativa em que as formas pronominais que substituem os termos destacados atendem à norma padrão de uso dos pronomes e de colocação pronominal.

- (A) ... estes filhos ou netos nunca **lhes** viram. / ... os jovens europeus não **lhes** conhecem...
- (B) ... estes filhos ou netos nunca **lhes** viram. / ... os jovens europeus não conhecem-**nas**...
- (C) ... estes filhos ou netos nunca **os** viram. / ... os jovens europeus não **as** conhecem...
- (D) ... estes filhos ou netos nunca viram-**nos**. / ... os jovens europeus não **lhes** conhecem...
- (E) ... estes filhos ou netos nunca viram-**lhes**. / ... os jovens europeus não conhecem-**lhes**...

16. No almoxarifado de uma empresa, o número de resmas de papel colorido corresponde a 12% do número de resmas de papel branco. Após a compra de 40 resmas de papel branco e 70 resmas de papel colorido, o número de resmas de papel branco excede o número de resmas de papel colorido em 586. Após a compra, a soma de resmas de papel branco e colorido no almoxarifado é igual a

- (A) 696.
- (B) 770.
- (C) 784.
- (D) 836.
- (E) 894.

17. Um livraria vai doar 1036 livros para três escolas, de maneira que cada escola receberá uma quantidade de livros diretamente proporcional ao número de alunos matriculados. A escola que tem mais alunos receberá 448 livros, e a escola que tem 328 alunos receberá 140 livros a menos do que a segunda maior escola (em número de alunos). O total de alunos matriculados nessas três escolas é igual a

- (A) 1332.
- (B) 1517.
- (C) 1672.
- (D) 1804.
- (E) 1929.

18. Um terço de um serviço foi realizado por 5 homens, que trabalharam 6 horas por dia durante 8 dias. O restante desse serviço deverá ser concluído em 10 dias e, para isso, um total de 9 homens trabalharão um mesmo número de horas por dia. Dessa maneira, o número de horas diárias trabalhadas por cada homem, na conclusão desse serviço, será

- (A) 5 horas e 20 minutos.
- (B) 5 horas e 40 minutos.
- (C) 6 horas e 20 minutos.
- (D) 6 horas e 40 minutos.
- (E) 7 horas e 20 minutos.

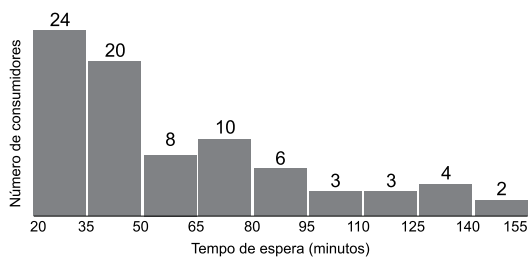
19. Uma professora corrigiu 357 provas em 3 dias. No primeiro dia, ela corrigiu a terça parte do número de provas que corrigiu no segundo dia, e, no terceiro dia, ela corrigiu 15 provas a mais do que o dobro de provas corrigidas no primeiro dia. A diferença entre o número de provas corrigidas no segundo dia e o número de provas corrigidas no terceiro dia é igual a

- (A) 34.
- (B) 38.
- (C) 42.
- (D) 46.
- (E) 50.

20. Em um grupo estavam reunidos 20 alunos, entre alunos do segundo ano e alunos do terceiro ano. Todos esses alunos treinaram para uma prova resolvendo uma série de exercícios, de maneira que cada aluno do terceiro ano fez um número de exercícios igual ao total de exercícios feitos pelos alunos do segundo ano. Cada aluno do segundo ano fez 3 exercícios, e o total de exercícios feitos por esses 20 alunos foi igual a 270. Sabendo que no grupo há mais alunos do terceiro ano do que do segundo ano, o total de exercícios feitos pelos alunos do terceiro ano está compreendido entre

- (A) 170 e 190.
- (B) 190 e 210.
- (C) 210 e 230.
- (D) 230 e 250.
- (E) 250 e 270.

21. Os tempos de espera, em minutos, para o atendimento de 80 consumidores em um centro de atendimento ao consumidor estão registrados no gráfico a seguir.



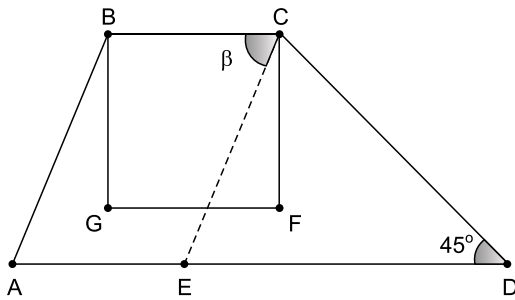
De acordo com o gráfico, é correto afirmar que o tempo de espera de

- (A) mais da metade dos consumidores foi superior a 1 hora.
- (B) 12,5% dos consumidores foi entre 1 h e 35 min e 2 h e 20 min.
- (C) 65% dos consumidores foi inferior a 1 hora.
- (D) 24 consumidores foi entre 50 min e 80 min.
- (E) no mínimo 2 pessoas, foi superior a 2 h e 30 min.

22. A média das idades dos funcionários de uma empresa é igual a 44 anos. No próximo mês, 5 funcionários irão se aposentar, sendo que um tem 64 anos, dois têm 65 anos e dois têm 69 anos. Para substituí-los, serão contratados 8 pessoas, cujas idades têm média igual a 28 anos. Sabendo que os atuais funcionários e os futuros contratados já fizeram aniversário esse ano, e que, após a substituição de todos os envolvidos, a nova média das idades dos funcionários dessa empresa será igual a 42 anos, o número atual de funcionários da empresa é

- (A) 105.
- (B) 109.
- (C) 113.
- (D) 117.
- (E) 121.

23. Sobre a base AD de um trapézio ABCD está o ponto E, de maneira que os segmentos DC e DE têm a mesma medida. Nesse trapézio, a base BC é lado do quadrado BCFG, conforme mostra a figura.



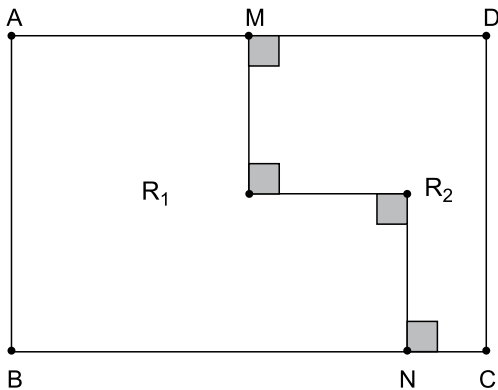
A medida do ângulo $\angle BCE$, indicado por β na figura, é

- (A) 45° .
- (B) $55,5^\circ$.
- (C) 60° .
- (D) $67,5^\circ$.
- (E) 70° .

24. Todos os livros de uma biblioteca passarão por um processo de limpeza e, para isso, serão transportados para uma sala especial. Inicialmente, foi previsto que 5 pessoas participariam do processo de transporte dos livros e, por questões de saúde, ficou decidido que todas as pessoas transportariam sempre um mesmo número de livros por vez, e também que cada pessoa só faria 6 desses transportes por dia. Com essa previsão inicial, cada uma das 5 pessoas deveria fazer um total de 168 transportes. Para acelerar essa tarefa, ficou decidido que 20 pessoas trabalhariam no transporte dos livros, logo, respeitando as mesmas condições iniciais, o número de dias necessários para transportar todos os livros será

- (A) 5.
- (B) 6.
- (C) 7.
- (D) 8.
- (E) 9.

25. Em um retângulo ABCD, o ponto M divide o lado AD em dois segmentos de mesma medida e o ponto N está sobre o lado BC. Esse retângulo foi dividido em duas regiões, R_1 e R_2 , por meio de três segmentos, cada um medindo a metade do lado AB, e que são perpendiculares entre si e aos lados do retângulo, conforme mostra a figura.



Sabendo que a razão entre as medidas dos lados AD e AB é igual a 1,5 e que o perímetro do polígono que delimita a região R_1 é igual a 81 cm, a área da região R_2 é

- (A) 162 cm^2 .
- (B) 171 cm^2 .
- (C) 180 cm^2 .
- (D) 189 cm^2 .
- (E) 198 cm^2 .

RACIOCÍNIO LÓGICO

26. Cinco poltronas, numeradas de 1 a 5, estão lado a lado em uma fileira. Ao lado da poltrona 1, só está a poltrona 2, ao lado da poltrona 5, só está a poltrona 4, e ao lado da poltrona 3, estão as poltronas 2 e 4. Cinco amigos, identificados apenas pelas iniciais P, Q, R, S e T, irão se sentar nessas poltronas de acordo com as seguintes regras:

- Entre P e Q deve haver exatamente uma poltrona.
- Entre R e S deve haver exatamente duas poltronas.
- T não deve se sentar ao lado de Q e nem ao lado de S.

Obedecidas essas regras, quem irá se sentar na poltrona 3 é

- (A) P.
- (B) Q.
- (C) R.
- (D) S.
- (E) T.

27. Considere a afirmação: "Ou arranjo emprego ou não me caso". A negação dessa afirmação é:

- (A) Se eu arranjo emprego, então eu me caso.
- (B) Se eu não arranjo emprego, então eu me caso.
- (C) Ou não arranjo emprego ou me caso.
- (D) Ou não arranjo emprego ou não me caso.
- (E) Arranjo emprego e não me caso.

28. Considere a sequência de números 7123459, 8224360, 5223441, 6224332, 4223442, ..., em que cada termo, do segundo termo em diante, é formado a partir de um padrão que altera os algarismos do termo anterior. Utilizando-se esse mesmo padrão, o 100º termo da sequência que se inicia por 359982721 é:

- (A) 22222222
- (B) 342232422
- (C) 343434343
- (D) 42222222
- (E) 432242322

29. Ana, Bia e João possuem, cada um, uma única formação, e das quatro afirmações seguintes sobre suas especialidades, uma afirmação é falsa e as outras três verdadeiras.

- Ana é engenheira e João é químico.
- Se João é químico, então Bia não é geógrafa.
- Bia é geógrafa ou Ana é engenheira.
- João é químico.

Em relação às especialidades dessas pessoas, é correto afirmar que

- (A) Ana não é engenheira e João é químico.
- (B) Ana é engenheira e Bia não é geógrafa.
- (C) Bia é geógrafa e Ana é engenheira.
- (D) Bia não é geógrafa ou João não é químico.
- (E) Ou João é químico ou Ana é engenheira.

30. Um jogo para duas pessoas é composto por cartões em forma de triângulos, quadrados, pentágonos, hexágonos e heptágonos. Cada jogador, na sua jogada, deve escolher um cartão e nele escrever um número inteiro maior ou igual a 1 e menor ou igual a 20, de acordo com as seguintes regras:

- O primeiro a jogar pode escolher um cartão de qualquer forma, mas se for um heptágono não poderá escrever 20.
- Após a primeira jogada, os jogadores passam a se revezar e devem escolher, em relação à última jogada feita pelo adversário, ou um cartão com o mesmo número de lados, e, nesse caso, devem escrever um número maior do que o último número que foi escrito pelo adversário, ou devem escolher um cartão com mais lados, e, nesse caso, devem escrever o mesmo número que foi escrito por último pelo adversário.
- Ganha o jogo quem escrever o número 20 em um heptágono.

Se o primeiro a jogar escolher um cartão na forma de triângulo, ele terá certeza de vitória escrevendo nesse cartão o seguinte número:

- (A) 17
- (B) 16
- (C) 15
- (D) 5
- (E) 4

ATUALIDADES

31. Uma análise publicada pela revista *Veja*, na edição 2761, dava conta que o principal parceiro comercial do Brasil estava em um ritmo de crescimento menor do que o esperado, causado pela falta de energia. As exportações para esse país representam mais de 28% de todas as vendas brasileiras para o exterior. Os principais produtos em volume são: soja (33%); petróleo (23%); minério de ferro (21%).

(*Veja*. Disponível em <https://bit.ly/3qCSzCR>. Acesso em 15.11.2021. Adaptado)

A análise apresentada pela revista *Veja* diz respeito

- (A) aos Estados Unidos.
 - (B) à Índia.
 - (C) à União Europeia.
 - (D) à Rússia.
 - (E) à China.
32. Em 2019, Abiy Ahmed foi agraciado com o Prêmio Nobel da Paz por estabelecer a paz entre o seu país e a Eritreia após dois anos de guerra, além de ter implementado mudanças significativas no primeiro ano de seu governo, como primeiro-ministro. No final de 2020, Ahmed ordenou a tomada de uma região ao norte de seu país por desavenças com os tigreanos, grupo que controla a região. Por causa da tensão, que persiste em nossos dias, Abiy Ahmed decretou estado de emergência no país e pediu que os _____ se preparem para “tempos difíceis”.

(*G1*. Disponível em <https://glo.bo/3HqV40Y>. Acesso em 18.11.2021. Adaptado)

O gentílico que completa corretamente a informação do texto é:

- (A) paquistaneses
 - (B) birmaneses
 - (C) etíopes
 - (D) sudaneses
 - (E) iraquianos
33. Segundo a Agência *O Globo* (19.07.2021), o presidente da Câmara dos Deputados, Arthur Lira, voltou a defender o semipresidencialismo, a partir de 2026. Se aprovada a Proposta de Emenda à Constituição (PEC) de autoria do deputado paulista Samuel Moreira, o Brasil será governado por um sistema que

(*Ig*. Disponível em <https://bit.ly/3kFiR3v>. Acesso em 20.11.2021. Adaptado)

- (A) possui elementos do parlamentarismo e do presidencialismo.
- (B) reduz as funções do presidente a Chefe de Governo.
- (C) dá ao Primeiro-Ministro o poder de dissolver o Parlamento.
- (D) permite ao Primeiro-Ministro nomear o Presidente da República.
- (E) implanta uma organização política relacionada ao socialismo de estado.

34. O secretário especial do Tesouro e Orçamento do Ministério da Economia, Esteves Colnago, informou, na última semana de outubro, que a projeção para o Índice Nacional de Preços ao Consumidor (INPC) deste ano (2021) subiu de 8,4% para 9,1%. O INPC é a base da correção anual do salário-mínimo pelo governo. Se esse aumento previsto se confirmar e não houver mudança no cálculo, o reajuste do salário-mínimo em 2022 também será maior que o estimado anteriormente e pode subir para

(*G1*. Disponível em <https://glo.bo/3oyzvTy>. Acesso em 16.11.2021. Adaptado)

- (A) R\$ 1.100,00.
- (B) R\$ 1.200,00.
- (C) R\$ 1.300,00.
- (D) R\$ 1.400,00.
- (E) R\$ 1.500,00.

35. O Reino Unido tornou-se hoje (04.11.2021) o primeiro país do mundo a aprovar o uso de um remédio desenvolvido em conjunto pela MSD (*Merck Shape e Dohme*) e *Ridgeback Biotherapeutics*. A pílula será chamada de Lagevrio na Grã-Bretanha.

A agência reguladora de medicamentos e produtos de saúde britânica (MHRA) recomendou que o medicamento seja utilizado o mais rápido possível após o paciente ser diagnosticado com a doença.

(*Uol*. Disponível em <https://bit.ly/3wPcBLx>. Acesso em 20.11.2021. Adaptado)

O medicamento de que trata a matéria se mostrou eficiente no combate

- (A) ao mal de Alzheimer.
- (B) à hanseníase.
- (C) à hepatite tipo “B”.
- (D) à covid-19.
- (E) ao mal de Parkinson.

CONHECIMENTOS ESPECÍFICOS

NOÇÕES DE DIREITO CONSTITUCIONAL

36. Suponha que João cometeu um crime e após o trâmite regular do processo foi considerado culpado e, conseqüentemente, condenado a cumprir pena. De acordo com o disposto no art. 5º da Constituição Federal, é correto afirmar que a pena imputada a João poderá ser de
- (A) morte, caso ele tenha cometido crime hediondo.
 - (B) caráter perpétuo, caso ele tenha cometido crime de racismo.
 - (C) trabalhos forçados.
 - (D) interdição de direitos.
 - (E) banimento.
37. Considere que Maurício é empregado sindicalizado da Empresa ABC e foi eleito como suplente para o cargo de representação sindical. De acordo com o disposto na Constituição Federal, é correto afirmar que Maurício
- (A) apenas pôde se candidatar, pois já estava sindicalizado há pelo menos cinco anos.
 - (B) somente teria estabilidade caso tivesse sido eleito para o cargo de direção do sindicato.
 - (C) não pode ser dispensado até dois anos após o final do mandato.
 - (D) possui estabilidade no cargo, adquirida no momento em que foi eleito.
 - (E) não pode ser dispensado até um ano após o final do mandato, salvo se cometer falta grave.
38. Suponha que Josh e Mary, casados, cidadãos americanos, estavam de férias no Brasil quando, devido a uma intercorrência médica, Mary deu à luz prematuramente ao seu filho Brad. Considerando o disposto na Constituição Federal, é correto afirmar que Brad
- (A) é brasileiro naturalizado e poderá perder sua naturalização em virtude da prática de atividade nociva ao interesse nacional.
 - (B) no futuro poderá se candidatar para o cargo de Presidente e Vice-Presidente da República Federativa do Brasil.
 - (C) é brasileiro naturalizado e no futuro poderá ocupar o cargo de Presidente da Câmara dos Deputados.
 - (D) deve ser considerado como brasileiro nato, mas não poderá ocupar o cargo de oficial das Forças Armadas, pois seus pais são estrangeiros.
 - (E) apenas será considerado brasileiro após residir por um ano ininterrupto no Brasil e comprovar que tem idoneidade moral.

39. Sobre os Municípios, assinale a alternativa que está de acordo com o disposto na Constituição Federal.
- (A) O total da despesa com a remuneração dos Vereadores não poderá ultrapassar o montante de quinze por cento da receita do Município.
 - (B) O julgamento do prefeito deverá ser feito perante o Superior Tribunal de Justiça.
 - (C) A Câmara Municipal não gastará mais de setenta por cento de sua receita com folha de pagamento, incluindo o gasto com o subsídio de seus Vereadores.
 - (D) As contas dos Municípios ficarão, durante noventa dias, anualmente, à disposição de qualquer contribuinte.
 - (E) O parecer prévio, emitido pelo órgão competente sobre as contas que o Prefeito deve anualmente prestar, só deixará de prevalecer por decisão de um terço dos membros da Câmara Municipal.

NOÇÕES DE DIREITO ADMINISTRATIVO

40. Suponha que um agente público está sendo processado pela prática de ato de improbidade administrativa, sob a acusação de que foi responsável pela realização de contratação pública que não seguiu o rito legal. Na peça acusatória consta a informação de que, embora houvesse divergência interpretativa de lei, baseada na jurisprudência, sobre a possibilidade de realização da contratação sem prévia licitação, o órgão acusador entendeu que o procedimento era necessário e que, portanto, a conduta do infrator ofende o princípio da moralidade administrativa. Tendo por base a situação hipotética e o disposto na Lei nº 8.429/92, é correto afirmar que
- (A) a conduta em questão admite a responsabilização por ato de improbidade, caso o agente tenha agido com dolo ou culpa.
 - (B) caso fique evidenciada a lesão ao patrimônio público, o mero exercício da função pública autoriza a responsabilização por ato de improbidade administrativa.
 - (C) a conduta do agente não configura improbidade, pois a divergência interpretativa afasta a responsabilização do agente.
 - (D) o agente público não estará sujeito à Lei de Improbidade Administrativa caso seja vinculado ao Poder Judiciário.
 - (E) a demonstração da voluntariedade do agente é suficiente para a comprovação da existência do dolo, não sendo necessária a demonstração da intenção de praticar o fim ilícito.

41. Na hipótese de prática de ato de improbidade administrativa que causa lesão ao erário, o agente público estará sujeito à aplicação de pena de suspensão dos direitos políticos por até
- (A) 4 (quatro) anos.
 - (B) 6 (seis) anos.
 - (C) 8 (oito) anos.
 - (D) 12 (doze) anos.
 - (E) 14 (quatorze) anos.
42. A Câmara Municipal recebeu projeto de lei do poder executivo que tem por finalidade criar uma entidade que será responsável por fiscalizar os serviços públicos concedidos do Município. A proposição estipula que essa pessoa jurídica será criada por lei, dotada de personalidade jurídica de direito público e se submeterá a um regime jurídico especial, pois o termo do mandato de seus dirigentes não coincidirão com os do Chefe do Poder Executivo, bem como que a entidade gozará de autonomia funcional, decisória, administrativa e financeira. Caso um Vereador consulte um Técnico Legislativo para saber de que tipo de entidade integrante da administração indireta a proposta está se referindo, é correto afirmar que se trata de uma
- (A) agência reguladora.
 - (B) fundação pública.
 - (C) empresa pública.
 - (D) agência executiva.
 - (E) sociedade de economia mista.
43. Acerca dos atributos dos atos administrativos, assinale a alternativa correta.
- (A) A presunção de veracidade se aplica aos atos privados da Administração Pública.
 - (B) A imperatividade constitui na prerrogativa de a Administração Pública executar, diretamente, os seus atos, independentemente da manifestação do Poder Judiciário.
 - (C) A presunção de veracidade não implica na inversão do ônus da prova, pois o cidadão tem o direito de exigir sempre que a autoridade pública comprove que está agindo de acordo com o princípio da legalidade.
 - (D) Prevalece na doutrina o entendimento de que a autoexecutoriedade prescinde prévia autorização legislativa ou a caracterização de situação emergencial.
 - (E) A autoexecutoriedade autoriza a Administração a, em determinados casos, utilizar de forma moderada a força para viabilizar a execução do interesse público.
44. O Diretor Administrativo da Câmara Municipal emitiu ato administrativo vinculado que possui vício de forma. A autoridade administrativa entende que o interesse público será melhor atendido caso o ato seja preservado. Com base na situação hipotética e na teoria do ato administrativo, é correto afirmar que
- (A) por se tratar de vício sanável, será cabível a convalidação, que produzirá efeitos retroativos.
 - (B) em função do princípio da legalidade, qualquer ato administrativo viciado deve ser anulado.
 - (C) o ato deverá ser revogado.
 - (D) será possível a convalidação, ainda que haja prejuízo a terceiro, sempre que essa conduta se mostrar adequada a atender o interesse público.
 - (E) o ato administrativo deve ser anulado, pois o vício de forma não é passível de convalidação.
45. A respeito dos princípios do Direito Administrativo, assinale a alternativa correta.
- (A) O princípio da moralidade administrativa impede a prática do nepotismo na Administração Pública, estendendo-se a vedação a nomeações de cargos políticos.
 - (B) É compatível com o princípio da legalidade a ação administrativa que, embora não esteja estritamente autorizada por lei, tem por base os princípios constitucionais e visa assegurar os direitos fundamentais do cidadão.
 - (C) O princípio da eficiência exige que a correção da ação administrativa seja analisada exclusivamente sob o prisma econômico.
 - (D) O princípio da impessoalidade não impede a realização de propagandas que tenham por objetivo promover a imagem do gestor público.
 - (E) Em função do princípio da publicidade, todos os atos administrativos devem ter o seu conteúdo veiculado no Diário Oficial do respectivo ente federativo.

46. De acordo com o que dispõe a Lei Orgânica Municipal de São José dos Campos, assinale a alternativa correta.
- (A) Salvo as exceções previstas nessa Lei Orgânica, é permitido a qualquer dos poderes delegarem suas atribuições a outros membros de outros poderes.
 - (B) A base da autoridade do Governo Municipal é a vontade do povo.
 - (C) Os conselhos populares deverão ser criados, com objetivos gerais dependentes dos objetivos impostos pela Câmara Municipal.
 - (D) Nos atos que envolvam conservação ou modificação do patrimônio histórico, arquitetônico, artístico ou cultural do Município, é dispensável a participação popular.
 - (E) É uma das competências comuns dos Municípios, juntamente com a União e os Estados, estimular a educação e a prática desportiva.
47. A Câmara Municipal de São José dos Campos, quando necessita deliberar sobre assuntos de sua economia interna, deve fazer por meio de
- (A) Portaria.
 - (B) Decreto Legislativo.
 - (C) Resolução.
 - (D) Autorização.
 - (E) Lei Municipal.
48. Em relação às Sessões Legislativas Ordinárias e Extraordinárias, conforme disciplina a Lei Orgânica do Município de São José dos Campos, é correto afirmar que
- (A) poderão ser interrompidas quando se tratar de aprovação do projeto de lei de diretrizes orçamentárias.
 - (B) poderão ser abertas com a presença de, no mínimo, 2/3 (dois terços) dos membros da Câmara.
 - (C) a convocação para sessão extraordinária, no período de recesso, somente poderá ser feita pelo Prefeito.
 - (D) as sessões da Câmara Municipal serão públicas, exceto no caso de votação de Emenda à Lei Orgânica.
 - (E) durante a sessão legislativa extraordinária, a Câmara Municipal deliberará exclusivamente sobre a matéria para a qual foi convocada.
49. Jairo, servidor público municipal, ocupante do cargo efetivo de Técnico Legislativo, na Prefeitura Municipal de São José dos Campos, praticou uma infração disciplinar, que após as devidas apurações em sindicância, resultou em instauração de processo disciplinar, devido a ensejar a imposição de penalidade de suspensão igual a 30 (trinta) dias. De acordo com a Lei Complementar Municipal nº 56/1992, como medida cautelar, a autoridade instauradora do processo disciplinar poderá determinar o afastamento preventivo de Jairo, pelo prazo de
- (A) 60 (sessenta) dias, sem prejuízo da remuneração, e que poderá ser prorrogado por igual período.
 - (B) 60 (sessenta) dias, com prejuízo da remuneração, e que poderá ser prorrogado por igual período.
 - (C) 30 (trinta) dias, sem prejuízo da remuneração, e que poderá ser prorrogado por igual período.
 - (D) 30 (trinta) dias, com prejuízo da remuneração, e que não poderá ser prorrogado.
 - (E) 20 (vinte) dias, sem o prejuízo da remuneração, e que poderá ser prorrogado até a conclusão final do processo disciplinar.
50. A Lei Complementar Municipal nº 56/1992, prevê sobre a ação disciplinar que
- (A) ela prescreverá em 10 (dez) anos, quando a infração for punível com a pena de demissão.
 - (B) ela prescreverá em 180 (cento e oitenta) dias, quando a infração for punível com a pena de suspensão.
 - (C) o prazo da prescrição começa a correr da data em que foi instaurada a sindicância.
 - (D) a abertura da instauração do processo disciplinar interrompe a prescrição.
 - (E) o prazo de prescrição, em nenhuma hipótese, poderá ser interrompido.

REDAÇÃO

TEXTO 1

O relatório do Painel Intergovernamental sobre Mudanças Climáticas (IPCC, sigla em inglês) publicado em agosto de 2021 mostrou que o papel da influência humana no aquecimento do planeta é inequívoco e inquestionável.

A meta do IPCC é limitar a alta da temperatura a 1,5°C: atualmente, esse número já subiu cerca de 1°C e eventos extremos do clima já afetam todo o globo. Embora governos e empresas tenham papéis fundamentais na mitigação da emissão de gases de efeito estufa, especialistas ouvidos pelo G1 apontam que a soma de ações individuais também pode efetivamente ajudar a diminuir o impacto do aquecimento global.

Isso porque todo ser humano está envolvido em atividades que emitem, direta ou indiretamente, gases de efeito estufa no seu dia a dia. Os pesquisadores deram para isso o nome de pegada de carbono: medida de cálculo equivalente à emissão na atmosfera por pessoa ou entidade.

Países mais ricos têm uma média maior de emissão: nos EUA, uma pessoa emite 16 toneladas de gases de efeito estufa, enquanto a média global é de cerca de quatro toneladas. Para evitar um aumento de 2°C na temperatura, os cientistas dizem que é preciso diminuir essa média para duas toneladas, de acordo com a organização Nature Conservancy.

Com a ressalva de que não é possível sugerir as mesmas posturas para pessoas de diferentes classes de renda, especialistas alertam que a maioria das oportunidades para diminuir nossa pegada de carbono estão, por exemplo, nas boas escolhas no uso dos meios de transporte (evitar o uso do automóvel e de viagens de avião) e na mudança da alimentação (diminuir o consumo de carne).

(“Aquecimento global: o que as pessoas podem fazer na prática para reduzir o impacto no clima”. <https://g1.globo.com>. 10.08.2021. Adaptado)

TEXTO 2

A tensão superficial a respeito dos impactos ambientais domina mesmo quando afirmamos estar lidando com a destruição dos nossos sistemas de suporte de vida causada pela mudança climática. Concentramo-nos naquilo que é denominado de micro-bolhas consumistas (MCB): pequenas questões como colherinhas de plástico e copos de café, em vez das enormes forças estruturais que nos conduzem à catástrofe. Somos obcecados por sacos de plástico. Acreditamos que estamos fazendo um favor ao mundo ao rejeitar sacolas plásticas, embora, em uma estimativa, o impacto ambiental de produzir uma sacola de algodão orgânico seja equivalente ao de 20.000 sacolas plásticas.

O foco corporativo no lixo, ampliado pela mídia, distorce nossa visão sobre todas as questões ambientais. Por exemplo, um recente levantamento das crenças públicas sobre a poluição dos rios descobriu que “lixo e plástico” são de longe a maior causa nomeada pelas pessoas. Na realidade, a maior fonte de poluição de água é a agricultura, seguida pelo esgoto. O lixo está muito abaixo da lista. Não é que o plástico não seja importante. O problema é que é quase a única história que nos chega.

Em 2004, uma empresa de publicidade que trabalha para uma gigante petrolífera levou a mudança de culpa um passo à frente ao inventar a pegada pessoal de carbono. Foi uma inovação útil, mas também teve o efeito de desviar a pressão política dos produtores de combustíveis fósseis para os consumidores. As grandes corporações petrolíferas não param por aí. O exemplo mais extremo já visto foi um discurso do chefe executivo de outra grande companhia petrolífera, em 2019. Ele nos instruiu para “comer sazonalmente e reciclar mais”, e repreendeu publicamente seu motorista por comprar uma cestinha de morangos em janeiro.

A grande transição política dos últimos 50 anos, impulsionada pelo marketing corporativo, foi uma mudança da abordagem coletiva dos nossos problemas para a abordagem individual. Em outras palavras, ela nos transformou de cidadãos em consumidores. Não é difícil ver por que temos sido levados por esse caminho. Como cidadãos, unidos para exigir mudanças políticas na condução da crise climática, somos poderosos. Como consumidores, por sua vez, somos quase impotentes.

(George Monbiot. “Monbiot: não acredite em poupar canudinhos”. <https://outraspalavras.net>. 08.11.2021. Adaptado)

Com base nos textos apresentados e em seus próprios conhecimentos, escreva um texto dissertativo-argumentativo, empregando a norma-padrão da língua portuguesa, sobre o tema:

COMBATE ÀS MUDANÇAS CLIMÁTICAS: RESPONSABILIDADE DOS INDIVÍDUOS OU DAS GRANDES CORPORAÇÕES?

REDAÇÃO

Em hipótese alguma será considerado o texto escrito neste espaço.

RASCUNHO

NÃO ASSINE ESTA FOLHA

