



**PREFEITURA MUNICIPAL DE TATUÍ  
ESTADO DE SÃO PAULO**

**CONCURSO PÚBLICO Nº 01/2019**

**AUXILIAR DE SAÚDE BUCAL**

---

**CADERNO DE  
QUESTÕES**

---

**ABRA SOMENTE QUANDO AUTORIZADO**

---

**Nome do Candidato:** \_\_\_\_\_

**Assinatura:** \_\_\_\_\_

**Concurso Realizado pela:**



**Planexcon**  
ASSESSORIA E CONSULTORIA PÚBLICA

**Contato**

[concurso@planexcon.com.br](mailto:concurso@planexcon.com.br)

Tel.0xx15 3282.3542

## INSTRUÇÕES

1. Este Caderno contém 09 páginas com questões de múltipla escolha, assim distribuídas:
  - **Língua Portuguesa**, com 10 questões, enumeradas de 01 a 10;
  - **Matemática**, com 05 questões, enumeradas de 11 a 15;
  - **Noções de Informática**, com 05 questões, enumeradas de 16 a 20;
  - **Conhecimentos Específicos**, com 10 questões, enumeradas de 21 a 30;
  - **Conhecimentos Gerais**, com 10 questões, enumeradas de 31 a 40.
2. Cada questão contém 5 (cinco) alternativas (a, b, c, d, e), das quais somente uma atende às condições do enunciado.
3. Esta prova terá a duração de 3 (três) horas, incluído o tempo necessário para preenchimento do Gabarito de Resposta, sendo permitida a saída do candidato da sala de prova somente após 30 minutos do seu início.
4. Responda a todas as questões. Para cômputo da nota, serão considerados apenas os acertos.
5. Não será permitido ao candidato o destaque de qualquer página da prova.
6. Não é permitido, em hipótese alguma, o empréstimo de qualquer objeto.
7. Não se atenha às questões que julgar difíceis, volte a elas se lhe sobrar tempo.
8. Estando as questões respondidas neste caderno, você deverá transcrever todas as alternativas assinaladas para o Gabarito de Respostas, utilizando caneta esferográfica de tinta preta ou azul.
9. Você receberá do Fiscal o Gabarito de Respostas. Verifique se estão em ordem e com todos os dados impressos corretamente. Caso contrário, notifique o Fiscal, imediatamente.
10. Após certificar-se de que a Gabarito de Respostas é seu, assine-o com caneta esferográfica de tinta preta ou azul no local em que há a indicação: "ASSINATURA DO (A) CANDIDATO (A)".
11. A folha de respostas não deve ser dobrada, amassada ou rasurada.
12. É de inteira responsabilidade do candidato qualquer prejuízo advindo de marcação incorreta efetuada no Gabarito de Respostas - Atenção: **O Gabarito de Respostas não será substituído em hipótese alguma.**
13. Serão nulas as respostas rasuradas ou múltiplas para uma mesma questão

***Boa Prova!***

## LÍNGUA PORTUGUESA

Leia o texto abaixo para responder as  
questões de números 01 a 04

### **Certas Coisas**

Não existiria som  
Se não houvesse o silêncio  
Não haveria luz  
Se não fosse a escuridão  
A vida é mesmo assim,  
Dia e noite, não e sim...

Cada voz que canta o amor não diz  
Tudo o que quer dizer,  
Tudo o que cala fala  
Mais alto ao coração.  
Silenciosamente eu te falo com paixão...

Eu te amo calado,  
Como quem ouve uma sinfonia  
De silêncios e de luz.  
Nós somos medo e desejo,  
Somos feitos de silêncio e sons,  
Tem certas coisas que eu não sei dizer...

A vida é mesmo assim,  
Dia e noite, não e sim...

Eu te amo calado,  
Como quem ouve uma sinfonia  
De silêncios e de luz,  
Nós somos medo e desejo,  
Somos feitos de silêncio e sons,  
Tem certas coisas que eu não sei dizer..  
E digo...

Compositor: Lulu Santos

### **QUESTÃO 01**

A antítese figura de linguagem, ocorre em:

- Eu te amo calado.
- Como quem ouve uma sinfonia.
- Silenciosamente eu te falo com paixão.
- Somos feitos de silêncio e sons.
- Tem certas coisas que eu não sei dizer.

### **QUESTÃO 02**

No verso: "Silenciosamente eu te falo com  
paixão...", o vocábulo sublinhado pertence a  
mesma classe gramatical que:

- Algum.

- Uma.
- Ainda.
- Nesse.
- Caso.

### **QUESTÃO 03**

Em "Eu te amo calado", o substantivo "calado"  
tem a função sintática de:

- Complemento nominal.
- Agente da passiva.
- Objeto indireto.
- Objeto direto.
- Predicativo do sujeito.

### **QUESTÃO 04**

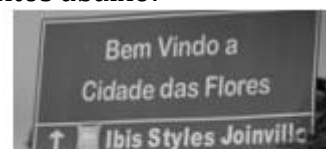
Leia os versos a seguir: "Eu te amo  
calado/Como quem ouve uma sinfonia".

A oração destacada é classificada como:

- Subordinada substantiva objetiva direta.
- Subordinada adverbial comparativa.
- Coordenada sindética conclusiva.
- Coordenada assindética.
- Subordinada substantiva completiva nominal.

### **QUESTÃO 05**

Leia os textos abaixo:



A ninguém interessa o  
nosso plano.

Assinale a alternativa cujos termos estão de  
acordo com a norma-padrão:

- Bem-vindo à cidade das flores/ A ninguém  
interessa o nosso plano.
- Bem vindo à cidade das flores/ À ninguém  
interessa o nosso plano.
- Bem vindo a cidade das flores/ A ninguém  
interessa o nosso plano.
- Bem-vindo a cidade das flores/ A ninguém  
interessa o nosso plano.
- Bem-vindo à cidade das flores/ À ninguém  
interessa o nosso plano.

### **QUESTÃO 06**

O cidadão é o maior agente para melhorar o

planeta. Para a consolidação efetiva de um processo de desenvolvimento sustentável, faz-se necessária a participação coletiva, mas para atingir é preciso que tenha início no individual, ou seja, partir do particular para o geral. Nesse sentido, cada indivíduo deve avaliar seu conjunto de comportamentos e as possíveis consequências que eles provocam no meio ambiente e buscar seus interesses de modo que não haja grandes agressões a ele.

<https://brasilecola.uol.com.br/geografia/o-cidadao-no-desenvolvimento-sustentavel.htm>- (Acesso em 14/03/2019)

O texto traz algumas dicas para que o processo de desenvolvimento sustentável aconteça. Assinale a alternativa cujo vocábulo é sinônimo do termo “sustentável”:

- a) Defensável.
- b) Inoperacional.
- c) Padecido.
- d) Planetário.
- e) Térreo.

### QUESTÃO 07

Das as alternativas abaixo, qual representa um parônimo do verbo deferir:

- a) Atender.
- b) Conceder.
- c) Diferir.
- d) Adiar.
- e) Prolongar.

Leia o texto abaixo para responder as questões de números 08 a 10



### QUESTÃO 08

Susi! Me ajuda a bolar uns nomes científicos pros meus insetos **enquanto** a professora não está olhando. Assinale a alternativa em que a classificação morfológica do termo destacado do texto está *correta*:

- a) Pronome possessivo.
- b) Conjunção.
- c) Substantivo.
- d) Preposição.
- e) Advérbio.

### QUESTÃO 09

A alternativa em que todas as palavras apresentadas são acentuadas em virtude da mesma regra que determina a acentuação da palavra “**agradável**” apresentada no texto, está em:

- a) Bíceps/ingênuo/córtex.
- b) Ímpar/córtex/caráter.
- c) Água/ fósfil/ ímpar.
- d) Série /nódoa /aéreo.
- e) Fácil/adorável/réptil.

### QUESTÃO 10

No segmento “*Quem sabe, sentando lá na frente da turma, você pare de distrair o Calvin*” as vírgulas são empregadas para:

- a) Separar aposto e vocativo.
- b) Marcar a supressão do verbo em uma oração.
- c) Separar orações independentes.
- d) Separar adjunto adverbial deslocado.
- e) Indicar a elipse de um termo.

## MATEMÁTICA

### QUESTÃO 11

No Condomínio Mar Azul, tem um reservatório de água em forma de cilindro cuja base é um círculo de raio de 10 metros e 6 metros de altura. Como o aspecto dele estava bastante embolorado, resolveu-se pintá-lo. O pintor contratado para executar o serviço, cobrou um valor de R\$ 8,00 o metro quadrado de pintura. Ao término do serviço o valor devido ao pintor foi de:

- a) R\$ 1.280,00.
- b) R\$ 2.048,00.
- c) R\$ 2.560,00.
- d) R\$ 4.800,00.
- e) R\$ 8.038,40.

**Caderno de Questões**  
**AUXILIAR DE SAÚDE BUCAL**

**QUESTÃO 12**

Um conservatório musical tem 320 alunos matriculados. Entre eles, 146 tocam violão, 84 tocam flauta e 38 tocam os dois instrumentos. Escolhendo ao acaso um dos alunos, qual a probabilidade de ele não tocar nenhum desses instrumentos:

- a) 42%.
- b) 41%.
- c) 40%.
- d) 38%.
- e) 35%.

**QUESTÃO 13**

Três costureiras produziram 250 lençóis em 5 dias. Se a oficina contratar mais duas costureiras por 3 dias, quantos lençóis serão produzidos pelas 5 costureiras:

- a) 500.
- b) 520.
- c) 680.
- d) 700.
- e) 710.

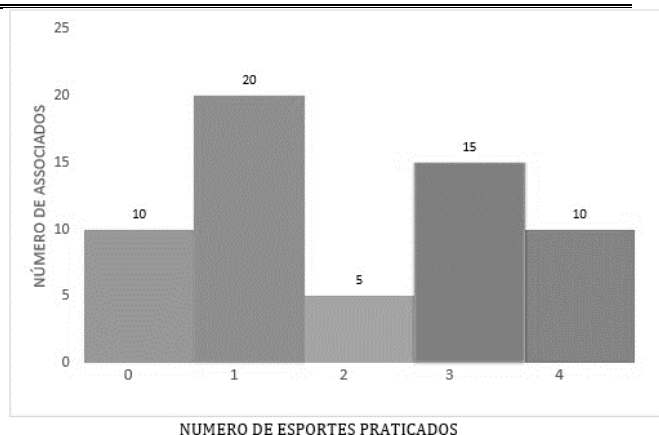
**QUESTÃO 14**

Se Willian é ator, então Gisele não é atleta. Se Odilon é atleta, então Sérgio é caricaturista. Assim sendo, podemos verificar que: Gisele e Odilon são atletas. Logo, se conclui que:

- a) Willian é ator e Sérgio é caricaturista.
- b) Willian é ator se, e somente se, Sérgio é caricaturista.
- c) Willian não é ator e Sérgio não é caricaturista.
- d) Willian não é ator e Sérgio é caricaturista.
- e) Willian não é ator se, e somente se, Sérgio não é caricaturista.

**QUESTÃO 15**

Observe o gráfico abaixo:



Certa tarde, no clube de campo “Céu Azul,” foi realizada uma pesquisa entre os associados que se encontravam na lanchonete, com a finalidade de saber o número de esportes que cada entrevistado pratica semanalmente. De acordo com o gráfico, e considerando o total de associados pesquisados, a porcentagem de associados que pratica semanalmente 2 ou 4 esportes é de:

- a) 5%.
- b) 10%.
- c) 15%.
- d) 20%.
- e) 25%.

**NOÇÕES DE INFORMÁTICA**

**QUESTÃO 16**

Observe os ícones a seguir do grupo “Fonte” do Microsoft Word 2010:



Pela ordem em que aparecem, eles desempenham as seguintes funções:

- a) Iniciar uma lista com marcadores/Iniciar uma lista numerada.
- b) Limpar toda formatação da seleção, deixando o texto sem formatação/ Aplicar um efeito visual ao texto selecionado, como sombra, brilho ou reflexo.
- c) Colorir o plano de fundo atrás do texto/Alterar a cor do texto.
- d) Aplicar realce ao texto/Alterar cor ao texto.
- e) Iniciar uma lista com marcadores/Colocar o texto em ordem alfabética.

**QUESTÃO 17**

Observe a imagem abaixo do grupo “Classificar e filtrar” do Microsoft Excel 2010 e considere as assertivas que seguem assinalando V para a verdadeira e F para a falsa:








- (     ) A opção Limpar permite limpar o filtro e o estado de classificação do intervalo de dados atuais.  
 (     ) A opção Reaplicar permite reaplicar o filtro e a classificação no intervalo atual.  
 (     ) A opção Filtro permite habilitar a filtragem das células selecionadas.

As assertivas são, respectivamente, de cima para baixo:

- a) V, V, V.  
 b) F, F, V.  
 c) V, F, V.  
 d) V, F, F.  
 e) F, V, F.

**QUESTÃO 18**

No Microsoft Word 2010, o recurso que faz o texto parecer como se tivesse sido marcado com um marca-texto é o que consta na alternativa:

- a)   
 b)   
 c)   
 d)   
 e) 

**QUESTÃO 19**

Analise as afirmativas abaixo:

1. Um URL (Uniform Resource Locator) é o endereço de um recurso (um arquivo, uma impressora etc.), disponível em uma rede; seja a Internet, ou uma rede corporativa, uma intranet. Uma URL tem a seguinte estrutura:  
 protocolo://máquina/caminho/recurso.

2. Para que dois computadores possam se comunicar é necessário que se tenha um conjunto de regras a seguir no cumprimento da troca de informações. A esse conjunto de regras denomina-se Protocolo.  
 3. O protocolo utilizado na internet é o Protocolo TCP/IP (Transmission Control Protocol/Internet Protocol), que permite as redes se comuniquem umas com as outras.

Está (ão) correta(s) a(s) afirmativa(s):

- a) 1 apenas.  
 b) 1 e 2 apenas.  
 c) 1, 2 e 3.  
 d) 2 e 3 apenas.  
 e) 3 apenas.

**QUESTÃO 20**

Observe a Planilha 1, do Microsoft Excel 2010. A seguir, observe a Planilha 2 onde foi utilizado um recurso nas células A1, B1 e C1 do Grupo Alinhamento:

PLANILHA 1

	A	B	C
1	Empresa Fulano de tal		
2			
3	Produtos	Quant.	Valores
4	Vassouras	5	R\$ 15,00
5	Escova	3	R\$ 3,75
6	Panos	3	R\$ 2,25

PLANILHA 2

	A	B	C
1	Empresa Fulano de tal		
2			
3	Produtos	Quant.	Valores
4	Vassouras	5	R\$ 15,00
5	Escova	3	R\$ 3,75
6	Panos	3	R\$ 2,25

O recurso utilizado é:

- a) Alinhar ao Meio.  
 b) Diminuir Recuo.  
 c) Orientação.  
 d) Mesclar e Centralizar.  
 e) Aumentar recuo.

**CONHECIMENTOS ESPECÍFICOS**

**QUESTÃO 21**

**Caderno de Questões**  
**AUXILIAR DE SAÚDE BUCAL**

O tubeeculo de carabelli faz parte da anatomia de qual elemento dentário em qual face do dente e sua porção:

- a) Primeiro molar superior, palatina, porção de cúspide mesial.
- b) Segundo molar superior, palatina, porção de cúspide mesial.
- c) Canino, palatina, porção cervical.
- d) Primeiro molar inferior, lingual, porção de cúspide distal.
- e) Primeiro molar superior, palatina, porção de cúspide distal.

**QUESTÃO 22**

A ponte de esmalte do primeiro molar superior é uma estrutura de reforço de esmalte. Em qual face do dente e quais estruturas une:

- a) Oclusal, une cúspides mesio-vestibular e disto-palatina.
- b) Oclusal, une cúspides disto-vestibular e mesio-palatina.
- c) palatina, une cúspide mesial e distal.
- d) Palatina, equador protético a crista marginal distal.
- e) Palatina, une cúspides mesio-vestibular e disto-palatina.

**QUESTÃO 23**

Analise as afirmativas quanto a radiologia:

- I. O rx é invisível, propaga-se em linha reta, impressionam chapas fotograficas e não são refletidos ou refratados.
- II. A energia utilizada para obtenção das imagens radiograficas é uma energia eletromagnética.
- III. O aparelho de rx é composto de base, corpi, cabecote e braço articulado

Assinale a alternativa incorreta:

- a) I e II.
- b) II e III.
- c) I, II e III.
- d) Apenas III.
- e) Todas as alternativas estão incorretas.

**QUESTÃO 24**

Quanto ao controle de preenchimento de ficha é correto afirmar:

- I. Pode ser feito de forma manual ou através de programas específicos para a odontologia.

- II. Pode-se manter dois tipos de arquivo: arquivo morto e arquivo de pacientes em tratamento.
- III. A forma de se cadastrar paciente é exclusivamente por nome.
- IV. Antes de guardar a ficha do paciente deve-se registrar todo procedimento realizado sem rasura.

Está (ão) correta (s):

- a) Todas estão corretas.
- b) Todas estão incorretas.
- c) III é incorreta.
- d) II é incorreta.
- e) IV é incorreta.

**QUESTÃO 25**

O auxiliar odontológico é:

- I. É um membro de fundamental importância na equipe odontológica quando bem formado.
- II. Pode aumentar a produtividade e qualidade do serviço.
- III. Reduz estresse de paciente e profissional.
- IV. Pode exercer a atividade de gerente, instrumentador, atividades gerais e atividades específicas.

Assinale a alternativa correta:

- a) Todas as afirmações estão incorretas.
- b) Somente a afirmação IV está incorreta.
- c) Somente a afirmação II e III estão corretas.
- d) Somente as afirmações I, II e III estão corretas.
- e) Todas as afirmações estão corretas.

**QUESTÃO 26**

Qual a finalidade do verniz simples nos preparos cavitários:

- a) Isolamento térmico e proteção do complexo dentina polpa.
- b) Induzir a formação de dentina.
- c) Reduzir a sensibilidade pos-operatória.
- d) Fonte de íon flúor para paciente com alto risco de cárie.
- e) Agente cimentante.

**QUESTÃO 27**

A respeito do cimento de ionomero de vidro quanto as suas propriedades é verdadeiro afirmar:



- a) Liberar ion flúor com efeito ccariostático Local.
- b) Biocompatibilidade.
- c) Adesividade a estrutura.
- d) Coeficiente de expansão térmica similar a estrutura dental conferindo bom vedamento marginal.
- e) Todas estão corretas.

### **QUESTÃO 28**

Quanto a limpeza e esterilização das peças de mão, é errado executar:

- a) Somente as peças que possuem o símbolo de esterilização podem ser autoclavadas.
- b) Deve-se acionar as peças alguns segundos antes de retirar-las das pontas do cartão.
- c) Limpar fibra ótica com álcool comum, embalar e esterilizar.
- d) Lubrificar e tirar o excesso de lubrificante.
- e) Limpeza externa com escova e secagem com papel descartável.

### **QUESTÃO 29**

No sistema respiratório quem conduz os gases são:

- a) Os pulmões.
- b) O nariz.
- c) A traquéia.
- d) O sangue.
- e) Todas as alternativas estão incorretas.

### **QUESTÃO 30**

O processamento radiográfico odontológico pode ser realizado de forma manual e, também, por processadora imergindo o filme em soluções químicas específicas. Na revelação manual, onde se utiliza a câmara escura, a sequência correta para a revelação do filme é:

- a) Fixador; lavagem com água, revelador; lavagem com água e secagem.
- b) Revelador; lavagem com água, fixador; lavagem com água e secagem.
- c) Revelador; lavagem com água, fixador e secagem.
- d) Fixador; lavagem com água, revelador e secagem.
- e) Revelador; fixador; lavagem com água e secagem.

## **CONHECIMENTOS GERAIS**

### **QUESTÃO 31**

A Mangueira é a grande escola campeã do carnaval 2019 do Rio de Janeiro. Para conquistar o seu 20º título, a Mangueira apresentou o seguinte enredo:

- a) “História pra ninar gente grande”.
- b) “Cada macaco no seu galho. Ó, meu pai, me dê o pão que eu não morro de fome”.
- c) “Quem nunca...? Que atire a primeira pedra!”.
- d) “Quem não viu vai ver...As fábulas do Beija-flor”.
- e) “Me dá um dinheiro aí”.

### **QUESTÃO 32**

“O comitê organizador dos jogos de Tóquio de 2020 apresentou na quarta-feira (20 de março) a tocha olímpica.”

<https://is.gd/JRKKZc> Acesso em 23 de Março de 2019–  
Adaptado

Assinale a alternativa *incorreta* a respeito do trecho acima:

- a) Com design moderno, 71 centímetros e 1,2 kg, a tocha tem tons em dourado e rosa e formato de uma flor de cerejeira estilizada.
- b) A tocha é trabalho do designer Tokujin Yoshioka.
- c) O comitê nomeou a cor sakura e ouro - sakura significa flor de cerejeira em japonês.
- d) A árvore cerejeira é símbolo mundial e floresce em distintos períodos do ano, sendo mais de 200 tipos.
- e) A tocha olímpica é feita de alumínio, com 30% de material reciclado de resíduos de construção de habitações temporárias de Iwate, Miyagi e Fukushima, destinadas a pessoas que perderam suas casas no terremoto e tsunami em 2011.

### **QUESTÃO 33**

O ex-presidente Michel Temer foi preso em São Paulo na manhã de quinta-feira (21/03/19) pela força-tarefa da Lava Jato do Rio de Janeiro. Os agentes também prenderam o ex-ministro Moreira Franco no Rio. A prisão de Temer é preventiva, ou seja, sem prazo determinado.

Temer é um dos alvos da Lava Jato do Rio. A

**Caderno de Questões**  
**AUXILIAR DE SAÚDE BUCAL**

prisão teve como base a delação de \_\_\_\_\_, dono da Engevix. O empresário disse à Polícia Federal que pagou \_\_\_\_\_, a pedido do coronel João Baptista Lima Filho (amigo de Temer), do ex-ministro Moreira Franco e com o conhecimento do presidente Michel Temer.

<https://is.gd/HTNFZq> Acesso em 23 de Março de 2019– Adaptado

A Engevix fechou um contrato em um projeto da usina de Angra 3:

- a) Joesley Batista/cem mil em propina.
- b) José Antunes Sobrinho/um milhão em propina.
- c) Vanderlei de Natale/duzentos mil em propina.
- d) Brian Prado/cento e cinquenta mil em propina.
- e) Wellington Moreira Franco/duzentos e vinte mil em propina.

**QUESTÃO 34**

O naufrágio de uma balsa superlotada deixou dezenas mortos no rio Tigre, em Mossul, no norte do Iraque, na quinta-feira (21/03/19). Ela transportava passageiros da margem do rio para uma pequena ilha turística chamada Um al Rabeein. Segundo o Ministério do Interior iraquiano, 94 pessoas morreram.

A maioria das vítimas são mulheres e crianças que não sabiam nadar, disse o chefe da Defesa Civil de Mossul, Husam Khalil. Cerca de 250 pessoas estavam a bordo, cinco vezes mais que a capacidade da balsa, informou.

<https://is.gd/nzhfQt> Acesso em 23 de Março de 2019– Adaptado

As causas do naufrágio continuam desconhecidas, porém:

1. Oficiais iraquianos disseram à AP que houve um problema técnico.
2. Fontes disseram que não havia barcos na área o suficiente para resgatar as vítimas.
3. Suspeita-se também de que a abertura das barragens pode ter causado aumento no nível de água, o que pode ter desestabilizado a embarcação.

Está (ão) correta (s) a (s) alternativa(s):

- a) 1 apenas.
- b) 1 e 2 apenas.

- c) 1, 2 e 3.
- d) 2 e 3 apenas.
- e) 2 apenas.

**QUESTÃO 35**

O comitê organizador da Olimpíada de 2020, em Tóquio, anunciou na madrugada de 22/7/18 o nome dos mascotes da Olimpíada e Paraolimpíada. Suas figuras já eram conhecidas, mas o batismo aconteceu em cerimônia transmitida ao vivo nas redes sociais. Assim sendo, o mascote dos Jogos Olímpicos foi chamado de \_\_\_\_\_, que na escrita japonesa é a junção das palavras 未来 (futuro) e 永遠 (eternidade). Já o mascote paraolímpico foi batizado de \_\_\_\_\_.

<https://is.gd/EfgMdo> Acesso em 23 de Março de 2019– Adaptado

Na língua portuguesa significa "tão poderoso".

- a) Shitennoji/ Someity.
- b) Mie Ken/ Miraitowa.
- c) Keio/ Odakyu.
- d) Shinjuku/ Mie Ken.
- e) Miraitowa/ Someity.

**QUESTÃO 36**

O ciclone Idai, que atingiu o sudeste da África, neste mês de março, particularmente a costa de Moçambique com maior força, começa a revelar seus estragos uma semana depois.

Imagens do sistema de satélites da Agência Espacial Europeia mostram que cerca de 2.600 quilômetros quadrados de terra estão inundados apenas na região de Beira, em Moçambique. Os números da destruição causada pelo fenômeno impressionam. Apenas nas províncias de Sofala e Manica — as mais afetadas pelo ciclone são 109.528 pessoas diretamente afetadas.

<https://is.gd/LeuSZe> Acesso em 24 de Março de 2019– Adaptado

( ) A cidade de Beira ficou devastada porque, ao chegar na região costeira, a umidade do oceano alimentou a potência do ciclone.

( ) Governo de Moçambique confirma 242 mortos após ciclone.

( ) A ONU já considera que o ciclone pode ter sido o "pior desastre climático que se abateu sobre o hemisfério norte".

**Caderno de Questões**  
**AUXILIAR DE SAÚDE BUCAL**

(        ) Se comparado com o furacão Florence e o furacão Michael, que atingiram os EUA no ano passado, o ciclone Idai já matou pelo menos o triplo de pessoas até o momento.

As afirmativas são, respectivamente, de cima para baixo:

- a) V, V, F e V.
- b) V, V, V e V.
- c) V, V, F, e F.
- d) F, F, V e V.
- e) V, F, V e F.

**QUESTÃO 37**

Os muçulmanos voltaram no sábado (23/03/19) à mesquita de Al Noor, pela primeira vez desde o massacre de 50 fiéis por um extremista australiano, no dia 15 de março. Após o ataque perpetrado por Brenton Tarrant, um supremacista branco de 28 anos, contra duas mesquitas dessa cidade do sul da Nova Zelândia, a polícia havia fechado Al Noor por motivos de segurança e para facilitar as investigações. Pequenos grupos de fiéis da comunidade muçulmana local foram autorizados a entrar em Al Noor no sábado, 23/3. "Recebemos as pessoas em grupos de 15, para ir recuperando uma certa normalidade", explicou Saiyad Hassen, voluntário na mesquita. "No momento não é possível dizer quando tudo voltará ao normal", disse Hassen.

<https://is.gd/fol9we> Acesso em 25 de Março de 2019–  
*Adaptado*

Esse fato aconteceu na cidade de:

- a) Auckland.
- b) Wellington.
- c) Queenstown.
- d) Christchurch.
- e) Tauranga.

**QUESTÃO 38**

Depois de abrir as visitas a chefes de Estado com a viagem aos Estados Unidos, o presidente Jair Bolsonaro chegou ao Chile na quinta-feira (21/3) para um encontro com líderes de outros países da América do Sul na sexta-feira e para se reunir com o presidente chileno, Sebastián Piñera, no sábado. A escolha do Chile como primeiro destino de viagem na América do Sul do presidente Jair

Bolsonaro é explicada pelo governo brasileiro com base em três motivações.

<https://is.gd/4acxz7> Acesso em 25 de Março de 2019–  
*Adaptado*

Analise as afirmativas abaixo:

1. O alinhamento ideológico entre os dois presidentes.
2. A oportunidade de reunir uma nova cúpula de países da América do Sul.
3. O fato de o Chile ser o segundo principal parceiro comercial com o Brasil da região.
4. Um ponto interessante é que algumas empresas brasileiras têm criado sede em Santiago para usar os acordos de livre-comércio do Chile.
5. O presidente brasileiro havia prometido a Sebastián Piñera que visitaria seu país tão logo assumisse o governo do Brasil.

As afirmativas verdadeiras que traduzem as três motivações, são, respectivamente, de cima para baixo:

- a) 1, 2 e 4.
- b) 1, 3, e 5.
- c) 3, 4 e 5.
- d) 2, 3 e 4.
- e) 1, 2 e 3.

**QUESTÃO 39**

Morre no Rio, em 23 de março último, o autor, diretor e ator Domingos Oliveira. Tinha 82 anos e se sentiu mal em casa. Apesar de doente na última década – sofria de Mal de Parkinson – e com dificuldades para andar, o artista nunca parou de produzir.

<https://is.gd/fVitYd> Acesso em 26 de Março de 2019–  
*Adaptado*

O artista se consagrou com os filmes:

- a) Casa de Areia/Amarelo Manga.
- b) Todas as mulheres do mundo/Barata Ribeiro, 716.
- c) Cidade de Deus/ Carandiru.
- d) O Lobo Atrás da Porta/Tatuagem.
- e) O cangaceiro/O som ao redor.

**QUESTÃO 40**

Medidas preventivas contra o Aedes aegypti devem ser reforçadas o ano todo, já que o mosquito também se prolifera no frio. No país o aumento de casos da dengue foi de

**Caderno de Questões**  
**AUXILIAR DE SAÚDE BUCAL**

---

264%. Foram registrados 229.064 casos nas primeiras 11 semanas de 2019 (até 16 de março). No mesmo período de 2018 foram registrados 62,9 mil casos de dengue.

<https://is.gd/7pTf0j> Acesso em 26 de Março de 2019-  
*Adaptado*

De acordo com a pasta, metade de todas as mortes registradas neste ano no Brasil por causa da doença - 31 dos 62 óbitos foi no estado:

- a) Da Paraíba.
- b) Do Rio de Janeiro.
- c) De São Paulo.
- d) De Alagoas.
- e) Do Pará.