



PREFEITURA DE SOROCABA

ESTADO DE SÃO PAULO

CONCURSO PÚBLICO

003. PROVA OBJETIVA

SECRETÁRIO DE ESCOLA

- ◆ Você recebeu sua folha de respostas e este caderno contendo 50 questões objetivas.
- ◆ Confira seus dados impressos na capa deste caderno e na folha de respostas.
- ◆ Quando for permitido abrir o caderno, verifique se está completo ou se apresenta imperfeições. Caso haja algum problema, informe ao fiscal da sala.
- ◆ Leia cuidadosamente todas as questões e escolha a resposta que você considera correta.
- ◆ Marque, na folha de respostas, com caneta de tinta preta, a letra correspondente à alternativa que você escolheu.
- ◆ A duração da prova é de 3 horas e 30 minutos, já incluído o tempo para o preenchimento da folha de respostas.
- ◆ Só será permitida a saída definitiva da sala e do prédio após transcorridos 60 minutos do início da prova.
- ◆ Deverão permanecer em cada uma das salas de prova os 3 últimos candidatos, até que o último deles entregue sua prova, assinando termo respectivo.
- ◆ Ao sair, você entregará ao fiscal a folha de respostas e este caderno, podendo levar apenas o rascunho de gabarito, localizado em sua carteira, para futura conferência.
- ◆ Até que você saia do prédio, todas as proibições e orientações continuam válidas.

AGUARDE A ORDEM DO FISCAL PARA ABRIR ESTE CADERNO DE QUESTÕES.

Nome do candidato _____

RG _____

Inscrição _____

Prédio _____

Sala _____

Carteira _____

CONHECIMENTOS GERAIS

LÍNGUA PORTUGUESA

01. Leia a tira para responder à questão.



(Alexandre Beck. *Armandinho Zero*. 1ª Ed. Florianópolis, SC: A. C. Beck, 2013, p. 19)

O efeito de sentido da tira é construído a partir da atribuição, pelos personagens, de significados diversos à seguinte palavra ou expressão:

- (A) sua tia.
- (B) decorar.
- (C) toda a nossa casa.
- (D) já acho difícil.
- (E) tabuada de dois.

Leia o texto para responder às questões de números **02 a 08**.

O livro didático como professor

A ideia de substituir os livros didáticos escolares por material retirado diretamente da internet suscitou reações variadas. Editores de livros escolares e livrarias veem no projeto uma ameaça mortal para uma indústria que dá trabalho a milhares de pessoas. Por mais solidário que me sinta em relação a editores e livrarias, é possível dizer que, pelas mesmas razões, muitas outras classes de trabalhadores poderiam protestar. Se a história avançar inelutavelmente nessa direção, esta força de trabalho teria de reciclar-se de alguma forma.

Outra objeção é que a iniciativa prevê um computador para cada aluno e é duvidoso que o Estado possa arcar com essa despesa, e, se os pais tivessem que arcar com ela, gastariam mais do que gastam com livros didáticos. Por outro lado, se cada turma tivesse somente um computador para todos, cairia o aspecto de pesquisa pessoal que poderia constituir o fascínio dessa solução.

Mas o problema é outro. É que a internet não se destina a substituir os livros, mas é apenas um formidável complemento a eles e um incentivo para ler mais. O livro continua a ser o instrumento príncipe da transmissão e disponibilidade do saber e os textos escolares representam a primeira e insubstituível ocasião de educar as crianças ao uso do livro. Além disso, a internet oferece um repertório fantástico de informações, mas não os meios para selecioná-las, e a educação não consiste apenas em transmitir informações, mas também em ensinar critérios de seleção.

Esta é a função do professor, mas é também a função do texto escolar, que oferece exatamente um exemplo de seleção realizada no grande mar de toda informação possível. Se as crianças não aprendem isso, ou seja, que cultura não é acúmulo, mas seleção e discriminação, não há educação, apenas desordem mental.

(Humberto Eco. *Pape Satàn Aleppe: crônicas de uma sociedade líquida*. Rio de Janeiro: Record, 2017. Adaptado)

02. De acordo com o autor do texto,

- (A) a oposição de editoras e livrarias à substituição do livro didático por computadores tem impedido que haja melhoras na qualidade do ensino.
- (B) o fenômeno da inserção gradual dos computadores no ensino impõe às escolas a tarefa de repensar a formação dos profissionais da educação.
- (C) a substituição gradual dos livros escolares por computadores é um evento inevitável, a despeito dos protestos das editoras e de livrarias.
- (D) o uso de informações da internet em sala de aula pode se mostrar, a longo prazo, uma solução viável para substituição do livro didático.
- (E) usada de forma complementar, a internet tem potencial para estimular a aprendizagem, mas os livros escolares continuam imprescindíveis.

03. Conforme a opinião do autor do texto,

- (A) a qualificação dos professores para o uso de outras opções ao livro didático é fundamental para despertar o interesse das crianças pela leitura.
- (B) a disponibilidade quase infinita de conteúdos que podem ser facilmente copiados inviabiliza o uso da internet como ferramenta de ensino escolar.
- (C) para a educação, mais importante do que a disponibilização é a seleção de informações, o que assegura a relevância do papel do professor.
- (D) a preferência dos professores pelos livros didáticos cria empecilhos para a adoção de outras ferramentas que poderiam potencializar o ensino.
- (E) a ausência, nos livros didáticos, de textos que despertem interesse tem concorrido decisivamente para a adoção da internet pelas escolas.

04. Na frase do 4º parágrafo – ... é também a função do texto escolar, que oferece **exatamente** um exemplo de seleção... –, o termo em destaque expressa circunstância de

- (A) intensidade.
- (B) afirmação.
- (C) dúvida.
- (D) modo.
- (E) tempo.

05. Considere as seguintes frases do 3º parágrafo do texto:

- É que a internet não se destina a substituir **os livros**...
- ... a educação não consiste apenas em transmitir **informações**...

Considerando que a expressão **os livros** e o termo **informações**, em destaque nas frases, já constam em passagens anteriores do texto, para evitar tal repetição, a sua substituição por pronomes atende à norma-padrão da língua portuguesa em:

- (A) É que a internet não se destina a substituir-**lhes** / ... a educação não consiste apenas em transmitir-**lhes**...
- (B) É que a internet não se destina a substituir-**lhes** / ... a educação não consiste apenas em transmiti-**las**...
- (C) É que a internet não se destina a substituí-**los** / ... a educação não consiste apenas em transmiti-**las**...
- (D) É que a internet não se destina a substituir-**nos** / ... a educação não consiste apenas em transmitir-**lhes**...
- (E) É que a internet não se destina a substituí-**los** / ... a educação não consiste apenas em transmitir-**nas**...

06. Na articulação das informações do texto, o termo destacado na frase do 1º parágrafo – **Se** a história avançar inelutavelmente nessa direção... – estabelece relação com sentido de

- (A) condição.
- (B) oposição.
- (C) conclusão.
- (D) explicação.
- (E) comparação.

07. Considere as frases do 1º parágrafo do texto:

- ... material retirado diretamente da internet **suscitou** reações variadas.
- Se a história avançar **inelutavelmente** nessa direção...

Os termos em destaque nas frases têm como sinônimos, respectivamente:

- (A) inspirou; plenamente.
- (B) provocou; implacavelmente.
- (C) originou; inconstantemente.
- (D) dirimiu; indissociavelmente.
- (E) dissolveu; deliberadamente.

08. Está empregado em sentido figurado o termo destacado em:

- (A) A ideia de **substituir** os livros didáticos escolares por material retirado diretamente da internet...
- (B) Editores de livros escolares e livrarias veem no **projeto** uma ameaça...
- (C) Outra objeção é que a **iniciativa** prevê um computador para cada aluno...
- (D) ... é apenas um formidável complemento a eles e um **incentivo** para ler mais.
- (E) ... exatamente um exemplo de seleção realizada no grande **mar** de toda informação possível.

Há quem prefira rodeios, shows de cantores sertanejos ou carreatas políticas. Para mim, poucas coisas _____ tanto a experiência humana quanto o teatro. É exercido por pessoas que, ao se despirem de si _____ para encarnar outras, falam de cada um de nós na plateia. É assim desde os gregos, _____ mais de 2000 anos, e continuará a ser pelos próximos 2000. Só _____ ser ao vivo, sujeito tanto a um ator hesitar numa fala como a dizê-la de modo fabuloso, inigualável – e nos dois casos essa fala se dissipará assim que o ator acabar de dizê-la.

(Ruy Castro. *Drama por trás da cortina*. Disponível em <https://www1.folha.uol.com.br/colunas/ruycastro/2020/09/drama-por-tras-da-cortina.shtml>. 12.09. 2020. Adaptado)

09. Em atendimento à norma-padrão de concordância da língua portuguesa, as lacunas do texto devem ser preenchidas, respectivamente, com:

- (A) engrandece ... mesmas ... fazem ... precisam
- (B) engrandecem ... mesma ... fazem ... precisa
- (C) engrandecem ... mesma ... há ... precisam
- (D) engrandecem ... mesmas ... há ... precisa
- (E) engrandece ... mesma ... há ... precisa

10. Assinale a alternativa em que a inserção das vírgulas na frase – ... e nos dois casos essa fala se dissipará assim que o ator acabar de dizê-la. – atende à norma-padrão de pontuação da língua portuguesa.

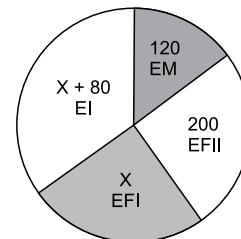
- (A) ... e, nos dois casos, essa fala se dissipará assim que o ator acabar de dizê-la.
- (B) ... e nos dois casos, essa fala, se dissipará assim que o ator acabar de dizê-la.
- (C) ... e nos dois casos essa fala, se dissipará, assim que o ator acabar de dizê-la.
- (D) ... e nos dois casos essa fala se dissipará, assim que o ator, acabar de dizê-la.
- (E) ... e nos dois casos essa fala se dissipará assim que, o ator acabar, de dizê-la.

11. Em uma empresa trabalham 60 funcionários, dos quais $\frac{4}{5}$ são contratados e os demais, temporários. Se $\frac{1}{3}$ dos temporários for contratado, o número de funcionários temporários, em relação ao número total de funcionários da empresa, passará a ser de:

- (A) $\frac{1}{15}$
- (B) $\frac{2}{15}$
- (C) $\frac{1}{5}$
- (D) $\frac{4}{15}$
- (E) $\frac{1}{3}$

12. O gráfico mostra algumas informações sobre o número de alunos matriculados no ensino infantil (EI), ensino fundamental I (EFI), ensino fundamental II (EFII) e ensino médio (EM), de uma escola.

Número de Alunos Matriculados



O número de alunos matriculados no *ensino infantil* e no *ensino fundamental I*, juntos, corresponde a 60% do número total de alunos matriculados na escola, e no *ensino infantil* há 80 alunos a mais do que no *ensino fundamental I*. Em relação ao número total de alunos matriculados, o número de alunos do *ensino infantil* corresponde a:

- (A) 50%
- (B) 45%
- (C) 40%
- (D) 35%
- (E) 30%

13. Um funcionário precisa analisar determinado número de documentos. Se ele analisar 15 documentos por dia, levará 1 dia a mais para finalizar a tarefa do que levaria se analisasse 20 documentos por dia. O número de documentos que esse funcionário precisa analisar é
- (A) 30.
(B) 45.
(C) 60.
(D) 75.
(E) 90.
14. Um capital aplicado a juro simples com taxa de 1,5% ao mês, durante 6 meses, rendeu R\$ 81,00 de juros. Se a taxa mensal dessa aplicação fosse de 2%, esse mesmo capital, em 7 meses, teria rendido juros de
- (A) R\$ 90,00.
(B) R\$ 108,00.
(C) R\$ 126,00.
(D) R\$ 144,00.
(E) R\$ 162,00.

15. Para a secretaria de uma escola, foram comprados alguns itens. A tabela mostra algumas informações sobre o número de itens comprados e seu respectivo valor unitário.

ITEM	Nº DE UNIDADES	VALOR UNITÁRIO
Caneta	30	R\$ 3,20
Lapiseira	12	R\$ 7,50
Caneta marca-texto	8	?

Considerando-se o número total de itens comprados, na média, cada item custou R\$ 4,60. O valor unitário da caneta marca-texto é

- (A) R\$ 5,10.
(B) R\$ 5,50.
(C) R\$ 5,70.
(D) R\$ 6,00.
(E) R\$ 6,20.
16. Márcia e Vânia atualizaram os prontuários de 310 alunos. Se o número de prontuários atualizados por Márcia foi igual a $\frac{2}{3}$ do número de prontuários atualizados por Vânia, o número de prontuários atualizados por Márcia foi
- (A) 186.
(B) 165.
(C) 142.
(D) 124.
(E) 108.

17. Dois tipos diferentes de apostilas, A e B, estão sendo impressas em uma gráfica pelas máquinas 1 e 2, respectivamente. Para ser impressa, cada apostila do tipo A demora 6 minutos e 15 segundos, e cada apostila do tipo B demora 4 minutos e 10 segundos. Após 50 minutos de trabalho, sem interrupções, o número de apostilas que as máquinas 1 e 2 terão impresso juntas será igual a

- (A) 8.
- (B) 12.
- (C) 15.
- (D) 18.
- (E) 20.

18. Uma sala retangular ABCD foi dividida em 2 escritórios E_1 e E_2 , ambos quadrados e de mesma área, um banheiro retangular (W) e uma sala de recepção, conforme mostra a figura.

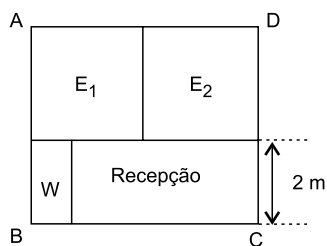


Figura fora de escala

Sabendo-se que a área do banheiro é de 2 m^2 e que o perímetro da recepção é de 14 m , a área da sala ABCD é igual a

- (A) 30 m^2 .
- (B) 28 m^2 .
- (C) 25 m^2 .
- (D) 20 m^2 .
- (E) 18 m^2 .

19. Em uma escola de idiomas, o número de alunos matriculados nos cursos de inglês e espanhol totalizam 540 estudantes. Se a razão do número de alunos matriculados no curso de espanhol para o número de alunos matriculados no curso de inglês é $\frac{2}{7}$, o número de alunos matriculados no curso de espanhol é

- (A) 120.
- (B) 130.
- (C) 140.
- (D) 150.
- (E) 160.

20. Quatro colegas de trabalho, *Caio*, *Lucas*, *Ana* e *Bia*, marcaram de se encontrar em um mesmo local para irem, juntos, à confraternização de final de ano da empresa onde trabalham. Sabe-se que:

- *Caio* chegou antes de *Bia*, mas não foi o primeiro a chegar.
- *Bia* chegou depois de *Ana*, mas antes de *Lucas*.

Nessas condições, o 1º, o 2º, o 3º e o 4º colega a chegar no ponto de encontro foram, nesta ordem:

- (A) *Lucas*, *Caio*, *Ana*, *Bia*.
- (B) *Lucas*, *Ana*, *Bia*, *Caio*.
- (C) *Ana*, *Bia*, *Caio*, *Lucas*.
- (D) *Ana*, *Caio*, *Lucas*, *Bia*.
- (E) *Ana*, *Caio*, *Bia*, *Lucas*.

R A S C U N H O

ATUALIDADES

21. “O presidente Jair Bolsonaro assinou nesta quarta-feira (01.04.2020) uma medida provisória que suspende a obrigatoriedade de escolas e universidades cumprirem a quantidade mínima de dias letivos neste ano.”

(g1. Disponível em <https://bityli.com/fzPLj>. Acesso em 08.09.2020. Adaptado)

De acordo com a medida provisória,

- (A) as instituições de ensino fundamental e médio deverão cumprir a carga horária em, pelo menos, 200 dias letivos.
- (B) as 600 horas dos ensinamentos fundamental e médio deverão ser distribuídas em quatro bimestres perfazendo um total de 240 dias letivos, no mínimo.
- (C) os dias letivos que forem retirados do calendário escolar deverão ser cobertos pelo ensino à distância.
- (D) todos os conselhos estaduais e municipais de educação deverão cumprir a regulamentação que será editada pelo Ministério da Educação a respeito.
- (E) na prática, as instituições de ensino vão ter de cumprir as horas de aula em uma quantidade menor de dias letivos.

22. “Há várias semanas, milhares de pessoas saem às ruas de cidades em Belarus para protestar. Em um momento histórico, mais de 100 mil manifestantes se reuniram no domingo (16.08.2020) somente na capital, Minsk [...] nos próximos dias, espera-se até mesmo que os protestos aumentem”.

(terra. Disponível em <https://bityli.com/8ohyn>. Acesso em 07.09.2020. Adaptado)

As manifestações nessa antiga república soviética

- (A) reuniram milhares de mulheres vestidas de branco reivindicando o direito de votar e serem eleitas para cargos executivos.
- (B) foram feitas por políticos contrários à presença de forças russas no território de Belarus em apoio à posse de Alexander Lukashenko como presidente.
- (C) foram dirigidas contra a fraude nas eleições presidenciais de 09 de agosto deste ano (2020) que confirmou a continuação do governo de Alexander Lukashenko.
- (D) demonstraram a insatisfação dos bielorrussos em relação à política de isolamento social do governo para combater a Covid-19.
- (E) repudiam a intenção do presidente russo Vladimir Putin de anexar o território de Belarus ao seu país.

23. Em agosto deste ano (2020), os jornais e as agências de notícias internacionais divulgaram dados do Instituto Nacional de Estatística da Argentina (Indec) provando que o Brasil já não era o principal parceiro comercial do país vizinho.

(bol.uol. Disponível em <https://bityli.com/oCHR2>. Acesso em 07.09.2020. Adaptado)

Os números revelam que o Brasil foi ultrapassado

- (A) pela China.
- (B) pelo Japão.
- (C) pela União Europeia.
- (D) pelo Canadá.
- (E) pelos Estados Unidos.

24. Com 79 votos favoráveis, no primeiro e no segundo turno de votações, o Senado Federal aprovou nesta terça-feira (25.08.2020) a proposta de emenda à Constituição sobre o Fundeb (Fundo de Manutenção e Desenvolvimento da Educação Básica e de Valorização dos Profissionais da Educação) e aumenta o seu alcance. Não houve votos contrários ao texto que entrará na Constituição como Emenda 108.

(Senado Federal. Disponível em <https://bityli.com/vPEs2>. Acesso em 08.09.2020. Adaptado)

Em relação ao novo Fundeb, é correto afirmar que o texto aprovado

- (A) reduz a participação da União no montante de recursos.
- (B) torna o Fundo permanente.
- (C) destina 70% dos recursos para a educação básica da rede pública.
- (D) obriga que, no mínimo, 60% dos recursos sejam destinados à remuneração dos docentes ativos.
- (E) determina que a complementação da União será ampliada de 10% para 50% do total do Fundo até 2028.

25. “Em ato publicado no Diário Oficial da União (DOU) desta sexta-feira (03.07.2020), o presidente Jair Bolsonaro sancionou com vetos a Lei nº 14.019/2020, aprovada pelo Congresso Nacional, para tornar obrigatório o uso de máscaras de proteção individual [...] durante a pandemia do novo coronavírus, que causa a Covid-19”.

(CNN Brasil. Disponível em <https://bitly.com/HMcXt>. Acesso em 07.09.2020. Adaptado)

De acordo com a Lei, é obrigatório o uso de máscaras

- (A) em estabelecimentos comerciais, templos religiosos, escolas e demais locais fechados em que haja reunião de pessoas.
- (B) por populações vulneráveis que deverão receber, obrigatoriamente, esse equipamento do poder público.
- (C) em órgãos públicos que serão obrigados a fornecer esse tipo de proteção aos contribuintes que tiverem motivos para estar no local.
- (D) em transportes públicos coletivos, como ônibus, aeronaves e veículos de aplicativo e em prisões.
- (E) por atletas e competidores de todas as modalidades, independentemente de a prática acontecer em locais fechados ou a céu aberto.

NOÇÕES DE INFORMÁTICA

26. Observe a imagem a seguir, feita no MS-Windows 7, em sua configuração padrão, e que mostra o conteúdo de uma pasta organizada por um usuário, para separar arquivos de acordo com o tipo de documento, como despachos, normas e regulamentos. O usuário tem todas as permissões necessárias para executar as ações realizadas.



Ao salvar um novo documento na pasta normas, o usuário percebeu que salvou na pasta errada e deveria salvar na pasta regulamentos. Para mover o arquivo, o usuário, então, entrou na pasta normas, selecionou o arquivo desejado, usou o atalho por teclado _____ para recortar o arquivo e, em seguida, acessou a pasta regulamento e colou o arquivo.

Assinale a alternativa que preenche corretamente a lacuna do enunciado.

- (A) Ctrl + C
- (B) Ctrl + V
- (C) Ctrl + F
- (D) Ctrl + X
- (E) Ctrl + Z

27. Um usuário formatando um relatório da escola, por meio do MS-Word 2010, em sua configuração padrão, notou que havia muita formatação já aplicada, conforme a imagem a seguir.

- Relatório Escolar
- Atividades executadas
- Pendências
- Prazos importantes
- Tarefas em andamento

Ao ver a quantidade de formatações diferentes aplicadas, o usuário decidiu apagar toda a formatação do texto. Para isso, selecionou todo o texto e, em seguida, clicou no ícone:

- (A)
- (B)
- (C)
- (D)
- (E)

28. Observe a planilha a seguir, elaborada por um usuário, por meio do MS-Excel 2010, em sua configuração padrão, para controlar a data limite em que deve executar algumas atividades.

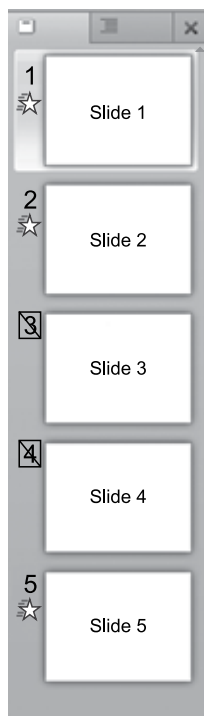
	A	B	C
1	28/04/2020		
2	Atividade	Data limite	
3			
4	Enviar relatório de gestão	03/05/2020	5
5	Submeter minuta à Diretoria	04/05/2020	6
6	Avaliar desempenho geral	01/05/2020	3
7			

No intervalo das células C4 até C6, foram inseridas fórmulas para indicar quantos dias faltam para o prazo limite indicado na coluna B. Na célula A1, foi inserida uma data de referência. Em seguida, o usuário preencheu uma fórmula na célula C4 e arrastou a alça de preenchimento da célula C4 até a célula C6 para replicar a fórmula.

Assinale a alternativa que apresenta a fórmula que deve estar contida na célula C4 que atende ao descrito no enunciado e está de acordo com os valores apresentados na imagem.

- (A) =B\$4-A\$1
- (B) =\$B4-\$A1
- (C) =B4-A\$1
- (D) =B\$4-A1
- (E) =B4-(A)1

29. Um usuário do MS-PowerPoint 2010, em sua configuração padrão, editando uma apresentação sobre a programação prevista para o semestre atual da escola, decidiu rever cada um dos slides para ocultar ou não sua exibição durante a apresentação. O resultado final é mostrado na imagem a seguir.



Pela imagem, pode-se verificar que o número de slides ocultos é:

- (A) 1
(B) 2
(C) 3
(D) 4
(E) 5
30. O secretário de uma escola deseja enviar para o diretor da instituição, via e-mail, por meio do MS-Outlook 2010, em sua configuração padrão, uma mensagem contendo alguns relatórios escritos no MS-Word 2010 e gravados em seu computador.
- Para incluir os arquivos na mensagem de e-mail em preparação, o secretário deve usar
- (A) o campo de destino Para.
(B) a funcionalidade de Cópia Oculta.
(C) o campo Cc.
(D) os rascunhos.
(E) o recurso de anexos.

CONHECIMENTOS ESPECÍFICOS

31. “Armazena documentos com pouca frequência de uso. Uma boa opção para esse tipo de arquivo, quando há grande quantidade de documentos, é a microfilmagem, cujo processo de reprodução fotográfica reduzida atinge 95% do tamanho original do documento.”
- De acordo com Rosineide Sousa (2007), o conceito citado refere-se a um arquivo
- (A) morto.
(B) inativo.
(C) ativo.
(D) vivo.
(E) temporário.
32. Rosineide Sousa (2007) destaca que ética significa modo de ser, a forma usada pela pessoa para organizar sua vida em sociedade; o processo feito pela pessoa de transformar em normas/regras práticas os valores surgidos no grupo e na cultura em que vive. A autora elenca uma relação de princípios éticos profissionais, dentre os quais inclui-se
- (A) executar trabalhos alheios a sua função sempre que seus superiores assim solicitarem.
(B) fornecer ajuda pecuniária a colegas de trabalho que estejam com dificuldades financeiras.
(C) descumprir prazos de entrega sempre que o volume de trabalho for excessivo.
(D) trabalhar, além de seu horário, para cumprir todas as tarefas que lhe forem confiadas.
(E) zelar pelo patrimônio da instituição onde atua.
33. Flávio, secretário de escola, foi incumbido de elaborar o histórico escolar para um aluno cuja família solicitou transferência durante o período letivo. Para garantir a precisão de dados do histórico escolar, é imprescindível consultar
- (A) número do cadastro no Bolsa-Família, quando houver; ficha de acompanhamento do aluno e declaração de renda e de trabalho dos responsáveis.
(B) certidão de nascimento ou carteira de identidade, ficha de acompanhamento do aluno e históricos escolares anteriores, quando houver.
(C) declaração de vaga na escola de origem, certidão de nascimento ou carteira de identidade e carteira de vacinação atualizada.
(D) certidão de nascimento ou carteira de identidade, endereço do local onde o aluno vai residir e históricos escolares anteriores, quando houver.
(E) preenchimento de formulário próprio pelos pais ou responsáveis, ficha de acompanhamento do aluno incluindo quantidade de faltas e comprovação do motivo de mudança.

34. Um tipo de correspondência interna, de que trata de qualquer assunto de trabalho, utilizado entre unidades administrativas da mesma instituição, com o mesmo nível hierárquico ou não, conforme Rosineide Sousa (2007), é denominado

- (A) ofício.
- (B) ordem de serviço.
- (C) aviso.
- (D) solicitação.
- (E) memorando.

35. Com base em Rosineide Sousa (2007), assinale a alternativa que indica a forma correta de grafarmos local e data num documento oficial.

- (A) 1º de agosto de 2020, Sorocaba.
- (B) Sorocaba, 01/08/2020.
- (C) Sorocaba, 01 de agosto de 2020.
- (D) Sorocaba, primeiro de agosto de 2020
- (E) Sorocaba, em 1º de agosto de 2020.

36. No texto Técnicas de redação e arquivos, Rosineide Sousa (2007) apresenta uma lista de trabalhos que são específicos da secretaria escolar, dentre eles inclui-se

- (A) levantamento de informação para o censo escolar.
- (B) verificar a regularidade da documentação referente à matrícula e transferência de alunos, dando solução aos casos especiais.
- (C) exercer vigilância em torno do comportamento dos estudantes, orientando-os dentro do período de permanência nos locais de ensino.
- (D) desenvolver atividades que estimulem as crianças a adquirir hábitos de higiene e saúde.
- (E) auxiliar no atendimento e na organização dos alunos, nas áreas de circulação interna ou externa da escola.

37. Observe o modelo do documento a seguir para responder à questão.

Escola Municipal Zilda Arns

Reunião de Pais e Mestres

Senhores pais ou responsáveis,

O departamento de ensino da Escola Municipal Zilda Arns tem a honra de convidá-lo para a reunião de pais e mestres a ser realizada no dia 10 de dezembro de 2020 às 15:00, no auditório do colégio.

Por ocasião da reunião, serão apresentados os resultados do ano letivo, inclusive com informações sobre o desempenho individual dos alunos, além de aproveitarmos o momento para promover uma maior interação entre a família e o ambiente escolar.

Contamos com sua fundamental presença.

Atenciosamente,

A direção.

O gênero textual, muito utilizado no ambiente escolar, denomina-se

- (A) requerimento.
- (B) expediente.
- (C) protocolo.
- (D) circular.
- (E) relatório.

38. A elaboração de um atestado de frequência para recebimento do benefício de Bolsa-Família é um documento que muitos familiares solicitam regularmente para o secretário de escola. Ao preencher tal documento, é necessário informar a frequência do aluno às aulas. Para obter a quantidade de presenças e/ou ausências de um determinado aluno, até a data de expedição do atestado, o secretário escolar deve consultar o

- (A) diário de classe.
- (B) histórico escolar.
- (C) registro de rendimentos finais.
- (D) Projeto Político-Pedagógico.
- (E) requerimento de matrícula.

39. Ao concluírem o quinto ano do ensino fundamental numa escola municipal, todos alunos foram transferidos automaticamente para escola estadual mais próxima que mantém atendimento ao alunado do ensino fundamental II (sexto ao nono ano). Com intuito de facilitar os procedimentos de transferência evitando que todos os familiares viessem buscar documento de transferência, a direção das duas unidades combinou de fazer entrega de toda documentação num único lote. Após confeccionar todos os históricos escolares, o secretário de escola providenciou uma listagem com o nome completo de todos alunos cujo histórico foi encaminhado. Tal listagem, emitida em duas vias, com a assinatura do seu emissor e do seu receptor recebe o nome de

- (A) atestado.
- (B) convênio.
- (C) remessa.
- (D) ordem de serviço.
- (E) requerimento.

40. Observe os itens elencados para responder à questão.

1. Data, local, horário. Com horário de início e fim da reunião;
2. Pessoas presentes e seus cargos.
3. Pauta para a reunião. ...
4. Discussões abordadas. ...
5. Compromissos

As informações citadas são todas necessárias no documento escolar denominado

- (A) circular.
- (B) requerimento.
- (C) carta.
- (D) ata.
- (E) bilhete.

41. Complete a lacuna da sentença a seguir, tornando-a verdadeira de acordo com o art. 22 da Lei Diretrizes e Bases da Educação.

A educação básica tem por finalidades desenvolver o educando, assegurar-lhe a formação comum indispensável para o exercício da cidadania e fornecer-lhe meios para progredir _____ e em estudos posteriores.

- (A) no trabalho
- (B) na sociedade
- (C) na solidariedade
- (D) na política
- (E) na responsabilidade

42. Sobre a exibição de filmes de produção nacional na educação básica, a Lei Diretrizes e Bases versa que

- (A) deverá fazer parte integral do conteúdo de História do Brasil, sendo exibida no início ou fim de cada item programático.
- (B) é de responsabilidade da família e deverá ser estimulada pela equipe escolar sempre que filmes históricos estiverem em exibição.
- (C) será oportunizada a todos alunos, preferencialmente às sextas-feiras, em sessões bimestrais, como conteúdo lúdico não avaliável.
- (D) serão evitados no ensino fundamental uma vez que não condizem com as necessidades de aprendizagem dessa faixa etária e privilegiadas no ensino médio.
- (E) constituirá componente curricular complementar integrado à proposta pedagógica da escola, sendo a sua exibição obrigatória por, no mínimo, 2(duas) horas mensais.

43. Maurina, estudante do 9º ano da Escola Municipal Dr. Achilles de Almeida, dirigiu-se à secretaria da escola e preencheu um requerimento solicitando dispensa das aulas de educação física e apresentou, como justificativa, a certidão de nascimento de sua filha recém-nascida. Conforme a Lei Diretrizes e Bases da Educação, tal requerimento deverá

- (A) ser indeferido por não ter amparo legal.
- (B) ser deferido, pois ter prole torna tais aulas optativas para a aluna.
- (C) ser complementando com um atestado que informe se a criança tem alguma necessidade de acompanhamento materno.
- (D) ser indeferido, pois, salvo em casos médicos, a prática de educação física é obrigatória.
- (E) ser encaminhado para avaliação do professor de educação física a quem cabe deferir ou indeferir todos os pedidos de dispensa das aulas.

44. Rege o art. 25. Da Lei Diretrizes e Bases da Educação: "Será objetivo permanente das autoridades responsáveis alcançar relação adequada entre o número de alunos e o professor, a carga horária e as condições materiais do estabelecimento". A legislação prevê que os parâmetros para atendimento ao disposto no referido artigo devem ser estabelecidos

- (A) pela direção da unidade escolar.
- (B) pelo Conselho de Escola.
- (C) pela Câmara Legislativa de cada município.
- (D) pelo respectivo sistema de ensino.
- (E) por normativa expedida pelo Ministério de Educação.

45. Segundo uma das regras da organização da Educação Básica, nos níveis Fundamental e Médio, expedir diplomas ou certificados de conclusão de cursos, com as especificações cabíveis, é uma ação de responsabilidade
- (A) de cada instituição de ensino.
 - (B) da Secretaria de Educação.
 - (C) da Delegacia de Ensino.
 - (D) do Conselho Nacional de Educação.
 - (E) do Ministério da Educação.
46. Conforme Lei das Diretrizes e Bases, estudos de recuperação, destinados para os casos de baixo rendimento escolar, devem ser
- (A) ofertados para todos alunos que desejem ampliar seus conhecimentos.
 - (B) ofertados obrigatoriamente no contraturno das aulas regulares de forma a não prejudicar o andamento das aulas.
 - (C) disciplinados obrigatoriamente pelas instituições de ensino em seus regimentos.
 - (D) ministrados após as avaliações de cada bimestre letivo.
 - (E) ministrados com prevalência dos aspectos quantitativos e dos resultados obtidos ao longo do período e sobre as provas finais.
47. A reclassificação é um mecanismo que consiste em rever e alterar a classificação do aluno. É correto afirmar que, de acordo com a Lei Diretrizes e Bases da Educação – LDB, art. 23 § 1º, a reclassificação é um mecanismo que
- (A) garante que o estudante será matriculado na série pretendida em qualquer escola pública ou privada do País.
 - (B) permite a escola reclassificar os alunos, inclusive quando se tratar de transferências entre estabelecimentos situados no País e no exterior, tendo como base as normas curriculares gerais.
 - (C) deve ser solicitado diretamente à direção escolar, por um dos pais ou responsável, a partir do segundo bimestre letivo.
 - (D) deve ser vedado aos estudantes considerados portadores de altas habilidades e/ou com deficiências.
 - (E) permite que um aluno retorne a uma série anterior sempre que não tiver obtido resultados curriculares satisfatórios no ano precedente.
48. Durante o atendimento a uma família que procurou a escola para matricular seu filho no primeiro ano do ensino fundamental, a genitora explicava para criança que durante sua permanência na escola não mais iria brincar, praticar esportes e divertir-se. Voltando-se ao secretário, pedindo que confirmasse sua fala, o funcionário, acertadamente, em acordo com o art. 16, inciso IV, do Estatuto da Criança e do Adolescente,
- (A) explicou que tais aspectos fazem parte do direito à liberdade de crianças e adolescentes.
 - (B) confirmou que escola não comporta tais atitudes.
 - (C) elucidou que somente nas aulas de educação física esportes são admitidos.
 - (D) apresentou o regimento escolar explicitando as punições para quem brincar em sala.
 - (E) esclareceu que cabe a professora explicar à criança que não é permitido brincar nessa instituição.
49. Arthur, aluno do oitavo ano do ensino fundamental, é acompanhado pelo Conselho Tutelar por ter cometido ato infracional, cumpre medida socioeducativa encontrando-se em regime de liberdade assistida. O secretário de escola equivocadamente utilizou um castigo físico como forma de correção ao aluno. O Conselho Tutelar foi acionado e o secretário denunciado. Dentre as medidas, de competência do conselheiro tutelar, sem prejuízo de outras providências legais, expostas no art. 18-B do Estatuto da Criança e do Adolescente, a serem aplicadas ao funcionário, encontra-se
- (A) a demissão sumária.
 - (B) a suspensão de 15 dias, sem direito a pagamento.
 - (C) a prisão de até 03 (três meses), com direito à fiança.
 - (D) a obrigação de pedido público de desculpas.
 - (E) o encaminhamento a cursos ou programas de orientação.
50. É de conhecimento de toda comunidade escolar que dona Angélica é mãe biológica do aluno André e ela compareceu à secretaria da escola solicitando transferência de seu filho para outra unidade escolar. Ao verificar a documentação do aluno, o secretário de escola identificou que a matrícula foi feita por sua tia por meio de um documento de guarda. De acordo com o art. 33 do Estatuto da Criança e do Adolescente, numa situação como a descrita,
- (A) o documento de transferência deve ser emitido para a genitora.
 - (B) a escola de destino do aluno deve ser informada da situação.
 - (C) a direção escolar deverá autorizar a expedição do documento solicitado.
 - (D) o pedido da mãe deve ser indeferido, e a detentora da guarda acionada.
 - (E) a presença do pai deverá ser solicitada para atendimento ao pedido.

