



PREFEITURA MUNICIPAL DA
ESTÂNCIA TURÍSTICA DE
EMBU DAS ARTES/SP
CONCURSO PÚBLICO Nº 01/2017

GUARDA CIVIL MUNICIPAL
(MASCULINO E FEMININO)

LÍNGUA PORTUGUESA

Lobo

Lobo (*Canis lupus*) é o maior membro selvagem da família *canidae*. É um sobrevivente da Era do Gelo, originário do Pleistoceno Superior, cerca de 300 mil anos atrás. O sequenciamento de DNA e estudos genéticos reafirmam que o lobo-cinzento é ancestral do cão doméstico (*Canis lupus familiaris*), contudo alguns aspectos desta afirmação têm sido questionados recentemente. Uma série de outras subespécies do lobo foram identificadas, embora o número real de subespécies ainda esteja em discussão. Os lobos-cinzentos são tipicamente predadores ápice nos ecossistemas que ocupam. Embora não sejam tão adaptáveis à presença humana como geralmente ocorre com as demais espécies de canídeos, os lobos se desenvolveram em diversos ambientes, como florestas temperadas, desertos, montanhas, tundras, taigas, campos e até mesmo em algumas áreas urbanas. O lobo-cinzento, o lobo-vermelho (*Canis rufus*) e o lobo-etíope (*Canis simensis*) são as únicas três espécies classificadas como lobos. Os demais lobos pertencem a subespécies. (Disponível em <https://pt.wikipedia.org/wiki/Lobo>. Acesso em 13 jun. 2017. Adaptado.)

1) Analise os itens abaixo e indique (V) para os itens verdadeiros e (F) para os itens falsos, assinalando a alternativa correta.

O cão doméstico e o lobo evoluíram de um ancestral comum há 300.000 anos.

Dentre os membros da família *canidae*, apenas o lobo é um animal selvagem.

Animais como o lobo-guará não são classificados cientificamente como lobos.

- a) F – F – V
- b) V – V – F
- c) V – F – F
- d) F – V – V

2) Analise os itens abaixo e indique (V) para os itens verdadeiros e (F) para os itens falsos, assinalando a alternativa correta.

Não há consenso a respeito do número de subespécies de lobo.

Embora não seja ameaçado, o lobo-cinzento precisa defender-se de predadores.

Os lobos surgiram durante a Era do Gelo, portanto são uma espécie mais antiga que o cão.

- a) F – F – V
- b) V – V – F
- c) V – F – F
- d) F – V – V

3) “Embora não sejam tão adaptáveis à presença humana como geralmente ocorre com as demais espécies de canídeos, os lobos se desenvolveram em diversos ambientes”. Assinale a alternativa em que esse enunciado não foi adequadamente reescrito.

a) Os lobos se desenvolveram em diversos ambientes, ainda que não sejam tão adaptáveis à presença humana como geralmente ocorre com as demais espécies de canídeos.

b) Os lobos se desenvolveram em diversos ambientes, apesar de não serem tão adaptáveis à presença humana como geralmente ocorre com as demais espécies de canídeos.

c) Mesmo não sendo tão adaptáveis à presença humana como geralmente ocorre com as demais espécies de canídeos, os lobos se desenvolveram em diversos ambientes.

d) Os lobos se desenvolveram em diversos ambientes, visto que não são tão adaptáveis à presença humana como geralmente ocorre com as demais espécies de canídeos.

4) “O sequenciamento de DNA e estudos genéticos reafirmam que o lobo-cinzento é ancestral do cão doméstico (*Canis lupus familiaris*), contudo alguns aspectos desta afirmação têm sido questionados recentemente”. Nesse trecho, o termo “contudo” expressa

- a) possibilidade.
- b) oposição.
- c) consequência.
- d) condição.

5) Assinale a alternativa em que há erro(s) de ortografia.

- a) asseio, gorjeta, pichação
- b) benéfico, preterição, vestígio
- c) privilégio, ancioso, após
- d) coreano, monge, paralisa

6) “O lobo-cinzento é ancestral do cão doméstico”. Assinale a alternativa que contém uma palavra que não substitui, sem alteração do sentido, o termo “ancestral”.

- a) antecessor
- b) ascendente
- c) antepassado
- d) descendente

7) “Os demais lobos pertencem a subespécies”. Nesse trecho, substituindo-se o termo “a subespécies” pelo pronome oblíquo adequado, obtém-se

- a) “os demais lobos lhes pertencem”.
- b) “os demais lobos a pertencem”.
- c) “os demais lobos lhe pertencem”.
- d) “os demais lobos as pertencem”.

8) Assinale a alternativa em que há erro(s) de acentuação gráfica.

- a) período, heroína, ímã
- b) Perú, juiz, gratuito
- c) origens, armazém, campanha
- d) item, baú, melância

9) Assinale a alternativa em que a pontuação está de acordo com a norma culta.

a) Um lobo, muitas vezes, esfrega-se contra objetos, como pedras e galhos, para induzir a pele a soltar os pelos.

b) Um lobo, muitas vezes esfrega-se contra objetos, como pedras e galhos, para induzir a pele, a soltar os pelos.

c) Um lobo muitas vezes esfrega-se, contra objetos como pedras e galhos para induzir a pele, a soltar os pelos.

d) Um lobo muitas vezes, esfrega-se, contra objetos como pedras e galhos para induzir a pele a soltar os pelos.

10) Os lobos ____ longas garras que usam ____ de atacar suas presas. Assinale a alternativa que completa esse enunciado de acordo com a norma culta.

- a) têm – afim
- b) têm – a fim
- c) tem – afim
- d) tem – a fim

11) Assinale a alternativa em que o plural de “lobo-marinho”, “estrela-do-mar” e “banana-maçã” está de acordo com a norma culta.

- a) lobos-marinho, estrelas-do-mar e banana-maçãs
- b) lobos-marinho, estrelas-dos-mares e bananas-maçã
- c) lobos-marinhos, estrelas-do-mar e bananas-maçã
- d) lobos-marinhos, estrelas-dos-mares e banana-maçãs

12) A origem dos cães é _____ controversa, pois há divergências _____ de como eles se desenvolveram. Assinale a alternativa que completa esse enunciado de acordo com a norma culta.

- a) meia – acerca
- b) meia – a cerca
- c) meio – a cerca
- d) meio – acerca

13) Em “alguns aspectos desta afirmação têm sido questionados”, há uma forma verbal na voz:

- a) ativa.
- b) passiva sintética.
- c) reflexiva.
- d) passiva analítica.

14) Em “adaptáveis à presença humana”, o termo “à presença humana” exerce função sintática de:

- a) objeto direto.
- b) objeto indireto.
- c) complemento nominal.
- d) agente da passiva.

15) _____ medida que se aproximavam das aldeias, os lobos adaptavam-se _____ convivência com os humanos. Assinale a alternativa que completa esse enunciado de acordo com a norma culta.

- a) À - a
- b) À - à
- c) A - à
- d) A - a

16) Assinale a alternativa que contém o adjetivo correspondente ao substantivo "lobo".

- a) lupino
- b) vulpino
- c) leporino
- d) cunicular

17) A visão noturna dos lobos _____ que eles identifiquem a presa _____ vários metros de distância. Assinale a alternativa que completa esse enunciado de acordo com a norma culta.

- a) permite - há
- b) permite - a
- c) permitem - há
- d) permitem - a

18) Os lobos atacaram _____, _____ as presas fugiram a tempo. Assinale a alternativa que completa esse enunciado de acordo com a norma culta.

- a) de repente - mas
- b) de repente - mais
- c) derrepente - mas
- d) derrepente - mais

19) _____ muitos anos que _____ lobos-cinzentos nesta floresta. Assinale a alternativa que completa esse enunciado de acordo com a norma culta.

- a) Fazem - foram vistos
- b) Fazem - foi visto
- c) Faz - foram vistos
- d) Faz - foi visto

20) Observe o trecho: "os lobos se desenvolveram em diversos ambientes, como florestas temperadas, desertos, montanhas, tundras, taigas, campos e até mesmo em algumas áreas urbanas". Assinale a alternativa em que a palavra "até" foi empregada com o mesmo sentido desse trecho.

- a) Caminhamos até a praça.
- b) O veículo transporta até vinte pessoas.
- c) Venha até aqui.
- d) A alteração das leis prejudica até pessoas inválidas.

MATEMÁTICA

21) O resultado de $\frac{3+\sqrt{3}}{3-\sqrt{3}}$ é dado pelo número:

- a) -1
- b) 2
- c) $2 + \sqrt{3}$
- d) $2 + 6\sqrt{3}$

22) Duas torneiras enchem um reservatório em 6 horas. O número de torneiras necessárias para encher o mesmo reservatório, dentro das mesmas condições, em 4 horas, será de:

- a) 1 - 3. (2)
- b) 2
- c) 3
- d) 4

23) Um automóvel realiza um percurso em 4 horas a uma velocidade constante de 80km/h. Se a velocidade continuasse constante, porém de 120km/h, iria realizar o dobro desse percurso, nas mesmas condições, em:

- a) 5 horas
- b) 5h 20min
- c) 5h 33 min
- d) 5h 40min

24) O valor de $\sqrt{64\%}$ e de $(5\%)^2$, valem respectivamente:

- a) $\frac{4}{5}$ e $\frac{1}{400}$
- b) $\frac{4}{5}$ e $\frac{1}{40}$
- c) 0,8 e $\frac{1}{40}$
- d) 8% e $\frac{1}{400}$

25) Um produto tem o preço de compra em R\$ 10.000,00 e deverá ser pago em duas parcelas, sendo 30% à vista e a outra a ser paga em 30 dias. Se a loja cobra juros de 20% sobre a segunda parcela, então o valor da segunda parcela será de:

- a) R\$ 7.000,00
- b) R\$ 7.400,00
- c) R\$ 7.800,00
- d) R\$ 8.400,00

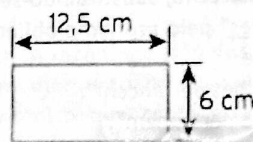
26) Sabendo-se que $x + y = 39$, determine os valores de x e y , respectivamente, na proporção $\frac{x}{6} = \frac{y}{7}$

- a) 20 e 19
- b) 21 e 18
- c) 18 e 21
- d) 19 e 20

27) Se uma chapa de aço de 200 cm^2 de área, pesa 500g. Uma chapa de aço de 12 cm de lado do mesmo material irá pesar:

- a) 200g
- b) 220g
- c) 240g
- d) 260g

28) A área, em m^2 , da figura abaixo vale:

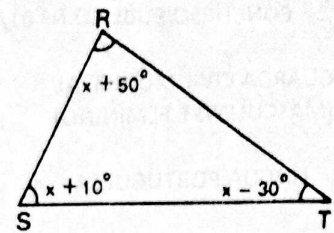


- a) $7,5 \cdot 10^3$
- b) $7,5 \cdot 10^2$
- c) $7,5 \cdot 10^1$
- d) $7,5 \cdot 10$

29) O MMC entre os valores de A, B e C, onde $A = 4^2 + 5^2$, $B = 2^3 + 3$ e $C = 3^3 + 3$, é de:

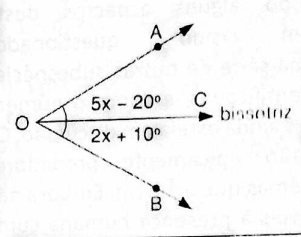
- a) 22.500
- b) 13.530
- c) 6.525
- d) 3.565

30) Lembrando que a soma dos ângulos internos de um triângulo é de 180° , o valor de x no triângulo abaixo é de:



- a) 40°
- b) 50°
- c) 60°
- d) 70°

31) O valor do ângulo AOB na figura abaixo é de:



- a) 30°
- b) 45°
- c) 60°
- d) 75°

32) A sequência abaixo recebe o nome de progressão aritmética:

(4, 7, 10, 13, 17, ..., 136)

Determine o número de termos dessa progressão.

- a) 42
- b) 43
- c) 44
- d) 45

33) A soma dos 8 primeiros termos da progressão geométrica abaixo, é dado por:

(3, 9, 27, ...)

- a) 2.187
- b) 4.875
- c) 6.561
- d) 9.840

34) O dobro da soma de um número com quinze é igual a metade desse mesmo número subtraído de cinco. Esse número é dado por:

- a) -10
- b) $-\frac{70}{3}$
- c) 10
- d) $\frac{70}{3}$

35) A expressão numérica abaixo vale:

$$\frac{1}{2} \cdot \{2^3 - [- (-2)^2 + 1^3] - 5^2\}$$

- a) 7
- b) 2
- c) -2
- d) -7

CONHECIMENTOS GERAIS E ATUALIDADES

36) "As origens da Primeira Guerra Mundial. Ela começou como uma guerra essencialmente europeia".

(HOBBSAWM, Eric. *A Era dos Extremos: o breve século XX. 1914-1991*. SP: Companhia das Letras. 1995. p.32).

Relacione os países que se alinharam na chamada Política das Alianças no início da Primeira Guerra Mundial.

Correlacione a coluna A com a coluna B e assinale a alternativa correta.

COLUNA A	COLUNA B
1. Triplice Aliança	a) França
	b) Alemanha
	c) Império Russo
2. Triplice Entente	d) Áustria-Hungria
	e) Itália
	f) Inglaterra

- a) 1- a, c, f
 b) 1- b, d, e
 c) 1- b, c, d
 d) 1- c, d, e
- 2- b, d, e
 2- a, c, f
 2- a, e, f
 2- a, b, f

37) "Os 45 que vão do lançamento das bombas atômicas até o fim da União Soviética não formam um período homogêneo na história do mundo. [...] a história desse período foi reunida sob um padrão único pela situação internacional peculiar que o dominou até a queda da URSS: o constante confronto das duas superpotências (EUA e URSS) na chamada 'Guerra Fria'."

(HOBBSAWM, Eric. *A Era dos Extremos: o breve século XX. 1914-1991*. SP: Companhia das Letras. 1995. p.223).

Análise os itens abaixo e indique (V) para os itens verdadeiros e (F) para os itens falsos, assinalando a alternativa correta.

() A crise dos mísseis cubanos de 1962, desencadeada pela URSS deixou o mundo à beira de uma guerra desnecessária.

() Com a morte de Stálin (1953), iniciou-se com Krushev uma política denominada de coexistência pacífica.

() A derrota na Guerra do Vietnã (1965-1975) e a Guerra do Yom Kipur (1973) enfraqueceram os EUA.

- a) V - V - V
 b) V - V - F
 c) F - F - V
 d) F - V - V

38) "... a economia global não abarca todos os processos econômicos do planeta, não abrange todos os territórios e não inclui todas as atividades das pessoas, embora afete direta ou indiretamente a vida de toda a humanidade."

(CASTELLS, Manuel. *A sociedade em redes. A era da informação: economia, sociedade e cultura*. v.1. SP: Paz e Terra. p.120).

Com base no texto acima, é possível concluir que, Castells se refere à:

- a) Colonização
 b) Informatização
 c) Globalização
 d) Inclusão social

39) "Subindo ao poder em outubro de 1930, Getúlio Vargas nele permaneceu por 15 anos, sucessivamente, como chefe de um governo provisório, presidente eleito por voto indireto e ditador. Deposto em 1945, voltaria à presidência pelo voto popular em 1950, não chegando a completar o mandato, por se suicidar em 1954."

(FAUSTO, Bóris. *História do Brasil*. SP: Edusp. 1996. p. 331).

Numere as colunas abaixo relacionadas:

- Revolução de 30
- Governo Provisório
- Governo Constitucional
- Estado Novo
- Segundo mandato (1951-1954)

- () Revolução Constitucionalista
 () Intentona Comunista
 () Fim da República Velha
 () Campanha: "O petróleo é nosso".

() Ampliação da legislação trabalhista com a Consolidação das Leis do Trabalho (CLT).

Assinale a alternativa correta da ordem das respostas:

- a) 2 - 3 - 1 - 5 - 4
 b) 3 - 1 - 5 - 4 - 2
 c) 4 - 2 - 1 - 3 - 5
 d) 5 - 1 - 3 - 2 - 4

40) "No fim de janeiro de 1946, Dutra tomou posse e começaram os trabalhos da Constituinte. [...] a 18 de setembro era promulgada a nova Constituição brasileira." (FAUSTO, Bóris. *História do Brasil*. SP: Edusp. 1996. p. 399).

Análise os itens abaixo e indique (V) para os itens verdadeiros e (F) para os itens falsos, assinalando a alternativa correta.

() O Brasil foi definido como uma República Federativa, estabelecendo-se as atribuições da União, Estado e Municípios.

() Determinava a obrigatoriedade do voto apenas para as mulheres que exercessem função pública remunerada.

() Prevvia-se a participação dos trabalhadores no lucro das empresas, nos termos e pela forma que a lei determinar.

- a) V - V - V
 b) F - V - F
 c) F - F - V
 d) V - F - V

41) "Os pressupostos do Programa de Metas mostram que, no governo Juscelino Kubitschek (JK), ocorreu uma definição nacional-desenvolvimentista de política econômica". (FAUSTO, Bóris. *História do Brasil*. SP: Edusp. 1996. p. 426).

Dentre as realizações de JK em seu Programa de Metas, podemos mencionar:

- a) Criação do GEIA (Grupo Executivo da Indústria Automobilística).
 b) Subsídios para a importação de trigo e petróleo.
 c) Regulação de remessa de lucros para o exterior.
 d) Pacote de estabilização econômica envolvendo a desvalorização cambial e contenção dos gastos públicos.

42) Numere as colunas abaixo relacionadas e assinale a alternativa correta da ordem das respostas:

- 1 - Getúlio Vargas
 2 - Eurico Gaspar Dutra
 3 - Juscelino Kubitschek

() Facilitou os investimentos estrangeiros em áreas prioritárias como, eletricidade e aço.
 () Governou o Brasil durante a Segunda Guerra Mundial.

() Baixou o Decreto-lei Nº 9070, regulamentando o direito de greve.

- a) 2 - 3 - 1
 b) 3 - 1 - 2
 c) 1 - 2 - 3
 d) 1 - 3 - 2

43) Assinale a alternativa que preenche corretamente as lacunas:

"Golpe militar derruba _____ e instaura _____ no Brasil; criação do AI-1 (9 de abril) onde se suspende as imunidades parlamentares, autoriza a cassação de mandatos e a suspensão de direitos políticos e autoriza a _____ do novo presidente".

(CATELLIN, Roberto. *Ensino Médio*, vol. único. São Paulo: Scipione, 2006. p 624).

- a) Jânio Quadros - um governo parlamentar - eleição direta.
 b) João Goulart - uma ditadura militar - eleição indireta.
 c) Getúlio Vargas - uma redemocratização - eleição direta.
 d) Castelo Branco - uma política de alianças - eleição indireta.

44) "No Brasil por uma selvagem política de custos e de modernização tecnológica posta em prática especialmente no setor industrial. O desemprego atinge não somente trabalhadores comuns e qualificados, mas também profissionais de nível superior e funcionários intermediários".

(SCHUWARCZ, Lília Moritz. *História da vida privada - contrastes da intimidade contemporânea*. Volume 4. SP: Companhia das Letras. p 648/649).

Este é um fenômeno conhecido como:

- a) Crise da modernidade
 b) Sociedade pós-moderna
 c) Desemprego estrutural
 d) Desemprego em massa.

45) "A combinação de preços altos, conflitos e condições climáticas extremas aumentaram o número de pessoas afetadas pela fome no mundo para 108 milhões em 2016, segundo um relatório elaborado pela ONU e pela União Europeia (UE) e publicado nesta sexta-feira. Esse total representa um aumento de 35% das pessoas que enfrentam uma "insegurança alimentar grave", cujo número era estimado em 80 milhões em 2015".

(Jornal O Globo de 31/03/2017 in <https://oglobo.globo.com/mundo/onu-numero-de-pessoas-que-passam-fome-no-mundo-sobe-35-21143294#ixzz4jtV5Mgin>. Acessado em 13/06/2017)

Análise os itens abaixo e indique (V) para os itens verdadeiros e (F) para os itens falsos, assinalando a alternativa correta.

(V) A fome é uma expressão clara da existência das desigualdades sociais no mundo contemporâneo.

(F) Os recursos no mundo são suficientes para suprirem a fome no mundo.

(F) Não há uma relação entre a fome e a desigualdade social.

a) F-F-V

b) F-V-V

c) V-F-V

d) V-V-F

46) "Em visita à países colaboradores com o Fundo da Amazônia, o presidente Michel Temer esteve na manhã da última sexta-feira (23) com a primeira-ministra Erna Solberg de quem recebeu o seguinte comunicado:

'O Brasil vai perder pelo menos R\$ 166,5 milhões de ajuda neste ano por causa do recente salto no desmatamento na Amazônia. O cálculo para a doação [...] é baseado em resultados - quanto mais redução no desmatamento, maior o valor da doação. Para chegar ao valor, o Ministério do Clima e Meio Ambiente utiliza um nível de referência de desmatamento em km²."

(MAISONNAVE, Fabiano. Folha de São Paulo, <http://www1.folha.uol.com.br/ambiente/2017/06/1895233-brasil-perdeira-mais-de-r-160-milhoes-de-ajuda-norueguesa-a-amazonia.shtml>. Acessado em 29/06/2017).

Este montante refere-se a quantidade doada para o Fundo da Amazônia pela:

a) Dinamarca

b) Escandinávia

c) Suécia

d) Noruega

47) "A Guarda Civil Municipal de Embu das Artes iniciou em 11 de janeiro de 2017, uma ação que acontecerá diariamente em diversos locais, de forma ostensiva e de surpresa para impedir a atuação dos criminosos nas ruas".

(<http://www.jornalnanet.com.br/noticias/14968> de 13/01/2017. Acessado em 12/06/2017)

Esta ação foi denominada:

a) Projeto metropolitano

b) Operação Crepúsculo

c) Ronda da Madrugada

d) Operação de Patrulhamento Preventivo

48) "Em termos de caracterização, o espaço físico do Brasil é conhecido por ter uma formação geologicamente antiga. Na década de 40, o pesquisador Aroldo de Azevedo (USP) apresentou a noção inicial das composições geomorfológicas do território nacional. Na década de 50, Aziz Ab'Saber (USP) adotou novos procedimentos e inseriu um critério de altitude na classificação do relevo brasileiro. Em 1989, o geógrafo Jurandy Ross, partindo dos estudos de Aziz Ab'Saber, introduziu um novo tipo de unidade de relevo, conforme mapa abaixo:

Brasil: formas de relevo



Planaltos em:

- Bacias sedimentares
 - 1 - Planalto da Amazônia Oriental
 - 2 - Planaltos e Chapadas da Bacia do Parnaíba
 - 3 - Planaltos e Chapadas da Bacia do Paraná
- Intrusões e coberturas residuais de plataforma
 - 4 - Planalto e Chapada dos Parecis
 - 5 - Planaltos Residuais Norte-Amazonicos
 - 6 - Planaltos Residuais Sul-Amazonicos
- Cinturões orogênicos
 - 7 - Planaltos e Serras do Atlântico Leste-Sudeste
 - 8 - Planaltos e Serras de Goiás Minas
 - 9 - Serras Residuais do Alto Paraguai
- Núcleos cristalinos arqueados
 - 10 - Planalto da Borborema
 - 11 - Planalto Sul-nordestino
- Depressões
 - 12 - Depressão da Amazônia Ocidental
 - 13 - Depressão Marginal Norte-Amazonica
 - 14 - Depressão Marginal Sul-Amazonica
 - 15 - Depressão do Araguaia
 - 16 - Depressão Cuabana
 - 17 - Depressão do Alto Paraguai-Guaporé
 - 18 - Depressão do Miranda
 - 19 - Depressão Sertaneja e do São Francisco
 - 20 - Depressão do Tocantins
 - 21 - Depressão Periférica da Bacia Leste da Bacia do Paraná
 - 22 - Depressão Periférica Sul-nordestino
- Planícies
 - 23 - Planície do Rio Amazonas
 - 24 - Planície do Rio Araguaia
 - 25 - Planície e Pantanal do Rio Guaporé
 - 26 - Planície e Pantanal Mato-Grossense
 - 27 - Planície da Lagoa dos Patos e Mirim
 - 28 - Planícies e Tabuleiros Litorâneos

Brasil: formas de relevo. Fonte: ROSS, Jurandy L. Sanches. Os fundamentos da geografia da natureza. In: _____ (Org.). *Geografia do Brasil*. São Paulo: Edusp, p. 53.

Assinale a alternativa correta que corresponde a este novo tipo de unidade de relevo:

- a) Depressão
- b) Planícies
- c) Planaltos
- d) Bacias sedimentares

49) "A reconfiguração dos cargos acontece em um momento preocupante para o governo britânico que tenta estabelecer maioria na Câmara dos Comuns após derrota nas eleições Legislativas na última quinta-feira".

(<https://extra.globo.com/noticias/mundo>. Acessado em 12/06/2017)
"Os franceses elegerão 577 deputados, incluindo 11 que representam moradores do exterior. Estão concorrendo 7.882 candidatos. (<https://oglobo.globo.com> - Mundo 11/06/2017. Acessado em 12/06/2017)

Em relação às eleições Legislativas envolvendo o Reino Unido e a França, correlacione a coluna A com a coluna B e assinale a alternativa correta.

COLUNA A
1. FRANÇA
2. REINO UNIDO (Inglaterra)

COLUNA B
a) Vitória do Partido Centrista
b) Saída do BREXIT
c) Derrota do Partido Conservador
d) Limites à imigração
e) Eleição com nível recorde de abstenção.
f) 266 mulheres são candidatas ao Legislativo

a) 1 - a, e, f

b) 1 - b, d, e

c) 1 - a, c, e

d) 1 - d, e, f

2 - b, c, d

2 - a, c, f

2 - b, d, f

2 - a, b, c

50) "Em meio às discussões no Congresso sobre a redução das unidades de conservação no País, liberando mais áreas para a exploração, um estudo mostra que o setor produtivo 'ganhou' pelo menos 41 milhões de hectares de terras há 5 anos, quando foi modificada a principal lei que rege a proteção da natureza em áreas privadas".

(Jornal Estado de São Paulo. 25/05/2017.p A22, Caderno Metrópole).

Esta modificação está prevista na (o):

- a) Lei de Proteção da Vegetação.
- b) Área de Preservação Nativa.
- c) Código Florestal.
- d) Reserva Legal.