



PREFEITURA MUNICIPAL DE SÃO GONÇALO DO AMARANTE – RN  
SECRETARIA MUNICIPAL DE ADMINISTRAÇÃO E  
RECURSOS HUMANOS – SEMARH

CONCURSO PÚBLICO – EDITAL Nº 01/2019

**FISIOTERAPEUTA**

NOME DO CANDIDATO

ASSINATURA DO CANDIDATO

RG DO CANDIDATO

**LEIA COM ATENÇÃO AS INSTRUÇÕES ABAIXO**

**INSTRUÇÕES GERAIS**

- I. Nesta prova, você encontrará **09 (nove) páginas** numeradas sequencialmente, contendo **40 (quarenta) questões objetivas** correspondentes às seguintes disciplinas: **Língua Portuguesa 10 (dez) questões, Raciocínio Lógico 10 (dez) questões e Conhecimentos Específicos 20 (vinte) questões.**
- II. Verifique se seu nome e número de inscrição estão corretos na Folha de Respostas. Se houver erro, notifique o fiscal.
- III. Verifique se o Caderno de Questões se refere ao cargo para o qual você se inscreveu. Caso o cargo esteja divergente, solicite ao fiscal de sala para que tome as providências cabíveis, pois não serão aceitas reclamações posteriores nesse sentido.
- IV. Verifique se a impressão, a paginação e a numeração das questões estão corretas. Caso observe qualquer erro, notifique o fiscal.
- V. Assine e preencha a Folha de Respostas nos locais indicados, com caneta azul ou preta.
- VI. Marque a Folha de Respostas cobrindo fortemente o espaço correspondente à letra a ser assinalada, conforme o exemplo na própria Folha de Respostas.
- VII. O sistema de leitura e processamento das Folhas de Respostas não registrará a resposta em que houver falta de nitidez na marcação e/ou marcação de mais de uma alternativa.
- VIII. A Folha de Respostas não pode ser dobrada, amassada, rasurada ou manchada. Exceto sua assinatura, nada deve ser escrito ou registrado fora dos locais destinados às respostas.
- IX. Ao terminar a prova, entregue ao fiscal a Folha de Respostas e este Caderno. As observações ou marcações registradas neste Caderno não serão levadas em consideração.
- X. **Você dispõe de 03 (três) horas para fazer esta prova. Reserve os 20 (vinte) minutos finais para marcar a Folha de Respostas.**
- XI. O candidato só poderá retirar-se do setor de prova **02 (duas) horas após seu início.**
- XII. É terminantemente proibido o uso de telefone celular e demais aparelhos eletrônicos.

**Boa Prova!**



**GABARITO DO CANDIDATO – RASCUNHO**



NOME:

ASSINATURA DO CANDIDATO:

INSCRIÇÃO:

1	2	3	4	5	6	7	8	9	10	11	12	13	14	15	16	17	18	19	20
21	22	23	24	25	26	27	28	29	30	31	32	33	34	35	36	37	38	39	40

# RASCUNHO

## LÍNGUA PORTUGUESA

Leia o texto abaixo para responder às questões de 1 a 7.

### Guerra de narrativas (adaptado)

Quando o sol parte e ficamos entretidos ao redor da fogueira ou de frente à telinha, passamos a uma dimensão em que é tênue a fronteira entre o real e o imaginário, o território dos mitos, as sutis engrenagens do nosso modelo social. Esse ritual repete-se há pelo menos 50 mil anos. E, como é da natureza do que é fundamental, histórias são simples. Todas têm começo, meio e fim; personagens e protagonistas; um cenário e um tempo. E mais: toda trama possui um narrador, alguém que escolhe que causo contar, onde o enredo começa e onde termina, o que entra e o que sai. Esse narrador nem sempre é visível, não há como apontar o autor de um mito ou do que entendemos como senso comum.

Repetimos a balela do descobrimento da América sem pensar que aqui já viviam pessoas antes da invasão europeia. Se o uso da linguagem amplifica a capacidade de colaboração, histórias determinam e influenciam o comportamento social. Se repetimos a narrativa de opressão, perpetuamos sua essência.

A habilidade narrativa determina quem tem voz. A tensão entre grupos em disputa pela narrativa é tão velha quanto a linguagem. Religiões e impérios sempre espalharam suas falas e disputaram a atenção. Identificar essas narrativas e a quem servem é o caminho para delimitar quem nos fala e inferir o que nos isola ou ajuda a colaborar.

Não existe narrador isento. Por mais cuidadoso que seja, cada um carrega seu conjunto de valores e é perpassado pelos julgamentos e assunções que vêm com a cultura do grupo. Mesmo que não tenha mensagem específica, o contador de histórias sempre parte de sua visão de mundo.

<https://vidasimples.co/conviver/querra-de-narrativas/>

#### 1) Assinale a alternativa correta, de acordo com o texto.

- No primeiro período do texto, o autor cria, por meio do paralelismo, uma associação entre a época em que sentávamos ao redor das fogueiras para tratar daquilo que é real e a época em que sentamos em frente à televisão para viver o imaginário.
- A simplicidade das narrativas contrapõe-se àquilo que há de fundamental nas histórias, uma vez que nem sempre o narrador é fácil de ser identificado no texto.
- A influência da linguagem e das narrativas é preponderante para a libertação ou perpetuação da opressão.
- A neutralidade da narrativa só é possível quando o cuidado com os valores adotados pelo grupo do qual faz parte revelam sua própria visão de mundo.

#### 2) De acordo com o sentido do texto, leia as afirmativas abaixo.

- O narrador do senso comum é a voz que personifica o narrador invisível, cujo interesse narrativo é desmotivado de intenções políticas e econômicas, já que assim como o narrador mítico ele não se mostra visível.
- A ideia de que a América foi descoberta pelos europeus faz parte de uma narrativa eurocêntrica que desconsidera os nativos do continente americano como sujeitos que já haviam descoberto esse espaço geográfico.
- A disputa pela narrativa pode ser considerada uma guerra ideológica, que movimenta interesses políticos há milhares de anos.

#### Assinale a alternativa correta.

- Apenas a afirmativa I está correta.
- Apenas a afirmativa II está correta.
- Apenas as afirmativas II e III estão corretas.
- Apenas a afirmativa III está correta.

#### 3) Assinale a alternativa que apresenta, correta e respectivamente, os sinônimos das expressões destacadas nos trechos “Se repetimos a narrativa de opressão, perpetuamos sua essência.” e “para delimitar quem nos fala e inferir o que nos isola ou ajuda a colaborar”.

- imortalizamos / machucar.
- criamos / aprendemos.
- eternizamos / deduzir.
- calculamos / depreender.

#### 4) De acordo com a morfologia, assinale a alternativa que indica, correta e respectivamente, a classe de palavras dos termos destacados no trecho a seguir “A habilidade narrativa determina quem tem voz”.

- substantivo / pronome pessoal / substantivo.
- adjetivo / pronome relativo / substantivo.
- substantivo / pronome interrogativo / adjetivo.
- adjetivo / pronome pessoal / adjetivo.

#### 5) Em relação à sintaxe da Língua Portuguesa avalie as afirmativas abaixo atribuindo-lhes valores de Verdadeiro (V) ou Falso (F).

- No trecho “Quando o sol parte e ficamos entretidos ao redor da fogueira”, a oração destacada é classificada como Subordinada Adverbial Temporal.
- No trecho “Se o uso da linguagem amplifica a capacidade de colaboração, histórias determinam e influenciam o comportamento social.”, a oração destacada é classificada como Subordinada Adverbial Concessiva.
- No trecho “A habilidade narrativa determina quem tem voz.”, a oração destacada é classificada como Subordinada Adjetiva Restritiva.
- No trecho “Não existe narrador isento”, o verbo é impessoal, por isso nessa oração não há sujeito.
- No trecho “Mesmo que não tenha mensagem específica, o contador de histórias sempre parte de sua visão de mundo.”, a oração destacada é classificada como Subordinada Adverbial Condicional.

#### Assinale a alternativa correta.

- V, F, F, F, F.
- F, V, V, V, F.
- V, V, F, F, V.
- V, F, V, V, F.

6) Em relação às regras de acentuação gráfica da Língua Portuguesa, assinale a alternativa incorreta.

- a) O verbo “ter” é acentuado, no trecho “Todas têm começo”, para concordar com o sujeito que está na terceira pessoa do plural.
- b) No trecho “alguém que escolhe que causo contar”, a palavra acentuada em destaque recebe acento, pois é uma palavra oxítona terminada em “em”.
- c) A palavra “já” é acentuada no trecho “aqui já viviam”, pois é um monossílabo tônico terminado em “a”.
- d) No trecho “Religiões e impérios sempre espalharam”, a palavra “impérios” é acentuada pois é uma paroxítona terminada em “os”.

7) De acordo com as regras de Concordância Verbal e Nominal, assinale a alternativa que reescreve corretamente o trecho extraído do texto.

“Não existe narrador isento. Por mais cuidadoso que seja, cada um carrega seu conjunto de valores e é perpassado pelos julgamentos e assunções que vêm com a cultura do grupo.”

- a) Não há narradores isentos. Por mais cuidadosos que seja, cada um carrega seu conjunto de valores e são perpassados pelos julgamentos e assunções que vêm com as culturas do grupo.
- b) Não existe narradores isentos. Por mais cuidadosos que seja, cada um carrega seu conjunto de valores e são perpassados pelos julgamentos e assunções que vêm com as culturas do grupo.
- c) Não existem narradores isentos. Por mais cuidadosos que sejam, cada um carrega seu conjunto de valores e são perpassados pelo julgamento que vem com as culturas do grupo.
- d) Não existe narrador isento. Por mais cuidadoso que seja, cada um carrega seu conjunto de valores e é perpassado pelo julgamento que vêm com a cultura do grupo.

8) Assinale a alternativa que apresenta o uso correto do acento grave, indicador de crase.

- a) Todos somos sujeitos à chuvas e trovoadas.
- b) Eu posso te visitar após às 15h.
- c) Devemos à essa professora o nosso sucesso.
- d) Falei à senhora a mais pura verdade.

9) Em relação às regras de regência verbal e nominal, assinale a alternativa incorreta.


- a) A família toda assistiu às partidas na TV.
- b) Os síndicos julgaram o caso do condômino irresponsável ontem.
- c) Aspiravam à poluição todos os dias na cidade.
- d) Os professores deram razão aos alunos.

10) Em relação às regras de colocação pronominal, segundo a Gramática Normativa da Língua Portuguesa, assinale a alternativa correta.





- a) Elas tinham avisado-me sobre as faltas excessivas.
- b) Se apresentaram muito bem no recital as suas filhas.
- c) Hoje nos preocupamos muito mais com as expressões que usamos.
- d) Os alunos que mantiveram-se em silêncio durante a aula aprenderam.

RACIOCÍNIO LÓGICO

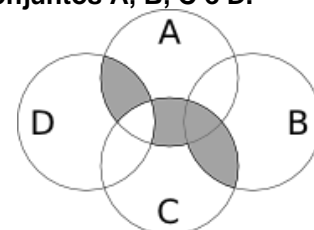
- 11) Uma pessoa pretende assentar uma fileira ladrilhos idênticos, mas deseja colocá-los de acordo com um padrão fixo de rotações sequenciais para variar o padrão básico/imagem formada com a simples colocação deles na mesma direção. Abaixo, a esquerda, está a peça do ladrilho e, a direita, as três primeiras peças assentadas.



Assinale a alternativa que indica a imagem do quarto ladrilhos colocado à direita que corresponde ao padrão que estava sendo adotado nas três peças colocadas anteriormente.

- a) 
- b) 
- c) 
- d) 

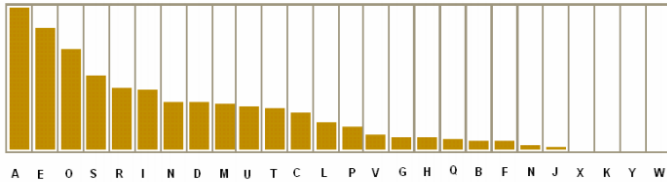
- 12) A figura abaixo representa o diagrama de Venn para os conjuntos A, B, C e D.



Assinale a alternativa que representa a região acinzentada.

- a)  $(A \cap C) \cup (A \cap D) \cup (B \cap C) - (C \cap D)$
- b)  $(A \cup C) \cap (A \cup D) \cap (B \cap C) - (C \cap D)$
- c)  $(A \cap B \cap C \cap D) - (C \cup D)$
- d)  $(B \cap C) \cup (A \cap C \cap D) - (C \cup D)$

13) Um dos mecanismos para quebrar criptografias simples de substituição de caracteres é verificar a frequência das letras e a coerência de palavras em determinado idioma. O diagrama abaixo apresenta a frequência aproximada das letras nas palavras da língua portuguesa.



Com base neste diagrama e nas palavras do vocabulário da língua portuguesa é possível decifrar a frase criptografada.

Z NVMGV JFV HV ZYIV Z FNZ MLEZ RWVRZ  
QZNZRH ELOGZIZ ZL HVF GZNZMSL  
LIRTRMZO

A frequência de cada caracter dessa frase está indicada na seguinte tabela.

letra	frequência	letra	frequência	letra	frequência
Z	14	F	3	J	1
V	7	G	3	Q	1
L	5	H	3	S	1
R	5	I	3	T	1
M	4	E	2	W	1
N	4	O	2	Y	1

Com base nestas informações e sabendo que todas as palavras são da Língua Portuguesa, os espaços não foram substituídos e que acentos e maiúsculas foram ignorados, analise as afirmativas abaixo:

- I. A letra “Z” no texto criptografado é a mais frequente e corresponde a letra “A” na frase original, compatível com a frequência na Língua Portuguesa.
- II. A letra “V” no texto criptografado corresponde a letra “E” texto original.
- III. A palavra criptografada “ZYIV” correspondem a palavras “AZUL”.

Estão corretas as afirmativas:

- a) I apenas
- b) I e II apenas
- c) I e III apenas
- d) I, II e III

14) O trecho abaixo é do soneto XLIV, de Pablo Neruda, retirado de uma tradução para o Português popular na rede de computadores.

(...)  
Amo-te para começar a amar-te,  
para recomeçar o infinito  
e para não deixar de amar-te nunca:  
por isso não te amo ainda.  
(...)

Neste trecho vemos um conflito que inspira o poeta, que pode ser trocado pela proposição composta: “Se começa, então termina”. A partir dela considere as afirmações derivadas abaixo.

- I. Se não termina, então não começa.
- II. Não começa ou termina.
- III. Começa e não termina.

Com respeito à lógica proposicional assinale a alternativa que caracteriza cada afirmativa com respeito à proposição original

- a) I - negação; II - negação; III - equivalência
- b) I - equivalência; II - equivalência; III - negação
- c) I - negação; II - equivalência; III - negação
- d) I - negação; II - negação; III - negação

15) O estudo formal de proposições em termos da lógica proposicional é realizado em termos de tabelas-verdade.

“As tabelas-verdade derivam do trabalho de Gottlob Frege, Charles Peirce e outros nomes da década de 1880, e tomaram a forma atual em 1922 através dos trabalhos de Emil Post e Ludwig Wittgenstein. A publicação do Tractatus Logico-Philosophicus, de Wittgenstein, utilizava as mesmas para classificar funções veritativas em uma série. A vasta influência de seu trabalho levou, então, à difusão do uso de tabelas-verdade.” Fonte: wikipedia, “Tabela-verdade”.

Em uma tabela-verdade cada proposição simples individual é organizada em uma coluna e recebe valor verdadeiro (V) ou falso (F) a cada linha. Em uma última coluna se elenca o resultado lógico vindo da regra lógica definida pelos conectivos, para cada uma das linhas. Considere uma proposição composta por proposições simples:

“Se João mora aqui, então ele é rico, e, se ele é rico, então tem mais de um carro, e, se ele tem mais de um carro, então ele tem carros com placas diferentes, e não depende da regra de rodízios de carro do município.”

Assinale a alternativa que indica o número de linhas de uma tabela-verdade que contenha a avaliação desta proposição composta.

- a) 8
- b) 16
- c) 32
- d) 64



16) No mundo contemporâneo com as mídias sociais notícias falsas e falácias surgidas em debates se tornaram muito presentes. Particularmente, a falácia nomeada por “Argumentum ad hominem” que é estruturada “quando alguém procura negar uma proposição com uma crítica ao seu autor e não ao seu conteúdo”.

Considere as proposições abaixo adaptadas de discursos encontrados na rede de computadores.

- I. “Nosso País tem um déficit educacional reconhecido. Pessoas com aprendizado formal deficitário acreditam muito naquilo que recebem pelo aplicativo. Então há preocupante deficiência na checagem de notícias.”
- II. “O filósofo liberal X disse discordar desta opinião. Este filósofo já deu entrevista à revista comunista, então sua opinião não é confiável.”
- III. “Quem nunca fumou não pode tentar interferir nas discussões e políticas públicas sobre tabagismo”.

Assinale a alternativa em que são identificadas falácias de *Argumentum ad hominem*.

- a) I, II e III
- b) I e II apenas
- c) I e III apenas
- d) II e III apenas

17) O número  $1/3$  (um terço) em representação decimal assume a forma:  $0,33333\dots$  com uma infinidade de casas decimais seguintes (repetitivas) com o algarismo 3. Considere o seguinte procedimento para descobrir o par de números que forma uma dízima periódica baseado em uma sequência de operações aritméticas rudimentares e no encadeamento lógico sequencial:

$$\begin{aligned} N &= 0,33333\dots \Rightarrow \\ 10N &= 3,33333 \Rightarrow \\ 10N - N &= 3 \Rightarrow \\ 9N &= 3 \Rightarrow \\ N &= 3/9 \Rightarrow \\ N &= 1/3 \end{aligned}$$

Baseado neste procedimento, analise as afirmativas abaixo e dê valores Verdadeiro (V) ou Falso (F).

- ( )  $0,99999\dots = 1$
- ( )  $0,1 + 0,01 + 0,001 + \dots = 1/9$
- ( ) Um número que não exhibe repetição como:  $0,123456789101112131415\dots$  (onde se encadeiam os inteiros crescentes ao longo de suas casas decimais) pode ter a fração determinada da mesma maneira.

Assinale a alternativa que avalia corretamente as afirmações acima em termos da mesma lógica apresentada no procedimento.

- a) F, F, F
- b) F, V, V
- c) V, V, F
- d) F, V, F

18) Uma pessoa procura por um argumento dedutivo a partir de duas premissas listadas abaixo.

Premissa 1: Toda quantidade física pode ser medida por algum dispositivo.

Premissa 2: Não se consegue medir o amor com um dispositivo.

A pessoa estabelece, então, duas proposições na forma de conclusões possíveis.

Conclusão 1: O amor não é uma quantidade física.  
Conclusão 2: Nem toda quantidade física pode ser medida por algum dispositivo.

Partindo do princípio da lógica dedutiva, assinale a alternativa correta.

- a) ambas conclusões são deduções válidas
- b) apenas a conclusão 1 é uma dedução válida
- c) apenas a conclusão 2 é uma dedução válida
- d) nenhuma das conclusões é uma dedução válida

19) Em uma rede social dois amigos, Fernando e Roberto, analisam sua rede de amigos. Fernando tem 2120 amigos, enquanto Roberto tem 580 amigos. A rede completa de amigos de um, de outro ou ambos tem 2550 pessoas. Considere dois cenários:

C1: dado que a pessoa é amiga de Roberto, qual a chance dela ser amiga também de Fernando?

C2: dado que a pessoa é amiga de Fernando, qual a chance dela ser amiga também de Roberto?

Assinale a alternativa que melhor aproxima o valor da resposta de cada pergunta elencada nos cenários acima.

- a)  $C1 = 26\%$  e  $C2 = 7\%$
- b)  $C1 = 6\%$  e  $C2 = 6\%$
- c)  $C1 = 23\%$  e  $C2 = 83\%$
- d)  $C1 = 9\%$  e  $C2 = 9\%$

20) Sejam duas proposições lógicas simples: A e B, e a representação simbólica para a negação e os conectivos lógicos abaixo listadas:

$\sim A$	negação de A
$A \wedge B$	A e B
$A \vee B$	A ou B
$A \rightarrow B$	se A, então B
$A \leftrightarrow B$	A se, e somente se, B

Considere as proposições enumeradas:

- I.  $A \wedge \sim A$
- II.  $(A \wedge B) \vee \sim (A \wedge B)$
- III.  $(A \rightarrow B) \leftrightarrow (\sim B \rightarrow \sim A)$

Uma tautologia é uma proposição lógica que pode apenas assumir valores-verdade verdadeiros (V), uma antinomia é a negação de uma tautologia, e, portanto, é uma proposição composta em que resulta apenas em valores lógicos falsos (F). Assinale a alternativa que corretamente classifica as proposições completas enumeradas nesses termos.

- a) I - Antinomia; II - Tautologia; III - Tautologia
- b) I - Tautologia; II - Antinomia; III - Tautologia
- c) I - Tautologia; II - Tautologia; III - Antinomia
- d) I - Tautologia; II - Tautologia; III - Tautologia

## CONHECIMENTOS ESPECÍFICOS

### 21) Sobre paralisia cerebral, analise o texto abaixo:

Paralisia Cerebral (PC) é um termo utilizado para designar lesão no cérebro \_\_\_\_\_, com caráter \_\_\_\_\_ e não-evolutivo, podendo levar a alterações do movimento, da \_\_\_\_\_, do equilíbrio, da coordenação e do tônus muscular. A lesão pode acometer os hemisférios cerebrais, a região mesodiencefálica, o tronco cerebral e/ou o \_\_\_\_\_.

**Assinale a alternativa que preencha correta e respectivamente as lacunas.**

- a) imaturo / não progressivo / postura / cerebelo
- b) imaturo / progressivo / postura / cerebelo
- c) maduro / não progressivo / postura / cerebelo
- d) maduro / progressivo / postura / cerebelo

### 22) Em relação a Paralisia cerebral e o comprometimento motor, analise as afirmativas abaixo e dê valores Verdadeiro (V) ou Falso (F).

- ( ) Espástica: apresenta as características da lesão do primeiro neurônio motor, levando à hiperreflexia, à hipertonia e à fraqueza muscular.
- ( ) Atetóide: ocorre por causa da lesão no sistema extrapiramidal. As crianças com esse tipo de PC apresentam desequilíbrio da atividade dos músculos agonistas e antagonistas, e a contração de um grupo muscular leva à inibição completa dos antagonistas.
- ( ) Atáxica: é muito rara na paralisia cerebral. A lesão ocorre no cerebelo, e a criança apresenta hipotonia, perturbação de equilíbrio, disartria, tremor intencional.
- ( ) Mista: Ocorre envolvimento tanto do sistema piramidal como do extrapiramidal.

**Assinale a alternativa que apresenta a sequência correta de cima para baixo.**

- a) F, V, F, V
- b) F, F, F, F
- c) V, V, F, V
- d) V, V, V, V

### 23) Artrogripose múltipla congênita é uma síndrome rara, constituída de um conjunto heterogêneo de malformações congênitas, não-progressiva, de etiologia desconhecida, multicausal, caracterizada principalmente por múltiplas contraturas articulares. Assinale a alternativa incorreta.

- a) As deformidades características da doença, comumente, se apresentam de forma simétrica e múltiplas, com maior gravidade nas extremidades distais
- b) Como principais manifestações clínicas, encontram-se as alterações da pele (diminuição da elasticidade, falta de pregas, escassez tecido subcutâneo), atrofia muscular, substituição da massa muscular por tecido adiposo e fibroso, as estruturas periarticulares tornam-se mais espessas
- c) A fisioterapia aplicada a artrogripose múltipla tem como objetivo: melhora da mobilidade articular, da funcionalidade, contraturas e da força muscular
- d) As deformidades características da doença, comumente, se apresentam de forma simétrica e múltiplas, com maior gravidade nas extremidades proximais

### 24) A gravidez é uma condição especial de saúde que traz diversas adaptações no organismo materno, gerando modificações tanto emocionais como físicas. Assinale a alternativa incorreta.

- a) A função respiratória é expressivamente afetada durante a gravidez. O crescimento do útero gera uma elevação na posição de repouso do diafragma e uma mudança na configuração do tórax, que se amplia no diâmetro ântero-posterior
- b) O ângulo subcostal diminui e os músculos abdominais vão sendo submetidos a um extremo alongamento
- c) Durante o primeiro trimestre gestacional ocorre o aumento do volume minuto decorrente do aumento do volume corrente. Essa hiperventilação pode, portanto, explicar o número de queixas subjetivas de dispnéia durante a gestação
- d) A dor da cintura pélvica relacionada à gravidez é definida como uma dor experimentada entre a crista ilíaca posterior e a prega glútea, particularmente na proximidade das articulações sacroilíacas, podendo irradiar para a região posterior da coxa e ocorrer junto com a dor na sínfise púbica

### 25) Sobre doença da membrana hialina, analise o texto abaixo:

A Doença da Membrana Hialina (DMH) ou \_\_\_\_\_ é uma patologia causada por \_\_\_\_\_ pulmonar e está relacionada à deficiência primária de surfactante. As técnicas fisioterapêuticas utilizadas em neonatos com DMH têm por objetivos melhorar o mecanismo de purificação mucociliar, detectando e corrigindo fatores que interferem nesse processo; auxiliar no processo de depuração mucociliar, prevenindo \_\_\_\_\_, minimizando as obstruções do trato respiratório e da cânula traqueal; prevenir e corrigir complicações decorrentes do acúmulo de secreção pulmonar, como atelectasias, infecções e alterações da relação ventilação-perfusão.

**Assinale a alternativa que preencha correta e respectivamente as lacunas.**

- a) Síndrome do desconforto respiratório, imaturidade, o acúmulo de secreções
- b) Síndrome do desconforto respiratório, maturidade, o acúmulo de secreções
- c) Síndrome do desconforto respiratório, imaturidade, acúmulo de CO<sub>2</sub>
- d) Síndrome do desconforto respiratório, maturidade, acúmulo de CO<sub>2</sub>

**26) Sobre a psicomotricidade, analise as afirmativas abaixo:**

- I. Ela visa facilitar a interação entre a motricidade, a afetividade e a mente, pois acredita que o desenvolvimento motor típico das pessoas está relacionado com esses três fatores.
- II. A intervenção psicomotora tem como objeto de estudo o homem e seu corpo em movimento em relação ao seu mundo interno e externo. Está relacionada ao processo de maturação, onde o corpo é a origem das aquisições cognitivas, afetivas e orgânicas.
- III. A psicomotricidade possui alguns elementos básicos, chamados de pilares, dentre eles pode-se destacar o esquema corporal, a lateralidade, a estruturação espacial, a orientação temporal e a pré-escrita.
- IV. Sabe-se que, através de estímulos ambientais fornecidos por familiares, terapeutas e pelo próprio ambiente, ocorre a especialização morfo-químico-funcional das células do sistema nervoso. Esta especialização permite a formação de sinapses com conexões entre estruturas funcionais do sistema nervoso.

**Assinale a alternativa correta.**

- a) Apenas as afirmativas I e II estão corretas
- b) Apenas as afirmativas III e IV estão corretas
- c) As afirmativas I, II, III e IV estão corretas
- d) Apenas as afirmativas I e III estão corretas

**27) Em relação à Osteoporose, assinale a alternativa incorreta.**

- a) A Osteoporose é uma doença sistêmica caracterizada pela diminuição da densidade mineral óssea
- b) A realização de atividade física pode, entre outros fatores, aumentar a dor, aumentando o uso de analgésicos podendo melhorar a qualidade de vida de indivíduos com Osteoporose
- c) Dentre as doenças crônicas mais frequentes no envelhecimento, a Osteoporose tem sido apontada como uma das prioridades de saúde pública mundial, devido a sua alta prevalência e efeitos sobre a saúde física e psicossocial do idoso
- d) Ocorre deterioração da microarquitetura do tecido ósseo, resultando na perda de resistência e aumento do risco de fratura por fragilidade, principalmente na coluna vertebral, no quadril e no punho

**28) Em relação a desenvolvimento de ambientes saudáveis e incentivos a estilos de vida saudável, analise o texto abaixo:**

No que tange ao desenvolvimento de habilidades pessoais, o fisioterapeuta atuará, principalmente, no \_\_\_\_\_ de vida saudáveis tais como incentivo à prática da atividade física regular; adoção de hábitos alimentares saudáveis; \_\_\_\_\_, ao álcool e às drogas ilícitas; desestímulo à promiscuidade e estabelecimento de relações parentais estáveis; educação sexual para jovens e adultos; e incentivo à valorização e corresponsabilização da própria saúde e saúde da comunidade. Desta forma, o fisioterapeuta contribuiria ao desenvolvimento da promoção da saúde, tanto no desenvolvimento de \_\_\_\_\_ individuais, quanto nas questões estruturais condicionantes das condições de vida.

**Assinale a alternativa que preencha correta e respectivamente as lacunas.**

- a) desenvolvimento de hábitos / combate ao tabaco / habilidades
- b) descostume de hábitos / combate ao tabaco / habilidades
- c) descostume de hábitos / combate ao uso de analgésicos / habilidades
- d) desenvolvimento de hábitos / combate ao tabaco / disposição

**29) Leia atentamente as afirmativas abaixo e assinale a alternativa incorreta.**

- a) O assoalho pélvico feminino está dividido em três porções sendo elas: anterior (bexiga e uretra), média (vagina), posterior (reto) e superior as vísceras
- b) É composto por estruturas de sustentação: fâscias pélvicas (ligamento pubo-vesical, redondo do útero, uterossacro e ligamento cervical transverso), diafragma pélvico (músculo eleva dor do ânus) e diafragma urogenital (músculo bulbocavernoso, transverso superficial e isquiocavernoso)
- c) Quanto à composição das fibras, 70% são do tipo I (lenta) e 30% do tipo II (rápida)
- d) Todas essas estruturas são essenciais no suporte e manutenção dos órgãos pélvicos em suas posições fisiológicas e como estão muito próximas e interligadas é comum encontrar dificuldade na identificação de alterações / fraqueza do assoalho pélvico, o que complica o seu tratamento



**30) Sobre incontinência urinária, analise as afirmativas abaixo e dê valores Verdadeiro (V) ou Falso (F):**

- ( ) A incontinência urinária de esforço é definida pela Sociedade Internacional de Continência (ICS) como a queixa de perda involuntária de urina no esforço físico, espirro ou tosse.
- ( ) Os exercícios fisioterápicos de fortalecimento do assoalho pélvico, os cones vaginais e a eletroestimulação intravaginal têm apresentado resultados expressivos para a melhora dos sintomas de incontinência urinária.
- ( ) Um dos principais objetivos do tratamento fisioterápico é o fortalecimento dos músculos do assoalho pélvico, pois a melhora da força e da função desta musculatura favorece uma contração consciente e efetiva nos momentos de aumento da pressão intra-abdominal, evitando assim as perdas urinárias.

**Assinale a alternativa que apresenta a sequência correta de cima para baixo.**

- a) F, V, F
- b) V, V, V
- c) F, V, V
- d) F, F, V

**31) No site [www.alzheimermed.com.br](http://www.alzheimermed.com.br) consta o papel do fisioterapeuta na Doença de Alzheimer. A esse respeito, assinale a alternativa correta.**

- a) Prevenção de contusões musculares, mobilização das secreções pulmonares, encurtamentos musculares e manutenção da massa muscular na prevenção de atrofia, visando melhor equilíbrio e marcha, ou seja, procurar prolongar o tempo de independência do paciente
- b) Prevenção de contraturas articulares, mobilização das secreções pulmonares, encurtamentos musculares e manutenção da massa muscular na prevenção de atrofia, visando melhor equilíbrio e marcha, ou seja, procurar prolongar o tempo de dependência do paciente
- c) Prevenção de contraturas articulares, mobilização das secreções pulmonares, encurtamentos musculares e manutenção da massa muscular na prevenção de atrofia, visando melhor equilíbrio e marcha, ou seja, procurar prolongar o tempo de independência do paciente
- d) Prevenção de contraturas articulares, quiropraxia, encurtamentos musculares e manutenção da massa muscular na prevenção de atrofia, visando melhor equilíbrio e marcha, ou seja, procurar prolongar o tempo de independência do paciente

**32) A população idosa vem crescendo ao longo das últimas décadas, principalmente pela redução da mortalidade em crianças, jovens e adultos, e também devido ao aumento da expectativa de vida. Sobre isso, analise as afirmativas abaixo:**

- I. O envelhecimento pode comprometer a habilidade do sistema nervoso central em processar os sinais vestibulares, visuais e proprioceptivos responsáveis pela manutenção do equilíbrio corporal, diminuindo a capacidade de modificações dos reflexos adaptativos.
- II. Um dos principais fatores que limitam a vida do indivíduo idoso é o desequilíbrio corporal, que em aproximadamente 80% dos casos não pode ser atribuído a uma causa específica, mas ao comprometimento do sistema de equilíbrio como um todo.
- III. O tratamento dos idosos que apresentam limitações de locomoção minimiza o número de acidentes como quedas, favorecendo a sensação de independência e de orientação especial.
- IV. A atividade física associa-se a numerosos benefícios à saúde, pois os exercícios, além de promoverem melhora do metabolismo geral, são importantes na estimulação proprioceptiva e postural, promovendo a aceleração da compensação vestibular.

**Assinale a alternativa correta.**

- a) As afirmativas I, II, III e IV estão corretas
- b) Apenas as afirmativas II, III e IV estão corretas
- c) Apenas as afirmativas I, III e IV estão corretas
- d) Apenas as afirmativas I, II e IV estão corretas

**33) Assinale a alternativa que apresenta o processo de envelhecimento biológico determina alterações no aparelho locomotor, que causam limitações às atividades da vida diária e, assim, comprometem a qualidade de vida da pessoa que envelhece.**

- a) Apesar de o fortalecimento muscular levar a melhora da função, outros exercícios mais funcionais são necessários para haver ganho maior no equilíbrio e na independência do idoso
- b) A perda da capacidade de reter água pelo organismo, devido ao envelhecimento, associada ao aumento da capacidade para produzir proteoglicanos, causa alterações degenerativas articulares, já que a cartilagem tem menor capacidade de absorver o impacto.
- c) Dentre as queixas relacionadas com o sistema musculoesquelético, a Osteoartrose (OA) é a doença articular mais prevalente entre os indivíduos acima dos 85 anos
- d) A queda associada à fragilidade óssea caracterizada pela sarcopenia pode aumentar a probabilidade de o idoso sofrer algum tipo de fratura

34) O exercício físico provoca uma série de respostas fisiológicas, resultantes de adaptações autonômicas e hemodinâmicas que vão influenciar o sistema cardiovascular. Os efeitos benéficos do exercício físico devem ser aproveitados no tratamento \_\_\_\_\_ do indivíduo hipertenso, visando \_\_\_\_\_ o uso ou reduzir o número de medicamentos e de suas doses. Em indivíduos \_\_\_\_\_ e hipertensos, reduções clinicamente significativas na pressão arterial podem ser conseguidas com o aumento relativamente modesto na atividade física, acima dos níveis dos sedentários, além do que o \_\_\_\_\_ de exercício requerido para reduzir a pressão arterial pode ser relativamente pequeno, possível de ser atingido mesmo por indivíduos sedentários.

Assinale a alternativa que preencha correta e respectivamente as lacunas.

- final / evitar / sedentários / volume
- inicial / evitar / sedentários / volume
- final / evitar / sedentários / intensidade
- inicial / evitar / sedentários / intensidade

35) Em relação a atividade física, assinale a alternativa **incorreta**.

- Entre as implicações ao sistema cardiovascular pode-se incluir a redução do colesterol total (CT), lipoproteína de baixa densidade (LDL-C), triglicerídeos (TG), pressão arterial, melhora nos níveis séricos de colesterol e lipoproteína de alta densidade (HDL-C)
- Contribui para o controle glicêmico, para as respostas fisiológicas relacionadas ao aumento da demanda metabólica, e ao aporte de oxigênio associado aos gastos musculares
- Segundo a American College of Sports Medicine e American Heart Association preconiza-se que indivíduos saudáveis devam realizar atividade física moderada por no mínimo 30 minutos por dois dias na semana, ou 20 minutos de atividade intensa por três dias na semana a fim de promover e manter a saúde
- Os efeitos positivos obtidos pela prática de atividade física sob a saúde, de uma forma geral, são inquestionáveis

36) Sobre Hanseníase, analise as afirmativas abaixo.

- A Hanseníase é uma doença crônica, infectocontagiosa, cujo agente etiológico é o *Mycobacterium leprae*, que infecta os nervos periféricos e, mais especificamente, as células de Schwann.
- A bactéria é transmitida pelos objetos utilizados pelo paciente.
- Hanseníase tuberculóide (paucibacilar) é a forma da doença em que o sistema imune da pessoa consegue destruir os bacilos espontaneamente.
- Hanseníase dimorfa (multibacilar) caracteriza-se, geralmente, por mostrar várias manchas de pele avermelhadas ou esbranquiçadas, com bordas elevadas, mal delimitadas na periferia, ou por múltiplas lesões bem delimitadas semelhantes à lesão tuberculóide, porém a borda externa é esmaecida (pouco definida).

Estão corretas as afirmativas:

- I, II, III e IV
- II e III apenas
- I, III e IV apenas
- I, II e IV apenas

37) O tabagismo é considerado a segunda causa de morte no mundo pela OMS. Sobre isso, analise as afirmativas abaixo:

- Há uma vasta literatura associando o fumo ativo à mortalidade por diversos tipos de câncer (pulmão, boca, faringe, laringe, esôfago, estômago, pâncreas, bexiga, rim, colo do útero e leucemia mieloide aguda), doença pulmonar obstrutiva crônica (DPOC), doença coronariana, hipertensão arterial e acidente vascular encefálico.
- A Política Nacional para o Controle do Tabaco tem a intenção de melhorar o nível de saúde da população e fortalecer mecanismos de proteção social para pequenos agricultores que plantam fumo, consolidando a agricultura familiar e contribuir para a promoção do desenvolvimento sustentável.
- A Política Nacional para o Controle do Tabaco apoia as iniciativas para combater a corrupção, promover os interesses nacionais e intensificar o compromisso do Brasil com uma cultura de paz, solidariedade e de direitos humanos no cenário internacional.
- O tabagismo é a principal causa evitável de mortes no mundo sendo um importante fator de risco associado a seis das oito enfermidades que mais vítimas produz.

Estão corretas as afirmativas:

- I e II apenas
- II e III apenas
- III e IV apenas
- I, II, III, IV

**38) Sobre Transtorno do Espectro Autista, analise as afirmativas abaixo e dê valores Verdadeiro (V) ou Falso (F).**

- ( ) O Transtorno do Espectro Autista (TEA) é considerado uma síndrome neuropsiquiátrica caracterizada por manifestações comportamentais acompanhadas por déficits na comunicação e interação social, padrões de comportamentos repetitivos e estereotipados.
- ( ) Acredita-se que seja multifatorial, associada a fatores genéticos e neurobiológicos, isto é, anomalia anatômica ou fisiológica do sistema nervoso central, problemas constitucionais inatos e interação entre múltiplos genes.
- ( ) O diagnóstico de transtorno do espectro autista é essencialmente de imagens de tomografia e ressonância magnética.
- ( ) O autismo infantil envolve alterações severas e precoces nas áreas de socialização, comunicação e cognição.

**Assinale a alternativa que apresenta a sequência correta de cima para baixo.**

- a) V, V, V, V
- b) F, V, F, V
- c) V, V, F, V
- d) F, F, V, F

**39) Analise o texto abaixo sobre a doença de Parkinson.**

A Doença de Parkinson (DP) é uma doença \_\_\_\_\_ progressiva do sistema \_\_\_\_\_ caracterizada por bradicinesia, \_\_\_\_\_, rigidez e instabilidade postural. Outros achados clínicos importantes são: distúrbio da marcha, \_\_\_\_\_, alteração da voz, disartria, sialorréia, disfunção olfatória, hipotensão ortostática, hiperidrose, seborréia, disfunção sexual, \_\_\_\_\_, dores, parestesias, disfagia, incontinência urinária, micrografia, distúrbios do sono, bradifrenia, depressão e demência.

**Assinale a alternativa que preencha correta e respectivamente as lacunas.**

- a) neurológica / piramidal / tremor de repouso / fácies em máscara / câimbra
- b) reumatológica / extrapiramidal / tremor intencional / fácies em máscara / câimbra
- c) psiquiátrica / piramidal / tremor no exercício / fácies de tristeza / câimbra
- d) neurológica / extrapiramidal / tremor de repouso/ fácies em máscara / câimbra

**40) Sobre artrite reumatoide, assinale a alternativa incorreta.**

- a) É uma doença inflamatória crônica que afeta 0,5% a 1% da população mundial, sendo mais frequente em homens
- b) É um distúrbio inflamatório sistêmico que pode afetar diversos tecidos e órgãos, tais como pele, vasos sanguíneos, coração, pulmões e músculos, mas ataca principalmente as articulações, produzindo sinovite inflamatória não supurativa que geralmente evolui para a destruição da cartilagem articular e anquilose das articulações
- c) A fisioterapia é importante em toda fase da doença e objetiva a preservação e restauração da habilidade funcional geral, melhorando a mobilidade articular, a força muscular, a resistência, a flexibilidade e a capacidade aeróbia
- d) O tratamento fisioterapêutico inclui a aplicação de termoterapia, eletroestimulação e fisioterapia aquática

