

**CONCURSO PÚBLICO PARA O PROVIMENTO DE CARGOS  
DO QUADRO PERMANENTE DE PESSOAL**

**EDITAL 01/2022**



**JUSTIÇA DO TRABALHO**  
**T RT da 3ª Região (MG)**

**C A D E R N O   D E   P R O V A S**

<b>CADERNO</b> <b>205</b>	<b>Cargo / Área / Especialidade</b> <ul style="list-style-type: none"><li>• <b>Analista Judiciário – Apoio Especializado – Arquitetura</b></li></ul>
<b>QUESTÕES</b>	<ul style="list-style-type: none"><li>• <b>LÍNGUA PORTUGUESA</b></li><li>• <b>NOÇÕES DE INFORMÁTICA</b></li><li>• <b>LEGISLAÇÃO</b></li><li>• <b>NOÇÕES DE DIREITO</b></li><li>• <b>CONHECIMENTOS ESPECÍFICOS</b></li><li>• <b>REDAÇÃO (TEXTO DISSERTATIVO)</b></li></ul>

**Leia, atentamente, as instruções gerais que se encontram no verso desta capa.**

## INSTRUÇÕES GERAIS

1. Este caderno de provas contém um total de 60 (sessenta) questões objetivas, sendo 15 de Língua Portuguesa, 5 de Noções de Informática, 5 de Legislação, 5 de Noções de Direito, 30 de Conhecimentos Específicos; e 1 (uma) questão discursiva (Redação). Confira-o.
2. As provas objetivas e discursiva terão duração de **4 (quatro) horas e 30 (trinta) minutos**, incluído o tempo destinado à transcrição das respostas do caderno de questões para as folhas de respostas oficiais.
3. Por motivo de segurança, o candidato somente poderá retirar-se do local da realização das provas depois de 3 (três) horas do seu início.
4. As respostas das questões objetivas e discursivas deverão ser transcritas para a folha de respostas oficial, usando caneta esferográfica de tinta azul ou preta.
5. Você poderá transcrever suas respostas das questões objetivas para a última folha deste caderno, podendo destacá-la.
6. Na transcrição da redação, em caso de erro, não use borracha, não rasure nem use corretivo. Coloque entre parênteses o que deseja que **não seja considerado**, passando um traço duplo sobre o termo, a expressão ou a frase. Exemplo: (~~xyzxyzxyzxyz~~)
7. Em nenhuma hipótese haverá substituição das folhas de respostas objetivas e discursiva por erro do candidato.
8. Este caderno deverá ser devolvido ao fiscal, juntamente, com as folhas de respostas objetivas e discursiva, devidamente preenchidas e assinadas.
9. Os gabaritos e as questões da Prova Objetiva estarão divulgados no sítio eletrônico da FUMARC <[www.fumarc.com.br](http://www.fumarc.com.br)> no 1º dia útil subsequente ao da realização da prova.
10. **ATENÇÃO:** Transcreva no espaço apropriado na sua Folha de Respostas, com sua caligrafia usual, a seguinte frase:

*“Saúde mental se caracteriza pelo equilíbrio das emoções, dos sentimentos e das expectativas em torno de si, dos outros e da vida.”*

A comissão organizadora da FUMARC Concursos lhe deseja uma boa prova.

Prezado(a) candidato(a):

Coloque seu número de inscrição e nome no quadro abaixo:

Nº de Inscrição	Nome
<input type="text"/>	<input type="text"/>

**ASSINALE A RESPOSTA CORRETA.**

**PROVA DE LÍNGUA PORTUGUESA**

**As palavras e as coisas**

Antônio Prata

Entre as sugestões que vieram da editora sobre meu novo livro, havia a de trocar "índios" por "indígenas". Sempre fui um defensor do politicamente correto. Algumas mudanças na ética verbal, porém, me parecem contraproducentes.

Em certo momento dos anos 90, "favela" virou "comunidade". "Favelado" era um termo pejorativo e é compreensível que os moradores destas áreas não quisessem ser chamados assim, mas mudar para "morador de comunidade", embora amacie na semântica, não leva água encanada, esgoto e luz para ninguém. Pelo contrário.

A gente ouve "comunidade" e dá a impressão de que aquelas pessoas estão todas de mãos dadas fazendo uma ciranda em torno da horta orgânica, não apinhando-se em condições sub-humanas, sem esgoto, asfalto, educação, saúde.

Talvez fosse bom deixarmos o incômodo nos tomar toda vez que disséssemos ou ouvíssemos "favela" ou "favelados". Nosso objetivo deveria ser dar condições de vida decente praquela gente, não nos sentirmos confortáveis ao mencioná-la.

O mesmo vale para "morador em situação de rua". Parece que o cara teve um problema pra voltar pra casa numa terça, dormiu "em situação de rua" num

ponto de ônibus e na quarta vai retornar ao conforto do lar. É mentira. A pessoa que mora na rua tá ferrada, é alguém que perdeu tudo na vida, até virar "mendigo".

"Mendigo" é um termo horrível não porque as vogais e consoantes se juntam de forma deselegante, mas pelo que ele nomeia: gente que dorme na calçada, revira lixo pra comer, não tem sequer acesso a um banheiro. Mas quando a gente fala "morador em situação de rua" vem junto o mesmo morninho no coração de "comunidade": essa situação, pensamos, é temporária. Vai mudar. Logo, logo, ele estará em outra.

Não, não estará se não nos indignarmos com a indignância e agirmos. Algumas palavras têm que doer, porque a realidade dói. Do contrário, a linguagem deixa de ser uma ferramenta que busca representar a vida como ela é e se torna um tapume nos impedindo de enxergá-la.

Sobre "índios" e "indígenas", li alguns textos. Os argumentos giram em torno do fato de "índio" ter se tornado um termo pejorativo, ligado aos preconceitos que os brancos sempre tiveram com os povos originários da América: preguiçosos, atrasados, primitivos.

Tá certo. Mas o problema, pensei, não tá no termo "índio", tá no preconceito do branco. Outro dia ouvi num podcast americano um escritor judeu indignado porque ele, que sempre chamou os de sua religião de "jews" (judeus), agora tinha que dizer "jewish people" (pessoas judias). Como se houvesse algo de errado em ser judeu, ele disse. Como se a mudança na nomenclatura incorporasse o preconceito, quando deveria ser justamente o contrário, feito os negros americanos dos anos 70 dizendo "say it loud, I'm black and I'm proud!" ("diga alto, sou preto e tenho orgulho!").

Eu estava errado. Fui salvo da ignorância por minha querida prima antropóloga, Florência Ferrari, e pelo mestre Sérgio Rodrigues. "Indígena" vem de "endógeno", aquele que pertence a um lugar. Ou seja: "povos indígenas" dão uma ideia da multiplicidade de etnias que aqui estavam. "Índio" é uma generalização preconceituosa, tipo "paraíba", no Rio, para se referir a qualquer nordestino ou nortista. Maravilha. Sai "índio". Entra "indígena". Viva a Paraíba.

Disponível em: <https://www1.folha.uol.com.br/colunas/antonioprata/2022/07/as-palavras-e-as-coisas.shtml> (Adaptado). Acesso em: 22 set. 2022,

**QUESTÃO 01**

Sobre o gênero do texto, é **CORRETO** dizer que se trata de

- (A) editorial.
- (B) um artigo de opinião.
- (C) um relato pessoal.
- (D) um texto dissertativo-argumentativo.
- (E) uma crônica.

**QUESTÃO 02**

Sobre a constituição do texto, é correto afirmar, **EXCETO**:

- (A) A ideia apresentada no primeiro parágrafo é defendida ao longo do desenvolvimento do texto
- (B) No 1º parágrafo, apresenta-se a tese que será desenvolvida ao longo do texto.
- (C) No último parágrafo, a conclusão contradiz a ideia expressa no parágrafo anterior.
- (D) O uso da 1ª pessoa do singular, em alguns trechos, é incorreto, pois perde-se a credibilidade na fala do locutor.
- (E) Utiliza-se de uma linguagem informal, o que dá ao leitor a ideia de um bate-papo.

**QUESTÃO 03**

Em todos os trechos, há interlocução, **EXCETO** em:

- (A) “Como se a mudança na nomenclatura incorporasse o preconceito, quando deveria ser justamente o contrário [...].”
- (B) “Do contrário, a linguagem deixa de ser uma ferramenta que busca representar a vida como ela é e se torna um tapume nos impedindo de enxergá-la.”
- (C) “Mas quando a gente fala "morador em situação de rua" vem junto o mesmo morninho no coração de "comunidade" [...].”
- (D) “Não, não estará se não nos indignarmos com a indignância e agirmos.”
- (E) “Talvez fosse bom deixarmos o incômodo nos tomar toda vez que disséssemos ou ouvíssemos "favela" ou "favelados".”

**QUESTÃO 04**

As palavras destacadas foram corretamente interpretadas entre parênteses, **EXCETO** em:

- (A) “[...] mas mudar para "morador de comunidade", embora amacie na **semântica**, não leva água encanada, esgoto e luz para ninguém.” (sentido das palavras)
- (B) “A gente ouve "comunidade" e dá a impressão de que aquelas pessoas estão todas de mãos dadas fazendo uma ciranda em torno da horta orgânica, não **apinhando**-se em condições sub-humanas.” (aglomerando-se)
- (C) “Como se a mudança na **nomenclatura** incorporasse o preconceito, quando deveria ser justamente o contrário” (vocabulário)
- (D) “Em certo momento dos anos 90, "favela" virou "comunidade". "Favelado" era um termo **pejorativo**.” (vulgar)
- (E) “Não, não estará se não nos indignarmos com a **indigência** e agirmos.” (miséria)

**QUESTÃO 05**

São sentimentos presentes no texto, **EXCETO**:

- (A) Desconforto.
- (B) Determinação.
- (C) Indignação.
- (D) Ironia.
- (E) Preconceito.

**QUESTÃO 06**

O que motivou o locutor a escrever o texto foi

- (A) a descoberta de que estava errado com relação à palavra índio, a qual também é uma generalização preconceituosa.
- (B) a discussão gerada devido ao fato de ele usar a palavra índio em seu livro.
- (C) a mudança ocorrida na língua devido às questões relacionadas à ética verbal.
- (D) a não concordância com as mudanças ocorridas na língua devido à ética verbal.
- (E) a vontade de iniciar uma discussão devido ao fato de não concordar com o politicamente correto na língua.

**QUESTÃO 07**

Com base numa leitura global do texto, é possível fazer as seguintes afirmações, **EXCETO**:

- (A) Ao afirmar que estava errado em relação ao uso da palavra índio, visto que é uma palavra preconceituosa, mostra-se que o autor não se envergonha de errar e faz disso um aprendizado para si e para os seus leitores.
- (B) Ao afirmar que se não nos indignarmos com a indigência e agirmos, a linguagem deixa de ser uma ferramenta que busca representar a vida como ela é e se torna um tapume nos impedindo de enxergá-la, confirma-se a ideia de que trata o texto que é o combate ao preconceito.
- (C) Ao constatar que errou ao usar a palavra índio e foi salvo de sua ignorância por uma prima antropóloga e por um mestre, o autor revela sua tranquilidade em admitir seus erros e corrigi-los em tempo hábil.
- (D) Ao constatar que mudar para "morador de comunidade", embora amacie na semântica, não leva água encanada, esgoto e luz para ninguém, confirma-se a ideia de que algumas mudanças na ética verbal são contraproducentes.
- (E) Ao se referir à palavra "mendigo" como um termo horrível não porque as vogais e consoantes se juntem de forma deselegante, mas pelo que ele nomeia, mostra-se a indignação refletida na fala do autor.

**QUESTÃO 08**

Há linguagem figurada em:

- (A) “Algumas mudanças na ética verbal, porém, me parecem contraproducentes.”
- (B) “Algumas palavras têm que doer, porque a realidade dói.”
- (C) “Em certo momento dos anos 90, "favela" virou "comunidade".
- (D) “Mas o problema, pensei, não tá no termo "índio", tá no preconceito do branco.”
- (E) “O mesmo vale para "morador em situação de rua".

**QUESTÃO 09**

A ideia expressa pelos termos destacados está corretamente identificada entre parênteses, **EXCETO** em:

- (A) “[...] mas mudar para "morador de comunidade", **embora** amacie na semântica, não leva água encanada, esgoto e luz para ninguém.” (finalidade)
- (B) “Algumas mudanças na ética verbal, **porém**, me parecem contraproducentes.” (oposição)
- (C) “Como se a mudança na nomenclatura incorporasse o preconceito, **quando** deveria ser justamente o contrário [...].” (tempo)
- (D) “Do contrário, a linguagem deixa de ser uma ferramenta que busca representar a vida **como** ela é e se torna um tapume nos impedindo de enxergá-la.” (comparação)
- (E) “Não, não estará **se** não nos indignarmos com a indignância e agirmos.” (condição)



### QUESTÃO 10

Em: “Outro dia ouvi num podcast americano um escritor judeu indignado porque ele, que sempre chamou **os** de sua religião de "jews" (judeus) agora tinha que dizer "Jewish people" (pessoas judias).”, **os** é:

- (A) Artigo definido.
- (B) Artigo indefinido.
- (C) Pronome demonstrativo.
- (D) Pronome indefinido.
- (E) Pronome pessoal do caso oblíquo.

### QUESTÃO 11

A posição do pronome oblíquo é **facultativa** em:

- (A) "Mendigo" é um termo horrível não porque as vogais e consoantes **se** juntem de forma deselegante.”
- (B) “Do contrário, a linguagem deixa de ser uma ferramenta que busca representar a vida como ela é e **se** torna um tapume nos impedindo de enxergá-la.”
- (C) “Não, não estará se não **nos** indignarmos com a indignância e agirmos.”
- (D) “Nosso objetivo deveria ser dar condições de vida decente praquela gente, não **nos** sentirmos confortáveis ao mencioná-la.”
- (E) “Talvez fosse bom deixarmos o incômodo **nos** tomar toda vez que disséssemos ou ouvíssemos "favela" ou "favelados [...].”

### QUESTÃO 12

Em: “Talvez fosse bom deixarmos o incômodo nos tomar toda vez que **disséssemos** ou **ouvíssemos** "favela" ou "favelados", os verbos destacados estão flexionados no:

- (A) futuro do pretérito do indicativo.
- (B) futuro do subjuntivo.
- (C) pretérito imperfeito do indicativo.
- (D) pretérito imperfeito do subjuntivo.
- (E) pretérito perfeito do indicativo.

## INSTRUÇÃO

Leia o texto abaixo para responder às questões 13 e 14.



Disponível em: <https://www.instagram.com/p/CiTtyO-AabJ/> Acesso em: 23 set. 2022.

### QUESTÃO 13

Observando o anúncio “Aluga-se quarto com banheiro a 8 quadras do centro” e a pergunta feita “Me interessa, mas não tem um com o banheiro mais perto?”, pode-se dizer, **EXCETO** que

- (A) a intenção do anunciante foi anunciar um quarto com um banheiro e indicar onde o imóvel se localizava.
- (B) o duplo sentido gerado pela frase gerou humor, já que é impossível haver um quarto com um banheiro tão distante.
- (C) o fato de ser apenas um quarto no imóvel induz o leitor a pensar que o banheiro não era parte dele, pela distância sugerida na frase em questão.
- (D) o humor do texto foi gerado pelo fato de alguém querer alugar um quarto como o descrito no anúncio.
- (E) o leitor entendeu que o quarto tinha o banheiro em um lugar bem distante do local que seria o alugado.

**QUESTÃO 14**

Sobre o anúncio: “Aluga-se quarto com banheiro a 8 quadras do centro.”, pode-se dizer que a duplicidade de sentido pode ser desfeita, **EXCETO**

- (A) se colocarmos dois pontos após o termo “aluga-se”.
- (B) se colocarmos vírgula após o termo “quarto com banheiro”.
- (C) se colocarmos vírgulas intercalando o termo “com banheiro”
- (D) se colocarmos vírgulas intercalando o termo “quarto com banheiro”
- (E) se o termo “a 8 quadras do centro” vier no início da frase.

**QUESTÃO 15**

A crase é facultativa em:

- (A) Ele escreve à Machado de Assis.
- (B) Ele vendeu o apartamento à vista.
- (C) Os rapazes saíram às pressas.
- (D) Vou à casa de meu primo mais tarde.
- (E) Voltaremos para casa até às 19 horas.

**PROVA DE NOÇÕES DE INFORMÁTICA****QUESTÃO 16**

Ao acessar a opção “Personalização” na janela “Configurações” do Microsoft Windows 10, versão português, é possível fazer várias configurações personalizadas referentes ao sistema operacional.

Analise as afirmativas abaixo sobre as funcionalidades da opção “Personalização” da janela “Configurações” do Microsoft Windows 10:





- I – Na opção “Tela de fundo” é possível definir o modo “Apresentação de Slides” e selecionar uma pasta contendo imagens que se alternam em um intervalo de tempo.
- II – Na opção “Tela de bloqueio”, é possível escolher um aplicativo para mostrar o status detalhado na tela de bloqueio.
- III – Na opção “Barra de Tarefas”, existe a opção para desativar a lista de aplicativos do “Menu Iniciar”.

Estão **CORRETAS** as afirmativas:

- (A) I, apenas.
- (B) I e II, apenas.
- (C) I e III, apenas.
- (D) II e III, apenas.
- (E) I, II e III.

**QUESTÃO 17**

Em relação às opções disponíveis no menu “Apresentação de Slides” do LibreOffice Impress 7.1.6, versão português, correlacione as colunas a seguir:

Ícone	Descrição
I. 	( ) Configurações da apresentação de slides...
II. 	( ) Iniciar do slide atual
III. 	( ) Apresentação de slides personalizada...
IV. 	( ) Iniciar no primeiro slide

A sequência **CORRETA**, de cima para baixo, é:

- (A) I, II, IV, III.
- (B) II, IV, III, I.
- (C) III, II, I, IV.
- (D) IV, II, I, III.
- (E) IV, III, I, II.

**QUESTÃO 18**

O LibreOffice Writer 7.1.6, versão português, permite criar malas diretas por meio da opção “Assistente de mala direta...”. Essa opção está disponível por padrão na lista de opções do menu:

- (A) Estilos.
- (B) Inserir.
- (C) Formatar.
- (D) Formulário.
- (E) Ferramentas.

**QUESTÃO 19**

Considere o exemplo de planilha do LibreOffice Calc 7.1.6, versão português, abaixo com a célula **B1** selecionada.

	A	B
1	Belo Horizonte, MG	MG
2		
3		

A opção **CORRETA** da fórmula contida na célula **B1**, que faz referência ao conteúdo da célula **A1**, que irá gerar o valor "MG" na célula **B1**, conforme exibido na figura é:

- (A) =EXT.TEXTO(A1;PROCURAR(", "; A1);2)
- (B) =EXT.TEXTO(A1;PROCURAR(", "; A1)+2;0)
- (C) =EXT.TEXTO(A1;PROCURAR(", "; A1)+2;2)
- (D) =EXT.TEXTO(A1;PROCURAR("MG"; A1);0)
- (E) =EXT.TEXTO(A1;PROCURAR("MG"; A1)+2;2)

**QUESTÃO 20**

Analise as seguintes afirmativas sobre as opções de envio de e-mail da janela de "Nova mensagem" do Gmail, versão português:

- I – É possível inserir arquivos do Google Drive em uma mensagem.
- II – É possível programar o envio de uma mensagem para uma determinada data e hora.
- III – É possível inserir uma assinatura predefinida em uma mensagem.

Está **CORRETO** o que se afirma em:

- (A) I e II, apenas.
- (B) I, II e III.
- (C) II e III, apenas.
- (D) I, apenas.
- (E) I e III, apenas.

**PROVA DE LEGISLAÇÃO****QUESTÃO 21**

Conforme a legislação brasileira, pessoa com deficiência pode ser considerada capaz?

- (A) Não, toda pessoa com deficiência é presumidamente incapaz.
- (B) Sim, em igualdade de condições com as demais pessoas.
- (C) Sim, mas apenas no que se refere ao trabalho.
- (D) Sim, mas apenas para fins de saúde.
- (E) Toda pessoa com deficiência somente pode exercer direitos por meio de curador.

**QUESTÃO 22**

Na hipótese de servidor público usar de artifícios para dificultar o exercício regular de direito por qualquer pessoa, é **CORRETO** concluir que

- (A) a conduta é ilícita, se resultar em dano material.
- (B) não constitui ilícito, se o servidor atuou na esfera de sua competência.
- (C) não constitui ilícito, se o servidor atuou sob ordem de outrem.
- (D) o servidor deve ser demitido por ato imediato e sem direito de defesa.
- (E) se trata de infração ética.

**QUESTÃO 23**

Para os fins do Código de Ética do TRT3, **NÃO** se consideram presentes:

- (A) Bens imateriais.
- (B) Bens materiais ou imateriais recebidos sem que tenham sido solicitados.
- (C) Brindes que não tenham valor comercial.
- (D) Itens de consumo.
- (E) Valores em pecúnia.

**QUESTÃO 24**

A autoridade que tiver ciência de irregularidade praticada pelo servidor público do TRT3 que lhe seja subordinado estará obrigada a

- (A) demitir imediatamente o servidor.
- (B) determinar sua imediata apuração, por sindicância ou por processo administrativo disciplinar.
- (C) emitir ofício dirigido ao Ministério Público.
- (D) interrogar o servidor, bem como averiguar pessoalmente, por todos os meios, os fatos a serem apurados.
- (E) oficiar a Presidência do Tribunal.

**QUESTÃO 25**

A prática de discriminação pelo servidor do TRT3, em razão de orientação sexual, constitui

- (A) conduta irrelevante em face do regime disciplinar do servidor.
- (B) conduta irrelevante.
- (C) infração a compromisso ético.
- (D) manifestação individual de convicção.
- (E) matéria não prevista nas normas internas do Tribunal.



**PROVA DE NOÇÕES DE DIREITO****QUESTÃO 26**

A liberdade de associação sindical, conforme a Constituição da República de 1988R,

- (A) é livre apenas para a iniciativa privada.
- (B) é livre.
- (C) exige autorização estatal.
- (D) exige autorização patronal.
- (E) resulta na filiação obrigatória.

**QUESTÃO 27**

Os direitos dos trabalhadores, elencados no Art. 7º da Constituição vigente, são de titularidade

- (A) apenas dos trabalhadores que assim pactuarem em contratos formais.
- (B) apenas dos trabalhadores urbanos, exceto os domésticos.
- (C) apenas dos trabalhadores urbanos.
- (D) dos trabalhadores urbanos e rurais, exceto os trabalhadores domésticos.
- (E) dos trabalhadores urbanos e rurais.

**QUESTÃO 28**

A inviolabilidade de domicílio, garantida pela Constituição vigente, proíbe:

- (A) Ingresso forçado sem ordem judicial ou decisão policial.
- (B) Ingresso forçado sem ordem ordem judicial.
- (C) O ingresso forçado em qualquer hipótese.
- (D) O ingresso sem consentimento do morador, ainda que seja para prestar socorro.
- (E) O morador de impedir a entrada de autoridade em geral.

**QUESTÃO 29**

O servidor estável só perderá o cargo em virtude de:

- (A) apenas por processo administrativo disciplinar.
- (B) apenas por sentença judicial transitada em julgado.
- (C) decisão unilateral do seu superior hierárquico.
- (D) sentença judicial transitada em julgado ou de processo administrativo disciplinar com direito de defesa.
- (E) sentença judicial transitada em julgado ou de processo administrativo disciplinar, independente do direito de defesa.

**QUESTÃO 30**

O servidor público que causar dano a terceiro, no exercício das suas funções, causa a seguinte consequência:

- (A) Dever do Estado de responder pelos danos.
- (B) Dever do servidor de indenizar a vítima e comprovar o pagamento junto ao Estado.
- (C) Obrigação do Estado de indenizar a vítima, sem possibilidade de consequências para o próprio servidor.
- (D) Responsabilidade civil, mas sem possibilidade de responsabilidade disciplinar do servidor.
- (E) Responsabilidade disciplinar do próprio servidor, independente de sua culpa.

**PROVA DE CONHECIMENTOS ESPECÍFICOS – ARQUITETURA****QUESTÃO 31**

Com relação ao conceito de mobilidade e acessibilidade e à ABNT NBR 9050:2004, **NÃO** é correto afirmar:

- (A) Acessibilidade: Possibilidade e condição de alcance, percepção e entendimento para a utilização com segurança e autonomia de edificações, espaço, mobiliário, equipamento urbano e elementos.
- (B) As entradas e áreas de serviço ou de acesso restrito, tais como casas de máquinas, barriletes, passagem de uso técnico etc., também necessitam ser acessíveis.
- (C) As normas de acessibilidade, com relação às rampas, não impõem medidas específicas, mas definem limites mínimos e/ou máximos que servem como parâmetros de projetos.
- (D) Edificações e equipamentos urbanos que venham a ser reformados devem ser tornados acessíveis. Em reformas parciais, a parte reformada deve ser tornada acessível.
- (E) Recomenda-se que em quartos e sanitários de hotéis, instituições de idosos e hospitais sejam instalados telefones, campainhas e alarmes de emergência visuais, sonoros e vibratórios.

**QUESTÃO 32**

A gestão de qualidade na execução dos serviços de obras se mostra essencial, na medida em que exerce forte impacto sobre os custos, a produtividade e a qualidade do produto final. Neste sentido, **NÃO** é correto afirmar:

- (A) A definição das responsabilidades da equipe de gestão da obra com relação ao sistema da qualidade e sua implantação prática como quem treina, quem verifica, quem implementa ações corretivas e quem executa não é necessária, pois, dentro deste sistema, todos são responsáveis por todas as fases do processo.
- (B) Devemos buscar a padronização dos procedimentos de execução e inspeção dos serviços de obras, de modo a documentar a tecnologia construtiva da empresa e possibilitar sua repetição na execução e no padrão de qualidade das obras.
- (C) Devemos buscar fazer a retroalimentação do sistema, permitindo a correção de falhas na execução dos serviços e a adoção de novas tecnologias de processos construtivos.
- (D) É necessário fazer periodicamente um treinamento de equipes e operários responsáveis pela condução dos serviços.
- (E) Os profissionais de Arquitetura e Urbanismo têm uma função muito importante dentro da cadeia produtiva da construção civil. Isto porque ele é um profissional que pode participar de todas as etapas de uma obra, desde a sua fase de concepção arquitetônica até o acompanhamento da obra.

### QUESTÃO 33

O *brise-soleil* (uma expressão francesa cuja tradução literal seria quebra-sol, embora seja comum a utilização apenas da palavra *brise* em português) é um dispositivo arquitetônico utilizado para impedir a incidência direta de radiação solar nos interiores de um edifício, de forma a evitar aí a manifestação de um calor excessivo. Considerando uma edificação construída em Belo Horizonte, é **CORRETO** afirmar:

- (A) Os *brise* horizontais são indicados para diminuir a incidência solar nas aberturas orientadas para o Norte.
- (B) Os *brise* horizontais são indicados para diminuir a incidência solar nas aberturas orientadas para Oeste com maior eficiência.
- (C) Os *brise* horizontais são indicados para diminuir a incidência solar nas aberturas orientadas para Leste com maior eficiência.
- (D) Os *brise* verticais são indicados para diminuir a incidência solar nas aberturas orientadas para o Norte.
- (E) Os *brise* verticais são indicados para diminuir a incidência solar nas aberturas orientadas para o Sul.

**QUESTÃO 34**

A acústica estuda os fenômenos do som e sua interação com nossos sentidos para minimizar as condições desfavoráveis, como ruídos, buscando eliminar/reduzir ao máximo os ruídos que podem comprometer a audição; controlar os sons, evitando interferências excessivas garantindo entendimento perfeito entre ouvinte e locutor. Com relação às características do som e dos materiais acústicos, **NÃO** é correto afirmar:

- (A) A reflexão do som ocorre quando uma onda sonora se propaga e encontra um obstáculo, incide sobre uma barreira e retorna para o meio no qual estava se propagando.
- (B) Difração é a mudança sofrida na direção de uma onda sonora, devido ao seu encontro com um obstáculo, contornando-o.
- (C) O tempo de reverberação de um recinto é o intervalo que os sons emitidos no seu interior permanecem no ambiente, incomodando o nosso aparelho auditivo devido às múltiplas reflexões que aí ocorrem.
- (D) Quanto maior o volume do ambiente, menor será o tempo de reverberação no seu interior.
- (E) Quanto mais leve e mais poroso o material, mais absorvente e menos isolante ele é. Quanto mais denso, compacto e rígido, mais isolante e menos absorvente o material é.

**QUESTÃO 35**

O tipo de sistema construtivo utilizado na edificação da imagem abaixo, considerando os elementos mostrados na foto é:



- (A) Estrutura de alvenaria e paredes de vedação em alvenaria de blocos de concreto.
- (B) Estrutura de concreto armado e alvenaria estrutural e vedações em gesso.
- (C) Estrutura de concreto armado e paredes de vedação em tijolos cerâmicos.
- (D) Estrutura metálica e paredes de vedação em alvenaria de tijolos cerâmicos revestidos.
- (E) Estrutura metálica e paredes em bloco de concreto aparente e bloco de concreto celular autoclavado aparente.

**QUESTÃO 36**

Os termos “caixa sifonada”, “sprinkler” e “cabearamento estruturado” referem-se, **respectivamente**, a projetos de instalações

- (A) de combate a incêndio, cabearamento de rede e estrutura metálica.
- (B) elétricas, combate a incêndio e ar-condicionado.
- (C) hidrossanitários, ar-condicionado e telefonia.
- (D) hidrossanitárias, combate a incêndio e instalações elétricas.
- (E) hidrossanitárias, combate a incêndio e telefonia.

**QUESTÃO 37**

Segundo a Lei n. 9.959, de 20 de julho de 2010, Outorga Onerosa do Direito de Construir – ODC é:

- (A) O conjunto de intervenções e medidas coordenadas pelo Poder Executivo Municipal, com a participação de agentes públicos ou privados, com o objetivo de viabilizar projetos urbanos de interesse público, podendo ocorrer em qualquer área do Município.
- (B) O direito de construir acima do Coeficiente de Aproveitamento Básico adotado, mediante contrapartida a ser prestada pelo beneficiário.
- (C) O direito de construir até o limite do Coeficiente de Aproveitamento Básico adotado, mediante contrapartida a ser prestada pelo beneficiário.
- (D) O instrumento pelo qual o Poder Público Municipal autoriza o proprietário de imóvel urbano a alienar ou a exercer em outro local, mediante escritura pública, o direito de construir previsto na Lei de Parcelamento, Ocupação e Uso do Solo relativo ao Coeficiente de Aproveitamento Básico – Cab.
- (E) Também conhecida como Unidade do Direito de Construir que pode ser comercializada livremente no mercado imobiliário.

**QUESTÃO 38**

Em paisagismo, há vários procedimentos e ferramentas que podem auxiliar na elaboração dos projetos, na avaliação das proporções e na definição das hierarquias dos espaços. Para isso, é preciso entender o que significa o *aqui* e o *ali*, o *próximo* e o *pouco distante*, e os demais planos. Assim, as estratégias listadas abaixo estão corretas, **EXCETO**:

- (A) A qualidade de um projeto de paisagismo passa pelo atendimento a três requisitos: o ambiental, o funcional e o estético.
- (B) Barreiras abaixo da linha visual do observador, na forma de maciços de arbustos baixos, funcionam bem para demarcar o *aqui* sem esconder o *ali*, onde a paisagem continua.
- (C) Colunatas de palmeiras ou qualquer conjunto de caules retos e perfilados criam uma marcação entre o aqui e o ali, mantendo transparência e ligação visual entre eles.
- (D) Renques de árvores de copas horizontais próximas compõem tetos e desenham sombras que marcam bem o lugar, o *aqui*, em contraste com o *ali* ensolarado e a paisagem distante.
- (E) Renques de árvores verticais desenham altos muros verdes que são barreiras entre o *aqui* e o *ali* mais distante.

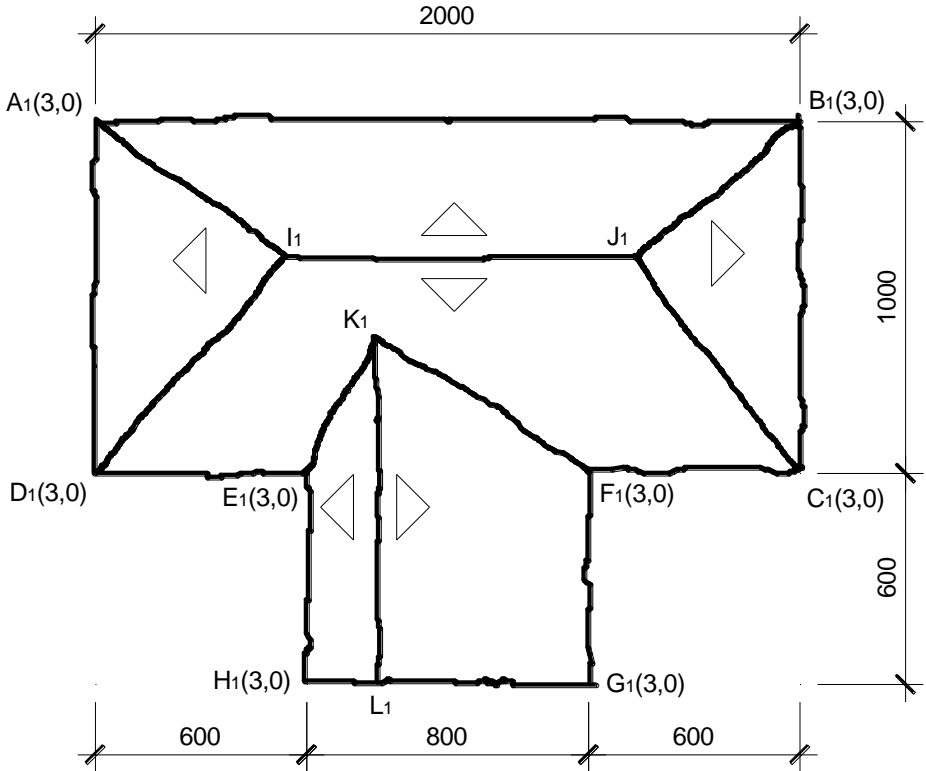
**QUESTÃO 39**

No desenho de um bosque, podem ser empregados grupos homogêneos ou heterogêneos de árvores, os quais possuem vantagens e desvantagens. Avaliando as observações a seguir, podemos afirmar que todas as afirmativas são desvantagens para os grupos homogêneos, **EXCETO**:

- (A) aspecto da paisagem quando o conjunto possui espécies de magnífica floração.
- (B) atração à fauna diversificada de pássaros, pequenos animais e borboletas.
- (C) em regiões quentes, conjuntos com espécies de folhagem decídua.
- (D) um projeto paisagista deve ser minimamente invasivo à natureza, e visa criar uma estética homogênea e equilibrada, que considere componentes importantes da paisagem urbana, como áreas construídas, a vegetação, a presença de espaços livres e a circulação de pessoas.
- (E) vulnerabilidade a pragas ou doenças características das espécies.



**INSTRUÇÃO:** Para responder às questões **40** e **41**, considere o diagrama de telhado mostrado no esboço abaixo, em projeção horizontal, no qual estão representadas as projeções cotadas.



Sabe-se que:

- os planos de cada água desse telhado têm declividades diferentes:
  - **ABJI** = 100%
  - **BCJ** = 80%
  - **CDIJ** = 63%
  - **ADI** = 71%
  - **EHLK** = 125%
  - **FGLK** = 40%

- os beirais das águas são as retas horizontais **AB**, **BC**, **CF**, **FG**, **HE**, **ED** e **DA** de cota 3,0 m.
- medidas horizontais em centímetros; níveis em metros.

**QUESTÃO 40**

Baseado no desenho, o comprimento e o nível (cota) da cumeeira **IJ** valem, **respectivamente**:

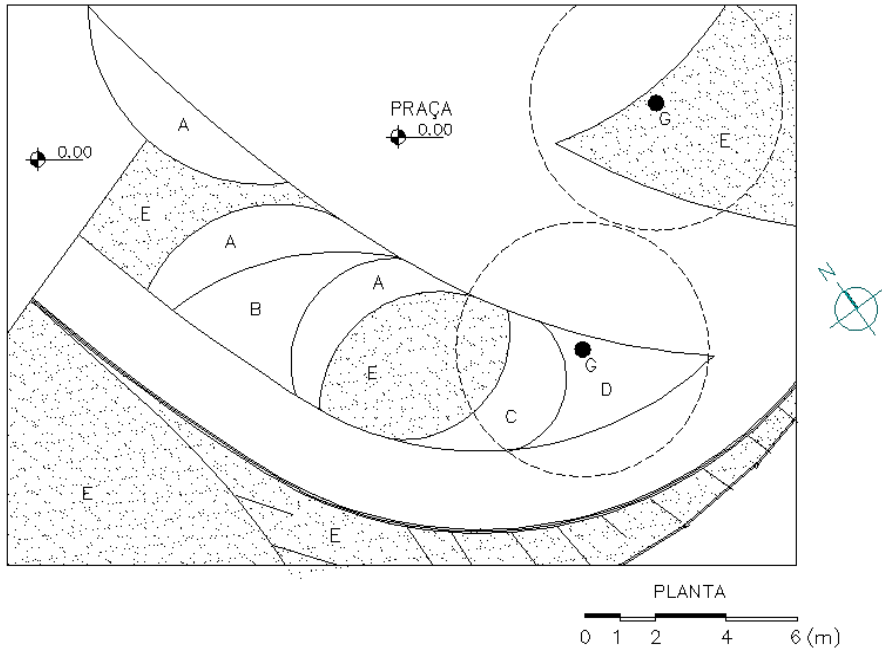
- (A) 7,85 m e 10,81 m
- (B) 9,81 m e 6,85 m
- (C) 9,81 m e 7,85 m
- (D) 10,81 m e 6,85 m
- (E) 10,81 m e 7,85 m

**QUESTÃO 41**

Baseado no desenho, o comprimento e o nível (cota) da cumeeira **KL** valem, **respectivamente**:

- (A) 4,42 m e 10,88 m
- (B) 9,88 m e 4,42 m
- (C) 9,88 m e 5,42 m
- (D) 10,88 m e 4,42 m
- (E) 10,88 m e 5,42 m

**INSTRUÇÃO:** As questões 42 e 43 referem-se ao trecho de um projeto de paisagem representado no desenho abaixo:



### QUESTÃO 42

A espécie indicada pela letra “B”, trata-se de uma espécie própria para forração de domínio de projeção de 20 cm de diâmetro. Pergunta-se: quantas mudas devem ser plantadas, sabendo-se que a área destinada a ela possui  $9 \text{ m}^2$ ?

- (A) 45 mudas.
- (B) 90 mudas.
- (C) 144 mudas.
- (D) 175 mudas.
- (E) 225 mudas.

**QUESTÃO 43**

Dentre as espécies arbóreas enumeradas abaixo, qual apresenta características **adequadas** para ser utilizada na indicação com a letra “G”?

- (A) *Arachis repens* – Grama Amendoim.
- (B) *Lecythis pisonis* – Sapucaia.
- (C) *Salix babylonica* – Chorão.
- (D) *Spathodea campanulata* – Xixi-de-gato.
- (E) *Tibouchina granulosa* – Quaresmeira.

**QUESTÃO 44**

Com relação ao conceito de mobilidade e acessibilidade e à ABNT NBR 9050, **NÃO** é correto afirmar:

- (A) A sinalização tátil de alerta deve ser instalada no sentido de deslocamento junto a desníveis onde houver risco de queda.
- (B) A sinalização tátil direcional deve ser instalada no sentido do deslocamento em áreas de circulação, indicando a direção a ser seguida em espaços amplos externos ou internos, ou quando houver caminhos preferenciais de deslocamento.
- (C) As esquinas são, normalmente, pontos de grande concentração de pedestres, e devem se caracterizar como áreas desobstruídas de barreiras, de modo a facilitar o deslocamento e a permanência de pessoas, bem como facilitar a visibilidade tanto dos motoristas quanto dos pedestres.
- (D) Os patamares situados em mudanças de direção devem ter dimensões iguais à largura da rampa, com o mínimo de 120 cm.
- (E) Os pisos devem apresentar superfície regular, contínua, sem ressalto ou depressão, firme, estável e antiderrapante.

**QUESTÃO 45**

Leia atentamente os conceitos e indicadores de sustentabilidade abaixo:

1. Desenvolvimento sustentável implica em um desenvolvimento econômico progressivo e equilibrado, em que se prevê a igualdade social e a sustentabilidade ambiental.
2. É necessário buscar o aproveitamento dos recursos naturais, a conservação de energia e a reciclagem de materiais.
3. A sustentabilidade abrange vários níveis de organização, desde a vizinhança local até o planeta inteiro.

Está **CORRETO** o que se afirma em:

- (A) 1, apenas.
- (B) 1 e 2, apenas.
- (C) 1 e 3, apenas.
- (D) 2 e 3, apenas.
- (E) 1, 2, e 3.

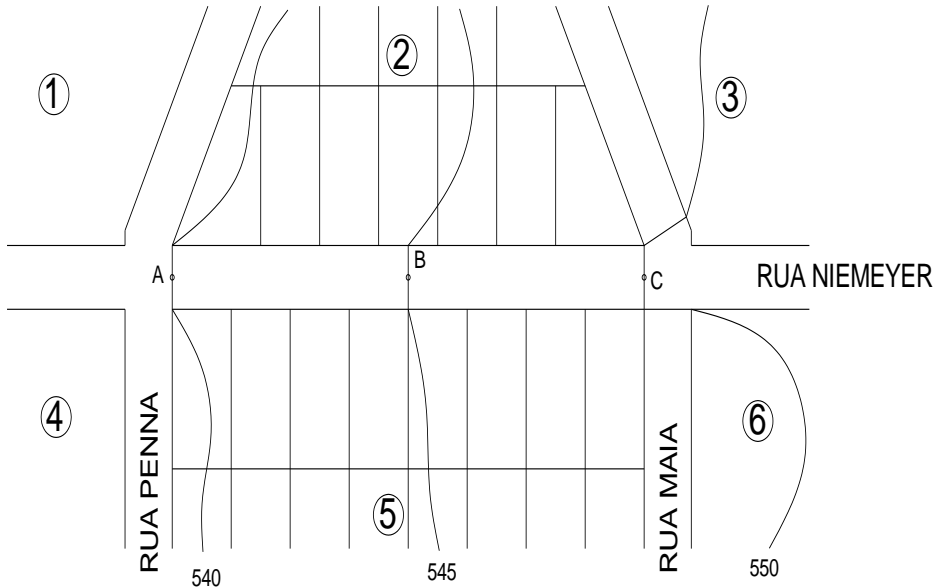
**QUESTÃO 46**

O sistema de alvenaria estrutural permite a racionalização da obra. São limitações deste tipo de estrutura, **EXCETO**:

- (A) Balanços excessivos (irão requerer muita armadura para combater esforços de flexão).
- (B) Impossibilidade de eliminação de paredes (não há possibilidade de remoção, a não ser que esta seja prevista rigorosamente no projeto).
- (C) Índices baixos de esbeltez do edifício (requerem muita armadura, o que torna a aplicação do sistema antieconômica).
- (D) Tamanho dos vãos (grandes vãos geram um aumento da carga nas paredes, necessitando de blocos de resistência muito elevada).
- (E) Um sistema de alvenaria estrutural engessa o projeto arquitetônico, dificultando muito a flexibilidade de interação dos vários espaços em uma edificação.

**QUESTÃO 47**

No desenho abaixo, está representado um sítio urbano com algumas quadras e suas respectivas ruas limítrofes.

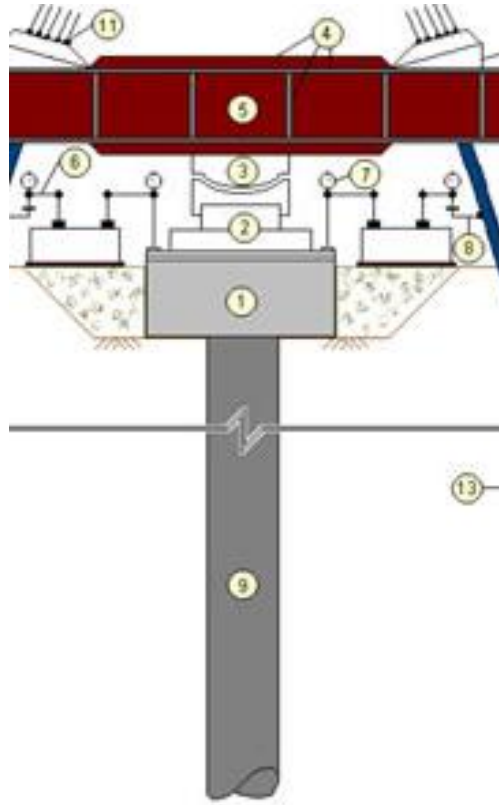


Considerando que cada lote da Quadra 5 mede 15 m x 30 m, qual é a declividade da Rua Niemeyer, entre os pontos A e C?

- (A) 0,04%.
- (B) 0,08%.
- (C) 4,16%.
- (D) 8,33%.
- (E) 12,00%.

**QUESTÃO 48**

O esquema abaixo identifica, em corte, uma solução estrutural e representa:

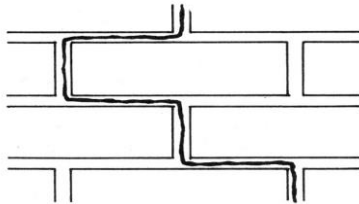


- (A) Estrutura de um pavimento de cobertura.
- (B) Estrutura de um pavimento térreo, considerando pilares e vigas.
- (C) Estrutura de um telhado.
- (D) Estrutura de uma caixa d'água.
- (E) Fundação.

**QUESTÃO 49**

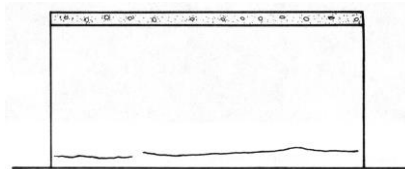
Com relação às fissuras e suas várias causas de formação nos edifícios, considerando alguns desenhos a as afirmações abaixo, **NÃO** é correto afirmar:

(A)



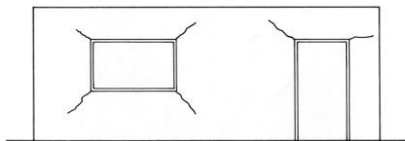
Trinca vertical: a resistência à tração dos componentes de alvenaria é igual ou inferior à resistência à tração da argamassa.

(B)



Trinca horizontal na base da alvenaria por efeito da umidade do solo.

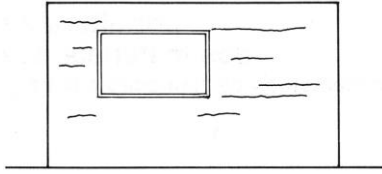
(C)



Fissuração típica nos cantos das aberturas, sob ação de sobrecargas.



(D)



Fissuras horizontais no revestimento provocadas pela expansão da argamassa de assentamento.

(E) Uma trinca não chega a abrir frestas nas paredes, mas elas também podem atingir a parte estrutural, como pilares, vigas e lajes. Sua espessura pode variar entre 1 mm a 3 mm,

### QUESTÃO 50

“A partir de experimentos e reflexões que se desenvolveram ao longo de séculos, hoje temos conceitos definidos sobre como e o que preservar, conservar e restaurar. Tomando como princípio o respeito à forma original a diversidade das manifestações culturais. As ideias evoluem e a definições são abrangentes.” Neste sentido, é incorreto afirmar:

- (A) A conservação-restauro deve ser definida como qualquer intervenção direta ou indireta efetuada em um objeto ou monumento, para salvaguardar sua integridade física e garantir o respeito por seu significado cultural, histórico, estético e artístico.
- (B) A documentação compõe-se de imagens e texto que retratem o historial de todos os processos efetuados e a exposição do raciocínio que terá estado por trás deles.
- (C) Conservar um edifício, do ponto de vista histórico, é uma forma de garantir o testemunho e o referencial de seus valores, de sua representatividade técnica e social. A conservação do componente material do patrimônio requer uma série de habilidades e conhecimentos que permitam conhecer e então se evitar os riscos de seu desaparecimento.

- (D) Entende-se por patrimônio cultural todo aquele que, sendo objeto, construção ou ambiente, a sociedade atribua um valor especial, estético, artístico, documental, ecológico, histórico, científico, social ou espiritual e constitua um patrimônio cultural essencial a transmitir às gerações futuras.
- (E) O diagnóstico consiste na realização de intervenções indiretas visando ao retardamento da degradação e impedindo desgastes pela criação de condições otimizadas para a conservação dos bens culturais de forma que essas medidas sejam compatíveis com sua utilização social.

### QUESTÃO 51

São características da construção industrializada, **EXCETO**:

- (A) A definição pela estrutura pré-fabricada de uma construção é dada na fase do projeto executivo e detalhamento construtivo.
- (B) O sistema de montagem de uma obra pré-fabricada agiliza muito a obra, otimizando o tempo de execução e, conseqüentemente, seu custo, apesar de necessitar de uma mão de obra mais especializada.
- (C) Quanto maior o número de repetição dos elementos estruturais no projeto, menor o custo da obra.
- (D) Um fator que limita as dimensões dos elementos estruturais de uma obra pré-fabricada é o transporte das peças.
- (E) Uma construção industrializada é mais rápida, limpa e com margens de desperdícios pequenas se comparada com o sistema convencional. Esses são importantes dados para uma análise do custo final da obra. Em compensação, necessita de mão de obra especializada.

**QUESTÃO 52**

Uma casa com 257,00 m<sup>2</sup> de área construída está implantada em um terreno urbano de geometria regular, com dimensões de 15 m na testada e 30 m de profundidade. A legislação urbana permite no local um coeficiente de aproveitamento igual a 1,2.

Considerando isso, em uma eventual reforma, o acréscimo de área, segundo a lei, **NÃO** poderá ultrapassar os:

- (A) 193,00 m<sup>2</sup>
- (B) 257,00 m<sup>2</sup>
- (C) 283,00 m<sup>2</sup>
- (D) 485,00 m<sup>2</sup>
- (E) 540,00 m<sup>2</sup>

**LEIA O TEXTO ABAIXO, COM ATENÇÃO, ANTES DE RESPONDER ÀS QUESTÕES 53 E 54.**

*“Nas quadras em que a maioria dos imóveis ainda mantinha suas características originais, o critério utilizado foi de proteger o conjunto, através de suas fachadas e telhados [...]. Na eventualidade de já existirem imóveis totalmente descaracterizados ou lotes vazios [...] seriam permitidas novas construções desde que sua altura não ultrapassasse a média existente (10,5 m) e que seu projeto se integrasse ao conjunto edificado. [...] alguns imóveis [...] já estavam em processo de descaracterização, mas ainda apresentavam elementos que permitiam sua recomposição. Nesses casos, eles seriam obrigados a manter as características originais da edificação, adotando, entretanto, uma linguagem contemporânea nos elementos recuperados [...].”*

[PINHEIRO, A. I. de Freitas. In: Anais do II SEDUR, 1986]

**QUESTÃO 53**

O texto acima se refere a um instrumento de:

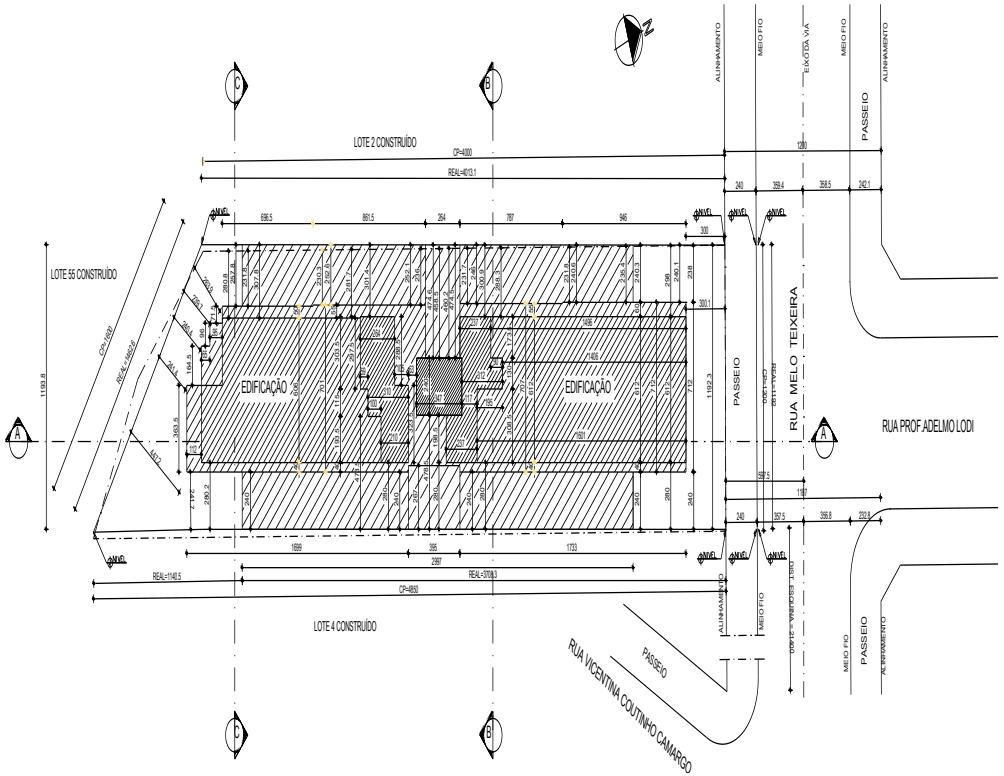
- (A) Preservação de patrimônio construído.
- (B) Reciclagem de espaços urbanos residenciais.
- (C) Retrofit de uma edificação.
- (D) Revitalização de conjunto arquitetônico.
- (E) Tombamento de edifício de interesse social.

**QUESTÃO 54**

Em vista do texto acima, é **CORRETO** afirmar que as novas edificações:

- (A) Devem, além de respeitar um gabarito de altura máximo, seguir estritamente o mesmo padrão estilístico das edificações existentes.
- (B) Fica obrigatório o uso de uma metodologia construtiva padrão sem a possibilidade de renovação do modelo construtivo.
- (C) Não são permitidas e recomenda-se que os lotes vagos sejam utilizados como áreas de uso público.
- (D) Não tem nenhum tipo de restrição, seja no que diz respeito à altura, seja no que diz respeito ao padrão estilístico.
- (E) Podem utilizar linguagem arquitetônica atual, desde que seja respeitado um gabarito de altura máxima.

**INSTRUÇÃO:** Observe atentamente o desenho abaixo, antes de responder às questões **55** e **56**.



### QUESTÃO 55

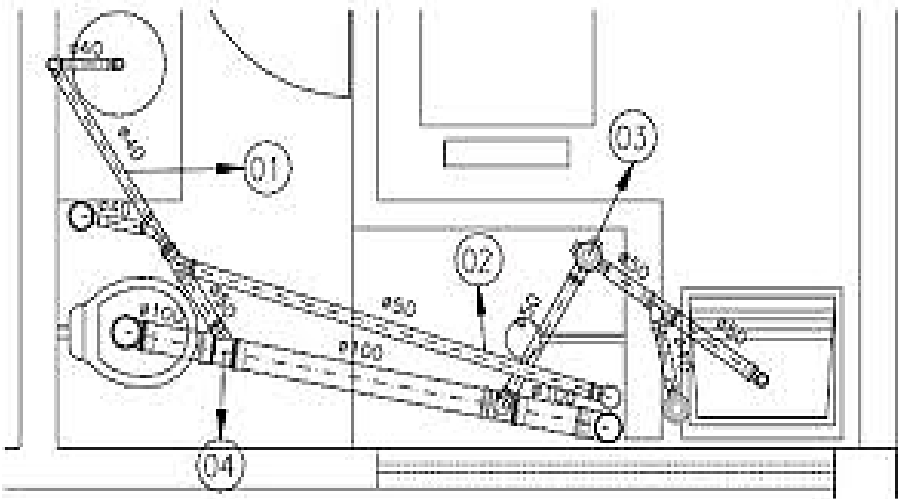
O desenho acima representa uma Planta de:

- (A) Diagrama de Cobertura.
- (B) Implantação.
- (C) Pavimento Térreo.
- (D) Situação.
- (E) Subsolo.

**QUESTÃO 56**

No âmbito do Projeto Arquitetônico, a função do desenho acima é indicar

- (A) a configuração do terreno e da quadra, os níveis dos planos de corte do terreno e a situação da edificação dentro do lote em relação ao lote e à quadra.
- (B) a definição da metodologia e logística construtiva.
- (C) a localização e as dimensões exatas da projeção da edificação em relação ao lote, bem como a localização deste em relação à quadra e à esquina mais próxima.
- (D) a declividade, o sentido de escoamento das águas pluviais e a especificação da cobertura da edificação, situando-os em relação ao lote e à quadra.
- (E) a orientação solar do lote e da edificação, bem como a configuração geométrica da quadra e do sistema viário de sua vizinhança.

**QUESTÃO 57**

O desenho acima se refere a um projeto de instalações:

- (A) de cabeamento estruturado.
- (B) de Drenagem Pluvial.
- (C) de Rede Elétrica.
- (D) de Rede Telefônica.
- (E) hidráulico-sanitárias.

### QUESTÃO 58

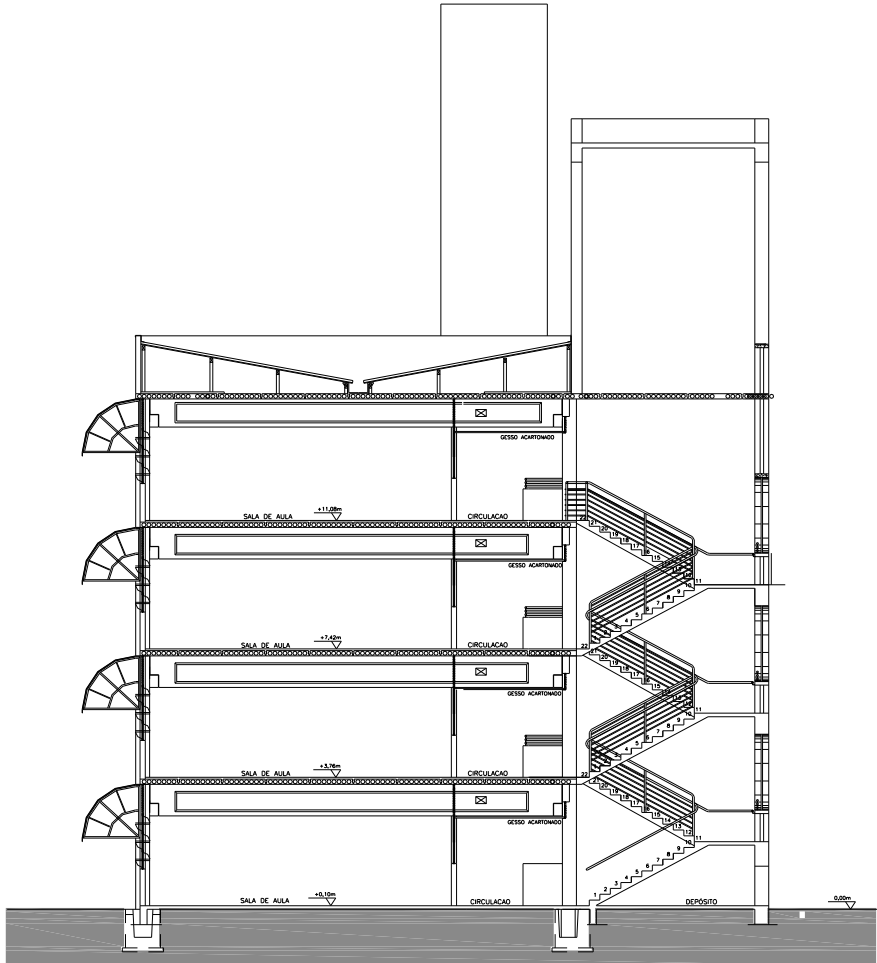
Para que a escolha do tipo de fundação de uma estrutura seja adequada às questões geotécnicas, alguns elementos devem ser considerados, como a natureza e características do subsolo envolvido, a grandeza e disposição das cargas a serem transmitidas e o conhecimento dos variados tipos de fundações, inclusive suas restrições técnicas de cada tipo.

Todas as afirmativas estão corretas a respeito do assunto, **EXCETO**:

- (A) As fundações profundas são empregadas quando o solo somente apresenta capacidade de carga em profundidade, para receber o carregamento advindo da obra. As estacas tipo “Strauss” e “Franki” são um exemplo deste tipo de fundação.
- (B) As fundações rasas, como as sapatas isoladas, os tubulões e os blocos de fundação, são empregadas quando o solo já possui capacidade de suporte para receber o carregamento da obra em suas camadas superficiais.
- (C) As placas de fundação, também conhecidas como “Radier”, são um exemplo de fundação rasa que reúne em um só elemento a transmissão das cargas de um conjunto de pilares ao solo.
- (D) O relatório de sondagem do solo é o suficiente para se definir o tipo de sondagem a ser executada para a edificação.
- (E) Solos, cuja análise granulométrica apresenta uma grande quantidade de argilas, são os mais indicados a receberem as fundações profundas.

**QUESTÃO 59**

A partir do desenho do corte de uma edificação abaixo, é possível constatar que a solução adotada para a cobertura cortada é:



BLOCO 04 - CORTE BB

ESC. 1:75



- (A) Laje plana impermeabilizada ocultada por platibanda em toda a extensão do prédio.
- (B) Parte em telha ondulada, parte em laje plana impermeabilizada, ambas ocultadas por platibanda.
- (C) Telha cerâmica tipo colonial com beiral.
- (D) Telha cerâmica tipo francesa ocultada por platibanda, em toda extensão do prédio.
- (E) Telha ondulada ocultada por platibanda em toda a extensão do prédio.

**QUESTÃO 60**

Antes de responder à pergunta, **esboce**, na página seguinte, o diagrama de um depósito ortogonal, de acordo com as seguintes condições:

- a área do depósito deve ser igual a  $6,0 \text{ m}^2$ , sendo que uma de suas dimensões deve ser necessariamente igual a  $2,4 \text{ m}$ ;
- o pé-direito deve ser igual a  $3,0 \text{ m}$ ;
- a única abertura existente neste cômodo é um vão de  $100 \text{ cm} \times 210 \text{ cm}$ , para acesso;
- todas as paredes devem ser azulejadas até a altura do vão e rebocadas até o teto.

As áreas internas de emboçamento, acabamento em azulejo e acabamento em reboco desse depósito são, **respectivamente**:

- (A)  $25,70 \text{ m}^2$ ;  $15,23 \text{ m}^2$  e  $9,05 \text{ m}^2$
- (B)  $27,30 \text{ m}^2$ ;  $18,48 \text{ m}^2$  e  $8,82 \text{ m}^2$
- (C)  $27,30 \text{ m}^2$ ;  $20,58 \text{ m}^2$  e  $8,82 \text{ m}^2$
- (D)  $29,40 \text{ m}^2$ ;  $18,48 \text{ m}^2$  e  $7,92 \text{ m}^2$
- (E)  $29,40 \text{ m}^2$ ;  $20,58 \text{ m}^2$  e  $7,92 \text{ m}^2$

**[Espaço para esboço do diagrama]**

**PROVA DISCURSIVA - REDAÇÃO****Texto 1**

“Sempre fui um defensor do politicamente correto. Algumas mudanças na ética verbal, porém, me parecem contraproducentes.

Em certo momento dos anos 90, "favela" virou "comunidade". "Favelado" era um termo pejorativo e é compreensível que os moradores destas áreas não quisessem ser chamados assim, mas mudar para "morador de comunidade", embora amacie na semântica, não leva água encanada, esgoto e luz para ninguém. Pelo contrário.”

**Texto 2**

Disponível em: <https://cantinholiterariososriosdobrasil.wordpress.com/2015/07/13/politicamente-correto-armandinho-tirinha-de-alexandre-beck/>

Acesso em: 23 set. 2022.

Após a leitura dos textos e refletindo sobre o tema em questão, escreva um texto **dissertativo-argumentativo** em que você se posicione sobre o uso de determinadas palavras politicamente corretas em nossa língua.

Para isso, analise o texto 1 e relacione-o às ideias expostas no texto 2.

**Não copie fragmentos dos textos.**

**Seu texto deve ter de 20 a 30 linhas.**

**Dê um título ao seu texto.**

## RASCUNHO DA REDAÇÃO

01
02
03
04
05
06
07
08
09
10
11
12
13
14
15

16
17
18
19
20
21
22
23
24
25
26
27
28
29
30



**CONCURSO PÚBLICO PARA O PROVIMENTO DE CARGOS  
DO QUADRO PERMANENTE DE PESSOAL**

**EDITAL 01/2022**

**PARA VOCÊ DESTACAR E CONFERIR O SEU GABARITO.**

01	
02	
03	
04	
05	
06	
07	
08	
09	
10	
11	
12	

13	
14	
15	
16	
17	
18	
19	
20	
21	
22	
23	
24	

25	
26	
27	
28	
29	
30	
31	
32	
33	
34	
35	
36	

37	
38	
39	
40	
41	
42	
43	
44	
45	
46	
47	
48	

49	
50	
51	
52	
53	
54	
55	
56	
57	
58	
59	
60	

**ATENÇÃO:  
AGUARDE AUTORIZAÇÃO PARA  
VIRAR O CADERNO DE PROVAS.**

