



**PREFEITURA MUNICIPAL DA
ESTÂNCIA BALNEÁRIA DE ILHABELA**

ESTADO DE SÃO PAULO

CONCURSO PÚBLICO

005. PROVA OBJETIVA

TÉCNICO EM LOGÍSTICA

- ◆ Você recebeu sua folha de respostas e este caderno contendo 50 questões objetivas.
- ◆ Confira seus dados impressos na capa deste caderno e na folha de respostas.
- ◆ Quando for permitido abrir o caderno, verifique se está completo ou se apresenta imperfeições. Caso haja algum problema, informe ao fiscal da sala.
- ◆ Leia cuidadosamente todas as questões e escolha a resposta que você considera correta.
- ◆ Marque, na folha de respostas, com caneta de tinta preta, a letra correspondente à alternativa que você escolheu.
- ◆ A duração da prova é de 3 horas, já incluído o tempo para o preenchimento da folha de respostas.
- ◆ Só será permitida a saída definitiva da sala e do prédio após transcorrida 1 hora do início da prova.
- ◆ Deverão permanecer em cada uma das salas de prova os 3 últimos candidatos, até que o último deles entregue sua prova, assinando termo respectivo.
- ◆ Ao sair, você entregará ao fiscal a folha de respostas e este caderno, podendo levar apenas o rascunho de gabarito, localizado em sua carteira, para futura conferência.
- ◆ Até que você saia do prédio, todas as proibições e orientações continuam válidas.

AGUARDE A ORDEM DO FISCAL PARA ABRIR ESTE CADERNO DE QUESTÕES.

Nome do candidato _____

RG _____

Inscrição _____


Prédio _____

Sala _____

Carteira _____

LÍNGUA PORTUGUESA

Observe o quadro de Benedito Calixto e leia o texto para responder à questão de número 01.



O artista descreve minuciosamente a época de cheia da Várzea do Carmo, em 1892, indicando o cotidiano do rio na cidade de São Paulo. O formato panorâmico evidencia a amplitude da cidade, demonstrando detalhes de seu horizonte paisagístico. Calixto faz com que o rio, um motivo cotidiano, frequentemente representado em pequenos suportes, aqui adquira a importância de personagem histórico em diálogo com a cidade.

(OLIVEIRA, Helder Manuel Silva. In: *Castagneto e o contexto artístico paulista do século XIX*. (institutopoimenica.com/ acesso em 15.02.20)

01. Considerando o quadro e o texto, conclui-se que o pintor retrata o rio como um
- (A) simples acessório com pouca importância na paisagem urbana.
 - (B) elemento que reflete a estagnação do progresso da cidade.
 - (C) objeto figurativo de pouca relevância na amplitude do quadro.
 - (D) detalhe decorativo, deslocado no conjunto de figuras da paisagem.
 - (E) componente representativo das características da cidade.

Leia o texto para responder às questões de números 02 a 14.

São Paulo revive mesmas enchentes há 91 anos

Em uma de suas principais obras, Benedito Calixto retratou, em 1892, a inundaç o da  rea do atual Mercado, no centro de S o Paulo. A regi o foi atingida tamb m em 1929, numa das primeiras grandes enchentes da capital e submergiu novamente, quase 130 anos depois do quadro hist rico.

Urbanistas afirmam que uma das principais explica es para as repetidas inunda es foi a decis o de expandir a cidade para as  reas pr ximas  s v rzeas dos rios Tiet  e Tamanduat , a partir de meados de 1890. O quadro de Benedito Calixto capta o in cio dessa expans o da cidade. A cheia hist rica de 1929 tamb m foi registrada em uma s rie de fotografias que viraram sin nimo das inunda es paulistanas, por ter deixado a cidade debaixo da  gua por sete dias.

H  suspeita de que os efeitos da forte chuva que atingiu S o Paulo naquele fevereiro de 1929 tenham sido potencializados por a es da ent o onipresente Light. O acordo com o poder p blico previa que a Light poderia desapropriar  reas atingidas por enchentes naquele ano.

Pesquisa da professora da USP Odette Seabra indica que a Light abriu suas represas para aumentar a  rea inundada pelos rios Pinheiros, Tiet  e Tamanduat . Essas  reas inundadas passaram para as m os da Light, que depois as comercializou.

Os fatos recentes mostram que a hist ria se repete: 63% dos alagamentos neste ano de 2020 est o na mesma regi o atingida pela cheia de 1929, que corresponde   da subprefeitura da S . Mas desta vez, os locais inundados n o se restringem    rea do Mercado.  reas das subprefeituras da Lapa e de Pinheiros tamb m foram atingidas.

As obras e interven es para conter as cheias dos rios nessas  reas n o foram suficientes. Um outro agravante   que o solo da cidade tem ficado cada vez mais imperme vel, com aumento das  reas constru das e ocupadas.

(Folha de S. Paulo.15.02.2020. Adaptado)

02. De acordo com o texto, pode-se afirmar que as inunda es na cidade de S o Paulo
- (A) s o problemas recentes, sem rela o com as decis es do poder p blico.
 - (B) ocorrem no atual momento em fun o de fen menos da natureza.
 - (C) s o fatos recorrentes, relacionados ao crescimento da cidade.
 - (D) decorrem do desencontro entre os urbanistas e o poder p blico.
 - (E) acontecem, ainda que as autoridades se esforcem para evit -las.

03. A pesquisa de Odette Seabra permite concluir que a Light
- (A) procurou amenizar as consequências de enchentes.
 - (B) cumpriu determinação da administração pública.
 - (C) preveniu as autoridades quanto a possíveis inundações.
 - (D) agiu de forma a favorecer a ocorrência de inundações.
 - (E) abdicou do direito de posse das áreas inundadas.
04. Lendo-se o texto, conclui-se que urbanistas e pesquisadores
- (A) apontam as questões que podem desencadear os alagamentos na cidade.
 - (B) atribuem aos fenômenos da natureza a causa histórica das enchentes.
 - (C) provam que o poder público esgotou todas as estratégias para conter as enchentes.
 - (D) afirmam que os alagamentos não têm relação com a expansão e o progresso da cidade.
 - (E) defendem a contribuição das empresas para estancar os alagamentos na cidade.
05. Assinale a afirmação correta, de acordo com o texto.
- (A) A pesquisa de Odette Seabra procura minimizar o procedimento adotado pela Light.
 - (B) Ao longo dos anos, o poder público tem aprimorado as ações contra enchentes na cidade.
 - (C) É improcedente afirmar que os alagamentos possam decorrer da impermeabilização do solo.
 - (D) As subprefeituras da Lapa e de Pinheiros atestam os maiores índices de alagamento deste ano.
 - (E) A obra de Benedito Calixto é um prenúncio dos alagamentos futuros na cidade de São Paulo.
06. Assinale a alternativa em que todas as expressões podem ser associadas às causas das enchentes.
- (A) Abertura de represas e pesquisa de Odette Seabra.
 - (B) Impermeabilização do solo e expansão da cidade.
 - (C) Aumento de áreas próximas às várzeas e excesso de zelo do poder público.
 - (D) Comercialização das várzeas pela Light e cuidado do cidadão para com a cidade.
 - (E) Explicação dos urbanistas e fortes chuvas de fevereiro.
07. Assinale a alternativa que substitui, correta e respectivamente, sem alteração de sentido, os termos em destaque nas frases:
- As obras e intervenções para **conter** as cheias dos rios ...
- Os locais inundados não **se restringem** à área do Mercado.
- (A) frear e se limitam.
 - (B) represar e se equivalem.
 - (C) demarcar e se assemelham.
 - (D) comprimir e se justapõem.
 - (E) contornar e se comparam.
08. Assinale a alternativa que substitui o trecho em destaque, sem alteração de sentido.
- Conforme os urbanistas afirmam**, uma das explicações...
- (A) Todavia os urbanistas afirmam que uma das explicações...
 - (B) Segundo os urbanistas, uma das explicações...
 - (C) Assim os urbanistas afirmam que uma das explicações...
 - (D) Mas os urbanistas afirmam que uma das explicações...
 - (E) Também os urbanistas afirmam que uma das explicações...
09. O trecho em destaque da frase - **Há suspeita de que** os efeitos da chuva tenham sido potencializados por ações da Light. – está corretamente reescrito, de acordo com a norma-padrão da regência, em:
- (A) Supõe-se que...
 - (B) Insinua-se de que...
 - (C) Investiga-se em que...
 - (D) Desconfia-se em que...
 - (E) Duvida-se em que...

10. O verbo **há** na frase - São Paulo revive mesmas enchentes há 91 anos – está corretamente alterado, de acordo com a norma-padrão da concordância, em:

- (A) fazem.
- (B) devem fazer.
- (C) faz.
- (D) podem fazer.
- (E) farão.

11. Assinale a alternativa que completa corretamente, de acordo com a norma-padrão do uso da crase, a frase:

A repetição de locais inundados ...

- (A) estende-se as outras subprefeituras.
- (B) não se limita as zonas centrais.
- (C) alcança às áreas distantes do centro.
- (D) chega às regiões mais baixas.
- (E) afeta às populações carentes.

12. Assinale a alternativa em que a barra deve ser substituída por dois-pontos.

- (A) O Mercadão faz parte da subprefeitura mais alagada/ a da Sé.
- (B) Quando começa a chover forte/ os moradores ficam amedrontados.
- (C) Se o poder público não investir em saneamento/ os alagamentos continuarão.
- (D) Naquela época/ o alagamento afetava apenas as margens do Tamandateí.
- (E) Autor do quadro *Inundação da Várzea do Carmo*/ Benedito Calixto retratou a cidade de São Paulo.

13. Os verbos em destaque na frase - Com a pintura, Calixto **capta** o início da expansão da cidade e faz com que o rio **adquira** importância de personagem histórica. – estão, correta e respectivamente substituídos, de acordo com a conjugação verbal, por:

- (A) apreenda e possui.
- (B) anteveja e concentra.
- (C) vislumbra e assume.
- (D) desenha e ganha.
- (E) aponta e obtém.

14. Entre as orações da frase – Quanto mais impermeabilização do solo, mais enchentes haverá – observa-se ideia de

- (A) tempo.
- (B) causa.
- (C) condição.
- (D) finalidade.
- (E) proporção.

Leia o trecho para responder à questão de número 15.

Capitania investiga lançamento de óleo no mar em Ilhabela

De acordo com a Cetesb, o que pode ter ocorrido é o aparecimento de uma mancha órfã.

O termo é usado em referência ao aparecimento de faixas oleosas na água por meio do vazamento de embarcações.

(www.g1.globo.com/sp/vale-do-paraiba-regiao/noticia/2018/08/15/, acesso em 18.02.20)

15. A expressão **mancha órfã** – está empregada em sentido figurado. Assinale a alternativa em que se observa a mesma ocorrência.

- (A) Em beleza natural, Ilhabela, com suas praias maravilhosas, atrai turistas de todo o Brasil.
- (B) Em algum ponto dessa maravilha, existe um lugar perfeito para você curtir o mar!
- (C) Lá existem todos os tipos de praias, aquelas voltadas para o Canal de São Sebastião são mais urbanizadas.
- (D) Já as praias que têm a face para o mar aberto são mais desertas, e não há estrada asfaltada até elas.
- (E) O Centro Histórico é um ótimo ponto de descanso, já que tem um jardim com alguns bancos. Entre eles, antigos canhões relembram o lado histórico de Ilhabela.

16. Um lote com 5814 caixas de remédio precisa ser distribuído entre o hospital central e os postos de saúde de uma cidade. Do total de caixas, $\frac{5}{9}$ têm uma data de validade próxima e por isso foram imediatamente encaminhadas para os postos. Das caixas restantes, $\frac{8}{19}$ serão enviadas sob demanda e as demais enviadas para o hospital central. O número de caixas de remédios recebido pelo hospital central nesse primeiro momento foi
- (A) 1414.
(B) 1482.
(C) 1496.
(D) 1513.
(E) 1539.
17. Todos os 480 funcionários de uma repartição passarão por exame fonoaudiológico. Inicialmente, farão exame as mulheres com 50 anos ou mais, que correspondem a 15% do total de funcionários, depois farão exame os homens com 50 anos ou mais, que correspondem a 30% do total de homens. Finalmente farão exame os funcionários com menos de 50 anos, ou seja, 188 mulheres e
- (A) 150 homens.
(B) 154 homens.
(C) 158 homens.
(D) 162 homens.
(E) 166 homens.
18. Um grupo de 612 recenseadores serão divididos em duas equipes, rural e urbana, de maneira que a razão entre o número de recenseadores da equipe rural para o número de recenseadores da equipe urbana seja $\frac{7}{11}$. O número de recenseadores que estarão na equipe urbana é
- (A) 238.
(B) 360.
(C) 374.
(D) 442.
(E) 476.

19. Para pintar a sinalização em uma estrada, 5 funcionários, trabalhando 6 horas por dia durante 3 dias, pintam 36 km de estrada. Para pintar 92 km dessa estrada em 2 dias, o número de funcionários de igual eficiência, trabalhando 5 horas por dia, que serão necessários é
- (A) 20.
(B) 21.
(C) 22.
(D) 23.
(E) 24.
20. Uma empresa produz doces para 4 lojas e para a sua própria loja de fábrica. Do total de doces de um certo lote, $\frac{3}{10}$ foi para a loja da capital e cada uma das 3 lojas do interior recebeu $\frac{1}{8}$ dos doces desse lote. Se os restantes 260 doces foram comercializados na loja da fábrica, o total de doces enviados para a loja da capital foi
- (A) 240.
(B) 270.
(C) 300.
(D) 330.
(E) 360.
21. Em uma lanchonete, o preço de 3 salgados e 1 suco é R\$ 33,00, o preço de 4 doces e 2 sucos é R\$ 76,00 e o preço de 5 salgados e 3 doces é R\$ 74,00. Nessa lanchonete, o preço de um doce é
- (A) R\$ 9,00.
(B) R\$ 10,00.
(C) R\$ 11,00.
(D) R\$ 12,00.
(E) R\$ 13,00.
22. Felipe comprou todas as revistas de um amigo. Ele pagou o mesmo preço para cada revista, sendo que o preço unitário, em reais, correspondeu à soma do número de revistas compradas com 3. Se o total pago foi R\$ 550,00, o algarismo das unidades do número de revistas compradas é
- (A) 5.
(B) 4.
(C) 3.
(D) 2.
(E) 1.

23. Uma loja de camisas funciona todos os dias do ano e nos primeiros 9 dias de janeiro de 2020, a média dos números de camisas vendidas por dia foi igual a 29. Nos últimos 9 dias desse mês, foram vendidas, em média, 44 camisas por dia. Se no mês de janeiro de 2020 essa loja vendeu, em média, 32 camisas por dia e se do dia 10 de janeiro ao dia 21 de janeiro foram vendidas 25 camisas por dia, o número de camisas vendidas no dia 22 de janeiro foi
- (A) 35.
 (B) 40.
 (C) 45.
 (D) 55.
 (E) 60.

24. O perímetro de um pentágono ABCDE é igual a 254 cm, com o lado BC congruente ao lado AE e o lado CD congruente ao lado ED, conforme mostra a figura.

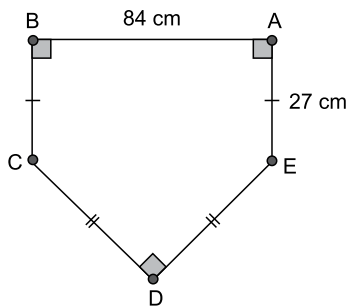



Figura fora de escala

A área do pentágono ABCDE, em cm^2 , é

- (A) 2 180.
 (B) 2 540.
 (C) 2 820.
 (D) 3 630.
 (E) 3 950.
25. Um recipiente tem seu interior na forma de paralelepípedo reto-retângulo. Uma das faces do interior desse recipiente é um quadrado de lado 6 cm e uma outra face tem perímetro igual a 34 cm. Se esse recipiente já contém 225 mL de água, a quantidade de água, em mL, que ainda é possível armazenar em seu interior é
- (A) 166.
 (B) 171.
 (C) 182.
 (D) 193.
 (E) 204.

NOÇÕES DE INFORMÁTICA

26. Com a pasta Pasta 2 selecionada, tem-se a Caixa de Pesquisa no Windows Explorer (Explorador de Arquivos), em um computador com Microsoft Windows 10, em sua configuração original.

Pesquisar Pasta 2 

Um usuário preencheu nessa caixa o conteúdo *uniao.* e pressionou ENTER. Considerando que essa pasta contém os arquivos a seguir, assinale a alternativa que indica quais serão apresentados como resultado da pesquisa.

Ata reuniao.txt
controle reuniões.txt
reuniao.txt
reunião fevereiro.txt
Seguranca na reunião2.txt

- (A) Ata reuniao.txt, reuniao.txt e Seguranca na reunião2.txt, apenas
- (B) reuniao.txt, apenas
- (C) Ata reuniao.txt, controle reuniões.txt, reuniao.txt, reunião fevereiro.txt e Seguranca na reunião2.txt
- (D) Ata reuniao.txt e reuniao.txt, apenas
- (E) Ata reuniao.txt, reuniao.txt, reunião fevereiro.txt e Seguranca na reunião2.txt
27. Em um novo documento em branco criado no Microsoft Word 2019, em sua configuração padrão, um usuário está redigindo um texto na primeira linha, com a formatação negrito, itálico e cor da fonte vermelho. Ao pressionar ENTER para digitar um novo texto na segunda linha, assinale a alternativa que indica quais formatações são mantidas.
- (A) Negrito, itálico, cor da fonte vermelho.
- (B) Negrito e itálico, apenas.
- (C) Itálico, apenas.
- (D) Negrito e cor da fonte vermelho, apenas.
- (E) Negrito, apenas.

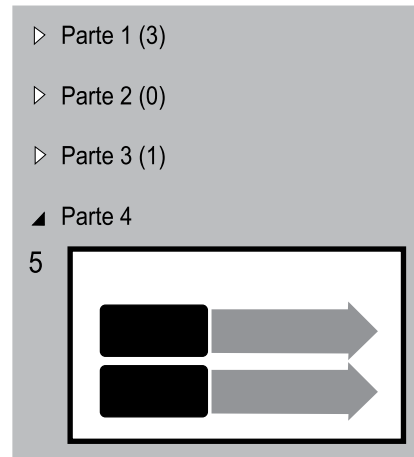
28. Tem-se a seguinte planilha, criada no Microsoft Excel 2019, em sua configuração original.

	A
1	1
2	2
3	3
4	2

A célula A4 contém a fórmula =MÉDIA(A1:A3). Se o usuário selecionar a célula A3 e apagar o seu conteúdo, pressionando a tecla Del, o resultado apresentado na célula A4 será:

- (A) 0
- (B) 1
- (C) 1,5
- (D) 3
- (E) #ERRO

29. Tem-se a seguinte apresentação, criada no Microsoft PowerPoint 2019, em sua configuração original, onde os slides estão agrupados em seções.



Ao selecionar a seção Parte 1, pressionar Del e confirmar quaisquer eventuais perguntas que o PowerPoint faça, assinale a alternativa que indica quantos slides serão apagados e quantos slides restarão na apresentação.

- (A) 1 e 4.
- (B) 3 e 1.
- (C) 3 e 2.
- (D) 4 e 1.
- (E) 5 e 0.
30. Usando o Microsoft Outlook 2019, em sua configuração padrão, um usuário criou uma regra para mover mensagens específicas para algumas pastas. Depois de algum tempo, o usuário recebeu uma mensagem que atendia a esses critérios e que foi armazenada diretamente, de forma automática, na pasta Mensagens Corporativas, em vez da pasta Caixa de Entrada. Ao apagar essa regra
- (A) as novas mensagens recebidas, que atendem a esses mesmos critérios, serão armazenadas na pasta Rascunhos.
- (B) as mensagens existentes na pasta Mensagens Corporativas serão também apagadas.
- (C) as mensagens existentes na pasta Mensagens Corporativas serão movidas para a pasta Caixa de Entrada.
- (D) as mensagens existentes na pasta Mensagens Corporativas serão marcadas como não lidas.
- (E) as novas mensagens recebidas, que atendem a esses mesmos critérios, serão armazenadas na pasta Caixa de Entrada.

CONHECIMENTOS ESPECÍFICOS

- 31.** Entre os diversos tipos, a armazenagem por frequência caracteriza-se por
- (A) facilitar a arrumação, mesmo que seja em detrimento do aproveitamento do espaço.
 - (B) ser necessária em armazenagem de gases especiais, inflamáveis e até mesmo de produtos perecíveis.
 - (C) diminuir os custos com instalações, sendo muito utilizada na construção civil e metalúrgica.
 - (D) promover ótimo aproveitamento do espaço, mesmo que seja em detrimento da arrumação.
 - (E) ser a acomodação que leva em consideração a logística para facilitação da saída de certos produtos.
- 32.** O Almoxarifado é o local destinado à guarda, localização, segurança e preservação do material adquirido, adequado à sua natureza, a fim de suprir as necessidades operacionais dos setores integrantes da estrutura organizacional de uma empresa. Constitui uma função da atividade de almoxarifado:
- (A) garantir o abastecimento de materiais para a companhia, neutralizando os efeitos da demora ou atraso no fornecimento de materiais.
 - (B) garantir o abastecimento de materiais para a companhia, neutralizando os efeitos da sazonalidade no suprimento.
 - (C) garantir o abastecimento de materiais para a companhia, neutralizando os efeitos dos riscos de dificuldade no fornecimento.
 - (D) registrar as notas fiscais dos materiais recebidos.
 - (E) proporcionar economias de escala por meio da compra ou produção em lotes econômicos.
- 33.** Os estoques são definidos por tudo aquilo que precisa ser armazenado ou estocado em determinados locais de uma organização. É uma função da atividade de estoques:
- (A) receber e conferir os materiais adquiridos ou cedidos de acordo com o documento de compra (Nota de Empenho e Nota Fiscal) ou equivalentes.
 - (B) receber, conferir, armazenar e registrar os materiais em estoque, desde que comprados.
 - (C) induzir economias de escala por meio da flexibilidade do processo produtivo.
 - (D) encaminhar ao Departamento de Contabilidade e Finanças as notas fiscais para pagamento.
 - (E) elaborar estatísticas de consumo por materiais e centros de custos para previsão das compras.
- 34.** Um material pode ser classificado como de consumo, caso atenda ao critério da incorporabilidade, que determina que esse mesmo material
- (A) em seu uso normal perde ou tem reduzidas as suas condições de funcionamento, no prazo máximo de dois anos.
 - (B) pode ser utilizado para a constituição de novos bens, melhoria ou adições complementares de bens em utilização ou para a reposição de peças para manutenção.
 - (C) apresenta estrutura quebradiça, deformável ou danificável, caracteriza sua irrecuperabilidade e determina a perda de sua identidade ou funcionalidade.
 - (D) está sujeito a modificações (químicas ou físicas) ou se deteriora ou perde sua característica pelo uso normal.
 - (E) foi adquirido para fim de transformação.
- 35.** O inventário cíclico diferencia-se do inventário anual na medida em que seu objetivo é
- (A) determinar o valor do estoque e ajustar a precificação decorrente da metodologia FIFO.
 - (B) determinar a quantidade do estoque e ajustar a precificação decorrente da metodologia LIFO.
 - (C) não apenas encontrar eventuais erros no estoque, mas, principalmente, identificar a causa do erro e corrigi-la.
 - (D) determinar os valores contábeis do estoque e ajustar a precificação decorrente da metodologia de custo médio ponderado.
 - (E) transformar insumos (recursos tangíveis ou não) em recursos acabados de forma eficaz, consumindo o mínimo de recursos e agregando valor para a empresa.
- 36.** Facilitar a comunicação interna na empresa no que se refere a materiais e compras; evitar a duplicidade de itens no estoque; permitir as atividades de gestão de estoques e compras; facilitar a padronização de materiais e facilitar o controle contábil dos estoques representam objetivos do conceito de
- (A) Gestão estratégica.
 - (B) Codificação de materiais.
 - (C) Indicadores de desempenho.
 - (D) Gerenciamento de almoxarifado.
 - (E) Logística integrada.

37. O trabalhador A, após uma despreziosa conversa em um encontro de ex-funcionários, fica sabendo que o trabalhador B tem acesso a dados estratégicos sobre a empresa em que trabalha e esta empresa é concorrente daquela do trabalhador A. O trabalhador A lhe oferece uma “comissão” para que o mantenha informado das ações programadas pela concorrente e, ainda, oferece um emprego no mesmo nível, caso o trabalhador B venha a ser demitido se for descoberto. O vazamento de informações privilegiadas é descoberto, o trabalhador B é demitido e o trabalhador A, sabendo do ocorrido, não cumpre a sua proposta de conceder um emprego para o trabalhador B. Essa situação descreve que
- (A) o trabalhador A exerceu o poder manipulativo, enquanto o B incidiu em demagogia.
 - (B) o trabalhador A exerceu o poder coercitivo, enquanto o B incidiu em tirania.
 - (C) o trabalhador A exerceu a tirania, enquanto o B incidiu em concorrência desleal.
 - (D) o trabalhador A exerceu a concorrência desleal, enquanto o B incidiu em conflito de comunicação.
 - (E) tanto o trabalhador A quanto o B incidiram em um desvio de conduta ética profissional.
38. O *Chief Financial Officer* da empresa ABC deverá optar por uma apólice de veículos para cobrir a frota de automóveis da companhia, apenas para o exercício de 2021, e sua escolha será pela modalidade:
- (A) Valor de mercado referenciado.
 - (B) Apólice avulsa.
 - (C) Seguro garantia judicial.
 - (D) Apólice anual com prêmio fracionado.
 - (E) Seguros de garantia estendida – eletros.
39. Esta modalidade de carga é recomendada para as empresas que realizam embarques com frequência. Nesta condição, as mercadorias devem ser relacionadas no documento pelo qual o dono da mercadoria comunica à seguradora a realização dos embarques. Ou seja, para cada embarque se faz necessário um novo documento, com todas as características que envolvem o transporte da carga. Trata-se da modalidade:
- (A) Apólice avulsa.
 - (B) Seguro garantia judicial.
 - (C) Seguro garantia.
 - (D) Apólice de averbação.
 - (E) Apólice anual com prêmio fracionado.
40. Assinale a alternativa que apresenta os respectivos conceitos, preenchendo, correta e respectivamente, os espaços do texto.
- “No caso de ocorrência de um sinistro, o segurado deverá contatar a (o) _____ mais próximo e solicitar que seja lavrada a ocorrência com a emissão do respectivo _____, comunicando o sinistro, o mais breve possível, à Seguradora. Deverá também preencher o _____ e juntar os documentos necessários, conforme relação constante das (dos) _____ para a liquidação do sinistro, para ter direito à (ao) _____.”
- (A) central da seguradora ... Aviso de Sinistro ... Boletim de Ocorrências (BO) ou BRAT ... apólices ... indenização
 - (B) central da seguradora ... Aviso de Sinistro ... Boletim de Ocorrências (BO) ou BRAT ... contratos de seguro ... *maintenance bond*
 - (C) policial ... BRAT ... Boletim de Ocorrências (BO) ... seguro dotal ... *maintenance bond*
 - (D) policial ... Boletim de Ocorrências (BO) ou BRAT ... Aviso de Sinistro ... Condições Contratuais ... indenização
 - (E) policial ... Boletim de Ocorrências ... BRAT ... seguro dotal ... prêmio
41. O impacto ambiental expressa a ideia de qualquer alteração das propriedades físicas, químicas e biológicas do meio ambiente, causada por qualquer forma de matéria ou energia resultante das atividades humanas que, direta ou indiretamente, afetam a saúde, a segurança e o bem-estar da população; as atividades sociais e econômicas; a biota; as condições estéticas e sanitárias do meio ambiente; e a qualidade dos recursos ambientais. Por biota entende-se
- (A) o conjunto de todos os seres vivos de um determinado ambiente ou de um determinado período.
 - (B) um sistema de classificar as comunidades biológicas e ecossistemas com base em semelhanças de suas características vegetais.
 - (C) os pontos de referência convenientes para compassar processos ecológicos em diversos tipos de comunidades e ecossistemas.
 - (D) o lugar onde se desenvolve a vida.
 - (E) as condições ambientais em que se processa a vida animal e vegetal da terra.

42. Grandes caixas, normalmente de metal, que são utilizadas para o acondicionamento de diversos produtos que serão enviados a um mesmo destino, amplamente utilizadas nos portos e que quando chegam ao destino, são esvaziadas e reutilizadas para novas cargas, são denominadas:
- (A) cargas pré-lingadas.
 - (B) contêineres.
 - (C) tipo especial de unitização.
 - (D) pallet de 4 entradas.
 - (E) cargas paletizadas.
43. Criados pela Associação Brasileira de Supermercados, no ano de 1988, para padronizar o pallet no país, com a medida de 1,20 m por 1,00 m, esses pallets são usados para transportar e estocar diversos tipos de produtos, podendo ser fabricados de diferentes materiais, de acordo com o produto que será paletizado, e são denominados:
- (A) para exportação.
 - (B) descartáveis.
 - (C) PBR.
 - (D) *one way*.
 - (E) para movimentação.
44. A diferença entre os pallets para o mercado interno e aqueles para a exportação é:
- (A) o padrão de 1,20 m por 1,00 m para o local, e 2,20 m por 1,70 m para o internacional.
 - (B) o material de plástico utilizado apenas no internacional, que é mais indicado para empresas do meio alimentício e pela indústria farmacêutica.
 - (C) a capacidade de conseguir realizar curvas durante o trajeto no modelo internacional.
 - (D) serem acomodados em cargas aéreas e marítimas apenas no caso dos internacionais.
 - (E) o tratamento fitossanitário que ele recebe com o propósito de eliminar espécies de seres vivos que possam estar nas madeiras.
45. Os estoques constituem todo o sortimento de materiais que a empresa possui e se utiliza no processo de produção de seus produtos ou serviços. Também conhecido como estoque em trânsito, ele é aquele em que os produtos estão no percurso entre o fabricante e o revendedor e denomina-se
- (A) canal.
 - (B) antecipação.
 - (C) ciclo.
 - (D) proteção.
 - (E) consumo.
46. A Nota Fiscal de Venda Consignada é utilizada quando
- (A) uma empresa comercializa determinada mercadoria e efetua o faturamento antes da entrega.
 - (B) o fornecedor A vende o produto para o adquirente originário B, que, por sua vez, solicita que a entrega seja efetuada diretamente de A para o destinatário C, que adquiriu a mercadoria de B.
 - (C) é utilizada para acompanhamento de mercadorias ou bens.
 - (D) simplifica o controle de movimentação de mercadorias e permite comprovar a procedência da carga em caso de fiscalização da Receita.
 - (E) os produtos de uma determinada empresa ficam a cargo de outra empresa ou pessoa para que ela apresente as mercadorias ao público consumidor, ficando responsável pela prospecção e venda.
47. Ajudar a organização a alcançar seus objetivos e realizar sua missão; proporcionar competitividade à organização; proporcionar à organização empregados bem treinados e bem motivados; proporcionar a auto-atualização e a satisfação no trabalho; desenvolver a qualidade de vida no trabalho; administrar a mudança e manter políticas éticas e comportamento socialmente responsável são objetivos do conceito de
- (A) Gestão estratégica.
 - (B) Indicadores de desempenho.
 - (C) Gerenciamento de projetos.
 - (D) Gestão de pessoas.
 - (E) Logística integrada.
48. De acordo com o art. 55 da Lei Orgânica do Município da Estância Balneária de Ilhabela, a gratuidade dos transportes coletivos é praticada para os
- (A) maiores de 50 anos de idade, bastando a apresentação da carteira de identidade – RG.
 - (B) maiores de 55 anos de idade, bastando a apresentação do CPF.
 - (C) maiores de 60 anos de idade, bastando a apresentação da carteira de identidade – RG.
 - (D) maiores de 65 anos de idade, bastando a apresentação da certidão de nascimento.
 - (E) maiores de 70 anos de idade, bastando a apresentação da certidão de casamento.

49. Em conformidade com o parágrafo único do art. 3º da Lei Orgânica do Município da Estância Balneária de Ilhabela, as questões relevantes aos destinos do Município poderão ser submetidas a plebiscitos ou referendo por proposta do Executivo, por

- (A) 1/2 dos Vereadores ou por, pelo menos, 25% do eleitorado, sendo a proposta aprovada por voto da maioria simples dos membros da Câmara Municipal.
- (B) 1/3 dos Vereadores ou por, pelo menos, 10% do eleitorado, sendo a proposta aprovada por voto da maioria absoluta dos membros da Câmara Municipal.
- (C) 1/3 dos Vereadores ou por, pelo menos, 25% do eleitorado, sendo a proposta aprovada por voto da maioria simples dos membros da Câmara Municipal.
- (D) 1/4 dos Vereadores ou por, pelo menos, 15% do eleitorado, sendo a proposta aprovada por voto da maioria simples dos membros da Câmara Municipal.
- (E) 1/5 dos Vereadores ou por, pelo menos, 30% do eleitorado, sendo a proposta aprovada por voto da maioria absoluta dos membros da Câmara Municipal.

50. O recebimento de mercadorias é o processo que ocorre assim que as mercadorias adquiridas com os fornecedores são entregues na empresa. No processo de recebimento de mercadorias, o processo que pode dar origem a uma ou mais das seguintes situações: liberação de pagamento ao fornecedor; liberação parcial de pagamento ao fornecedor; reclamação de falta ao fornecedor; entrada do material no estoque ou devolução de material ao fornecedor é:

- (A) Regularização.
- (B) Conferência qualitativa.
- (C) Conferência quantitativa.
- (D) Aceitação.
- (E) Descarregamento.

